

Вариант № 815672

1. Задание 29 № 2700. Рассмотрите схему и выполните задание



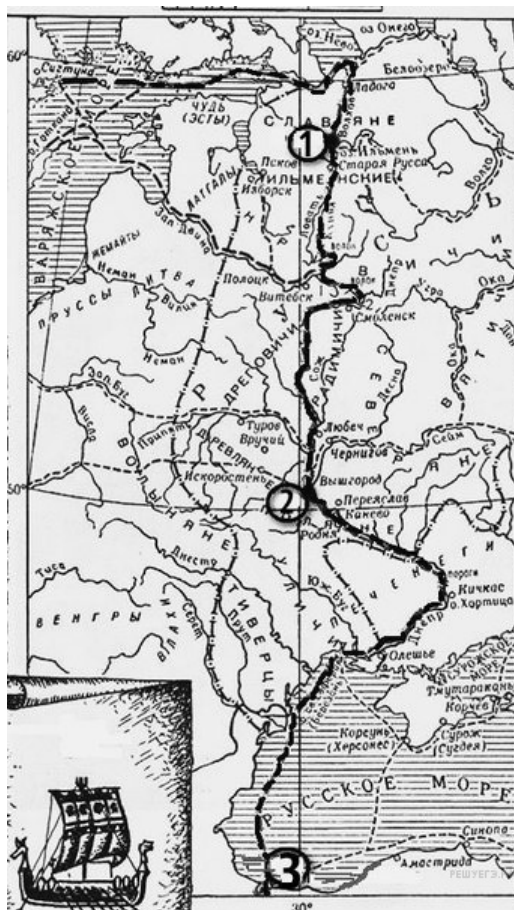
Напишите название отмеченного на карте пути.

Пояснение.

На карте Древней Руси изображен торговый путь из варяг в греки, который проходил по рекам Русской равнины.

Ответ: из варяг в греки|путь из варяг в греки

2. Задание 30 № 2701. Рассмотрите схему и выполните задание



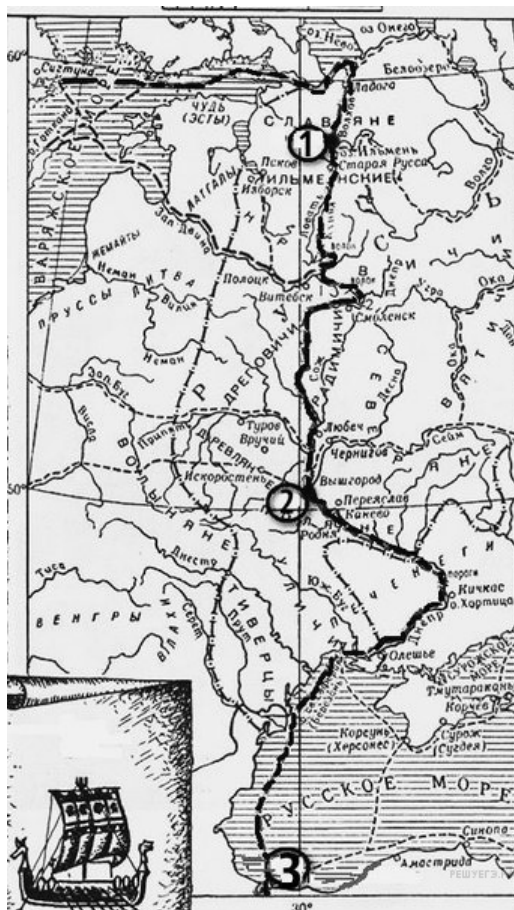
Напиши имя князя, который установил контроль над этим торговым путем.

Пояснение.

В 882 г. князь Олег объединил Киев и Новгород, тем самым установил контроль над русскими землями вдоль пути «из варяг в греки».

Ответ: Олег

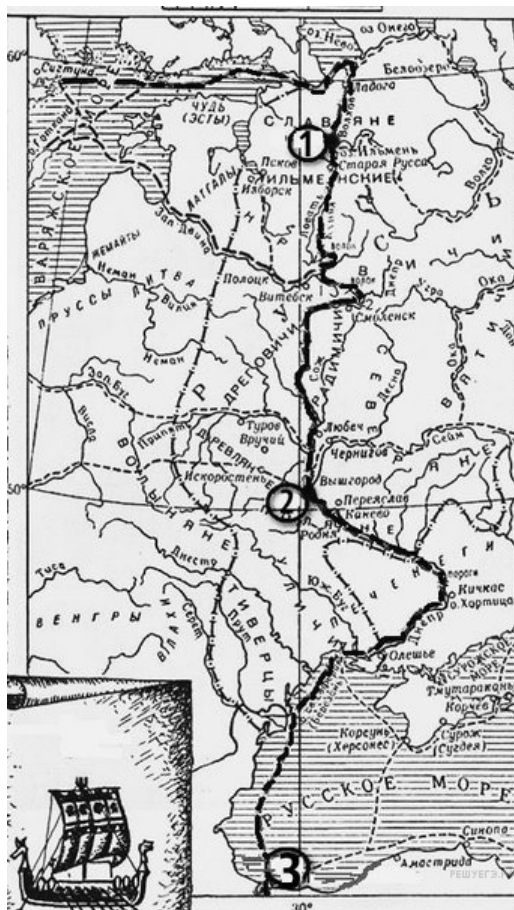
3. Задание 31 № 2702. Рассмотрите схему и выполните задание



Напиши цифру, обозначающую город, который на Руси называли Царьград.
Пояснение.

На Руси Царьградом называли Константинополь — столицу Византии.
 Ответ: 3

4. Задание 32 № 2703. Рассмотрите схему и выполните задание



Какие суждения, относящиеся к событиям, обозначенным на схеме, являются верными? Выберите три суждения из шести предложенных. Запишите в таблицу цифры, под которыми они указаны.

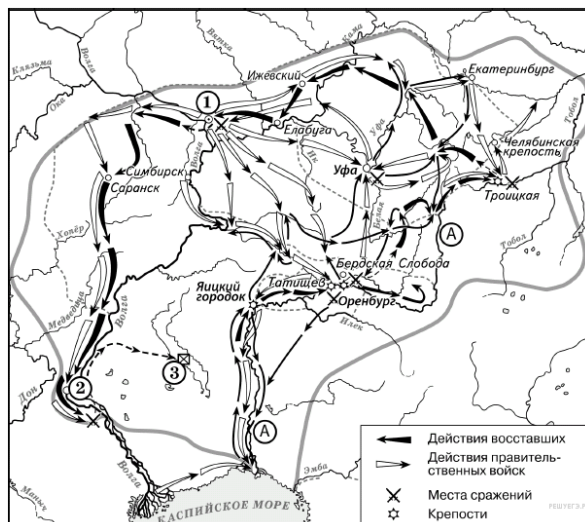
- 1) Этот торговый путь был одним из важнейших в Европе в этот период.
- 2) Основным торговым партнером Руси в этот период была Византия.
- 3) Русские князья начали совершать военные походы на Византию в начале X века.
- 4) Основными союзниками русских князей в конце IX — начале X века были печенеги.
- 5) Основными предметами экспорта были благовония и фрукты.
- 6) Население Древней Руси платило дань великому князю за управление русскими землями.

Пояснение.

На карте Древней Руси изображен торговый путь «из варяг в греки», который проходил по рекам Русской равнины. Этот торговый путь был одним из самых важных в Европе в этот период. Основным торговым партнером Руси в этот период была Византия. Население Древней Руси платило дань великому князю за управление русскими землями. Русские князья совершали военные походы на владения Византийской империи в IX—XI веках.

Ответ: 126

5. Задание 29 № 4818. Укажите век, в котором происходили события, обозначенные на схеме.
 Ответ запишите словом.

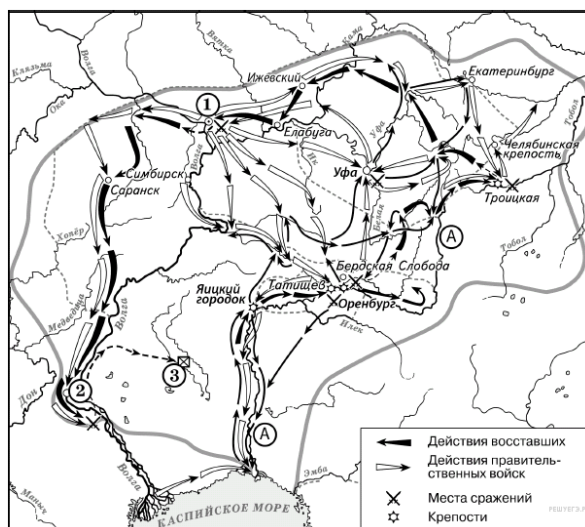


Пояснение.

Это карта Крестьянской войны Пугачева 1773–1775 гг.

Ответ: восемнадцатый

6. Задание 30 № 4819. Напишите название реки, обозначенной буквой «А», после завершения изображённых на схеме событий.

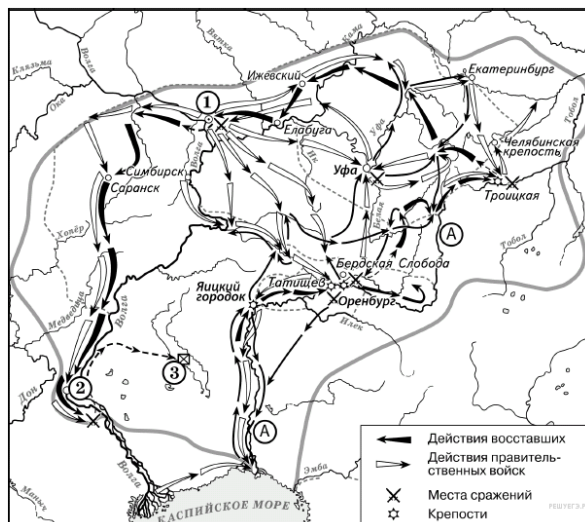


Пояснение.

После завершения Крестьянской войны Пугачева река Яик была переименована в Урал.

Ответ: Урал

7. Задание 31 № 4820. Напишите название города, обозначенного на схеме цифрой «1», у которого войска, чьи действия обозначены белыми стрелками, одержали победу.

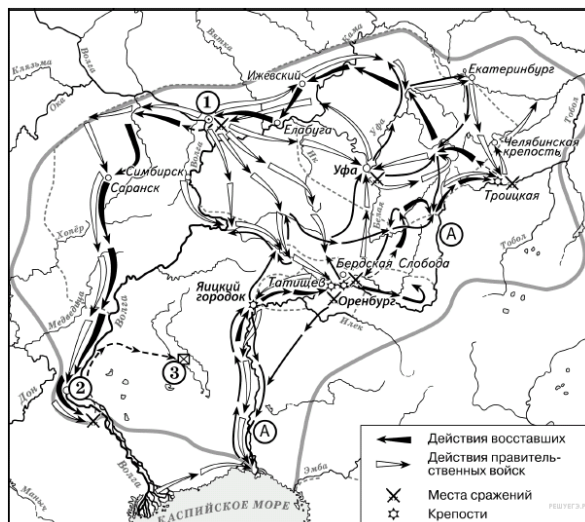


Пояснение.

Белыми стрелками на карте обозначены действия правительственных войск, решающую победу они одержали под Казанью.

Ответ: Казань

8. Задание 32 № 4821. Какие суждения, относящиеся к данной схеме, являются верными? Выберите три суждения из шести предложенных. Запишите в таблицу цифры, под которыми они указаны.



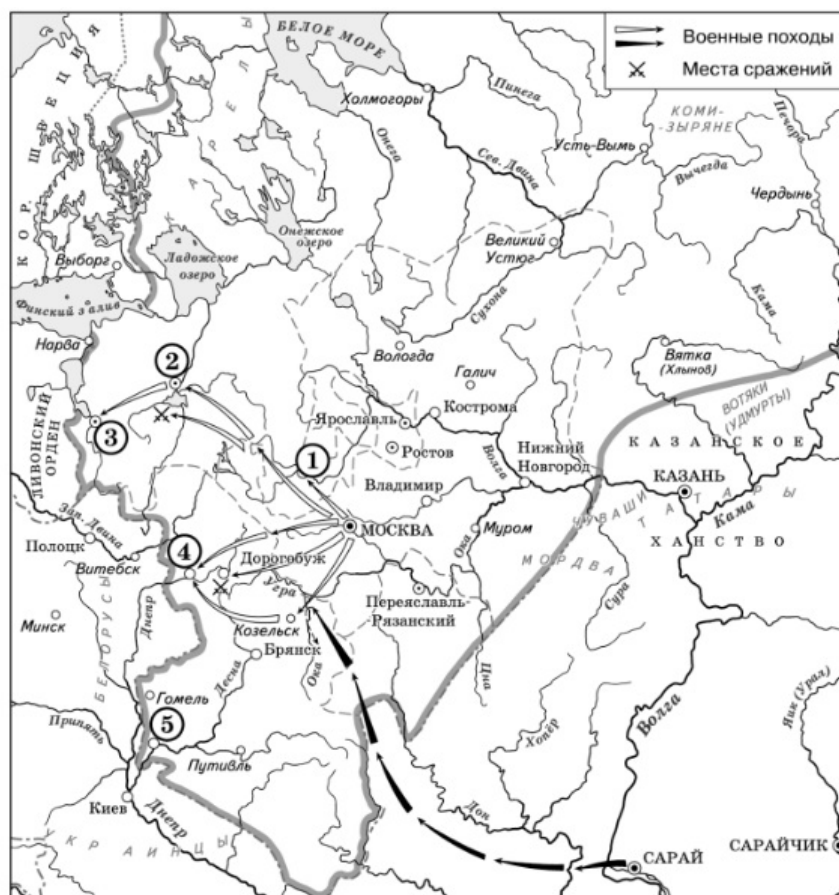
- 1) На схеме изображён ход крупнейшего народного восстания.
- 2) Участником событий, изображённых на схеме, был казачий атаман Василий Ус.
- 3) Вооружённые отряды, действия которых обозначены чёрными стрелками, состояли только из казаков и государственных крестьян.
- 4) У города, обозначенного на схеме цифрой «2», войска, действия которых обозначены чёрными стрелками, одержали крупную победу.
- 5) Цифрой «3» на схеме обозначено место пленения предводителя вооружённых отрядов, действия которых обозначены чёрными стрелками.
- 6) После завершения событий, обозначенных на схеме, в Российской империи была проведена губернская реформа.

Пояснение.

- 1) На схеме изображён ход крупнейшего народного восстания. ДА, верно. Это крестьянская война Пугачева
- 2) Участником событий, изображённых на схеме, был казачий атаман Василий Ус. НЕТ, неверно. Василий Ус был участником Крестьянской войны Разина.
- 3) Вооружённые отряды, действия которых обозначены чёрными стрелками, состояли только из казаков и государственных крестьян. НЕТ, неверно, там было много нерусских народов и крепостных крестьян.
- 4) У города, обозначенного на схеме цифрой «2», войска, действия которых обозначены чёрными стрелками, одержали крупную победу. НЕТ, неверно. Они там потерпели поражение.
- 5) Цифрой «3» на схеме обозначено место пленения предводителя вооружённых отрядов, действия которых обозначены чёрными стрелками. ДА, верно.
- 6) После завершения событий, обозначенных на схеме, в Российской империи была проведена губернская реформа. ДА, верно.

Ответ: 156

9. Задание 29 № 3373. Рассмотрите схему и выполните задания



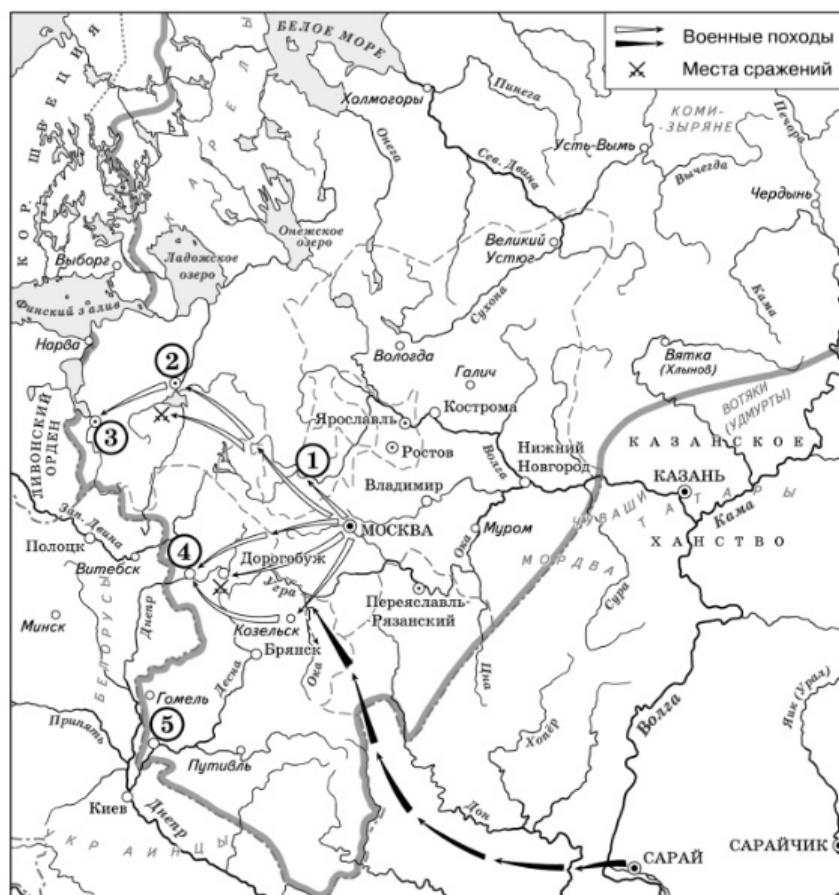
Назовите князя, в годы правления которого в состав единого Русского государства вошли города, обозначенные на схеме цифрами «1» и «2».

Пояснение.

Тверь (1485 г.). Новгород (1478 г.) вошли в состав единого Русского государства при Иване III.

Ответ: Иван III | Иван Третий

10. Задание 30 № 3374. Рассмотрите схему и выполните задания



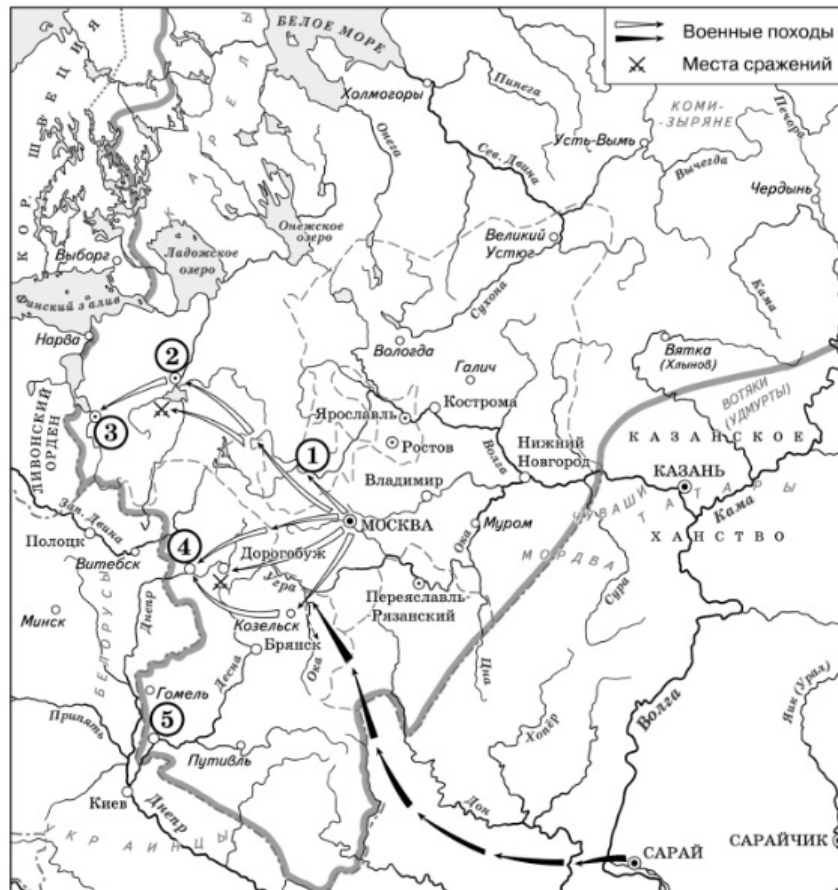
Укажите век, когда в состав единого Русского государства вошли города, обозначенные на схеме цифрами «3», «4» и «5» (ответ напишите словом).

Пояснение.

Псков (1510 г), Смоленск (1514 г), Чернигов (1503 г).

Ответ: шестнадцатый

11. Задание 31 № 3375. Рассмотрите схему и выполните задания



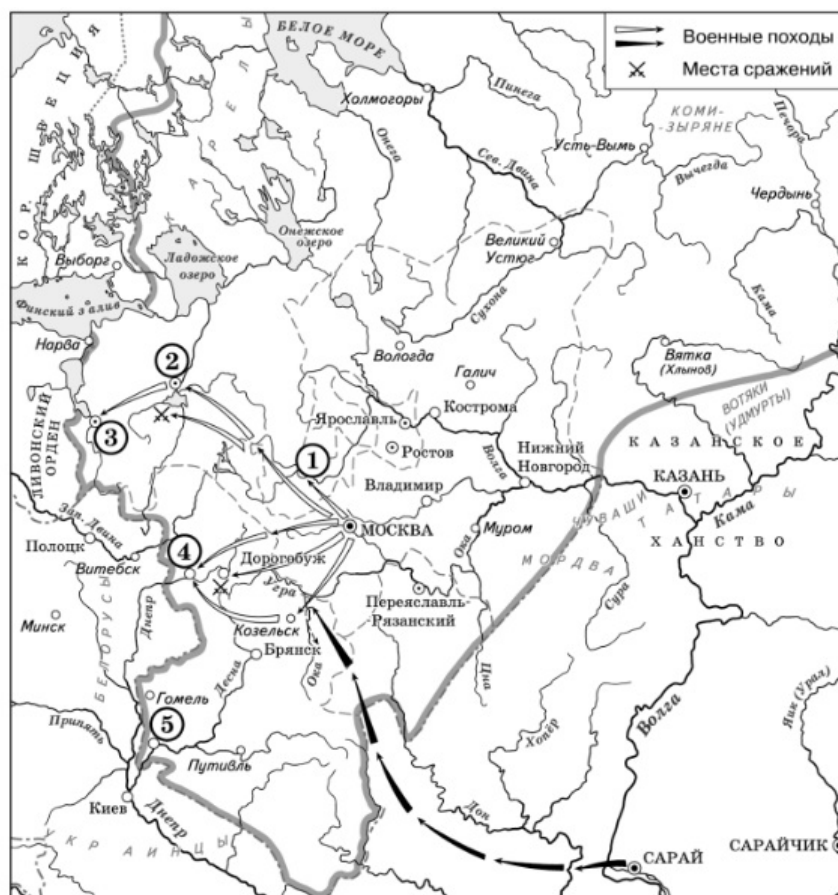
Назовите князя, при котором Русское государство достигло границ, обозначенных на схеме жирной чертой.

Пояснение.

Исходя из карты: Рязань и Смоленск — уже наши, а Казань еще нет. Это время Василия Третьего.

Ответ: Василий Третий.

12. Задание 32 № 3376. Рассмотрите схему и выполните задания



Какие суждения, относящиеся к данной схеме, являются верными? Выберите три суждения из шести предложенных. Запишите в таблицу цифры, под которыми они указаны.

- 1) В городах, обозначенных цифрами «2» и «3», до вхождения в состав единого Русского государства существовала республиканская форма правления.
- 2) Следствием провала похода, обозначенного чёрными стрелками, стало освобождение Русского государства от ордынского ига.
- 3) Город, обозначенный цифрой «1», вошёл в состав единого Русского государства в 1478 г.
- 4) Ордынское войско в походе, обозначенном чёрными стрелками, возглавлял Мамай.
- 5) Город, обозначенный цифрой «2», вошёл в состав единого Русского государства в 1485 г.
- 6) Города, обозначенные цифрами «4» и «5», были отвоёваны Русским государством у Великого княжества Литовского.

Пояснение.

1) В городах, обозначенных цифрами «2» и «3», до вхождения в состав единого Русского государства существовала республиканская форма правления. Да, верно. В Новгороде и Пскове существовала ранее республиканская форма правления.

2) Следствием провала похода, обозначенного чёрными стрелками, стало освобождение Русского государства от ордынского ига. Да, верно. Это поход Ахмата на Русь в 1480 г.

3) Город, обозначенный цифрой «1», вошёл в состав единого Русского государства в 1478 г. Нет, неверно. Тверь вошла в состав Русского государства в 1485 г.

4) Ордынское войско в походе, обозначенном чёрными стрелками, возглавлял Мамай. Нет, неверно. Мамай не мог возглавлять ордынское войско в 1480 г. был убит на 100 лет раньше.

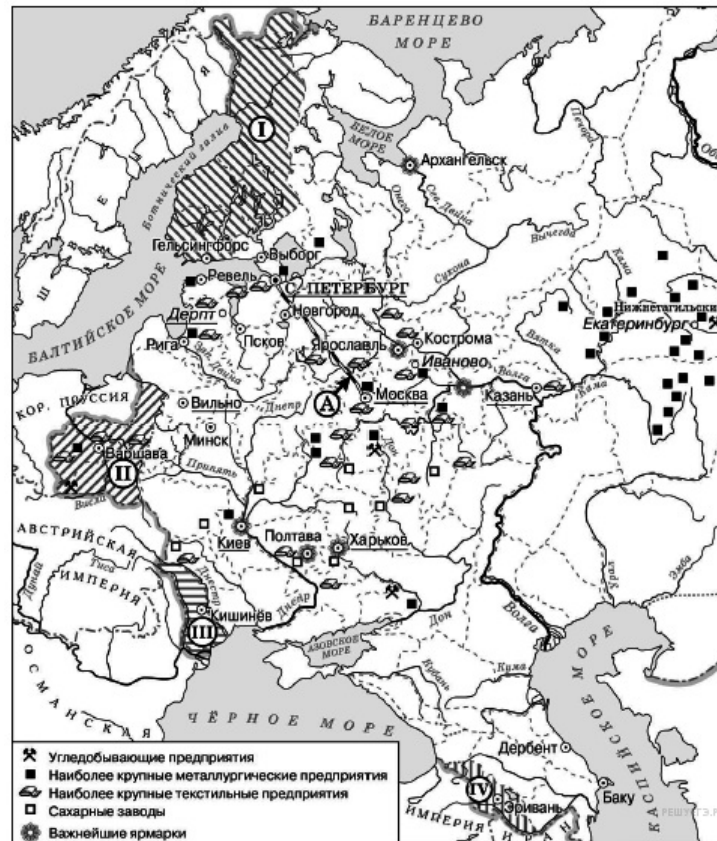
5) Город, обозначенный цифрой «2», вошёл в состав единого Русского государства в 1485 г. Нет, неверно. Новгород вошел в состав единого государства в 1478 г.

6) Города, обозначенные цифрами «4» и «5», были отвоёваны Русским государством у Великого княжества Литовского. Да, правильно. Смоленск и Чернигов отвоёвывали у Литвы.

Ответ: 126

13. Задание 29 № 5700. Заполните пропуск в предложении: «Территория, обозначенная на схеме цифрой II, была присоединена к Российской империи в тысяча восемьсот _____ годах».

Ответ запишите словом.

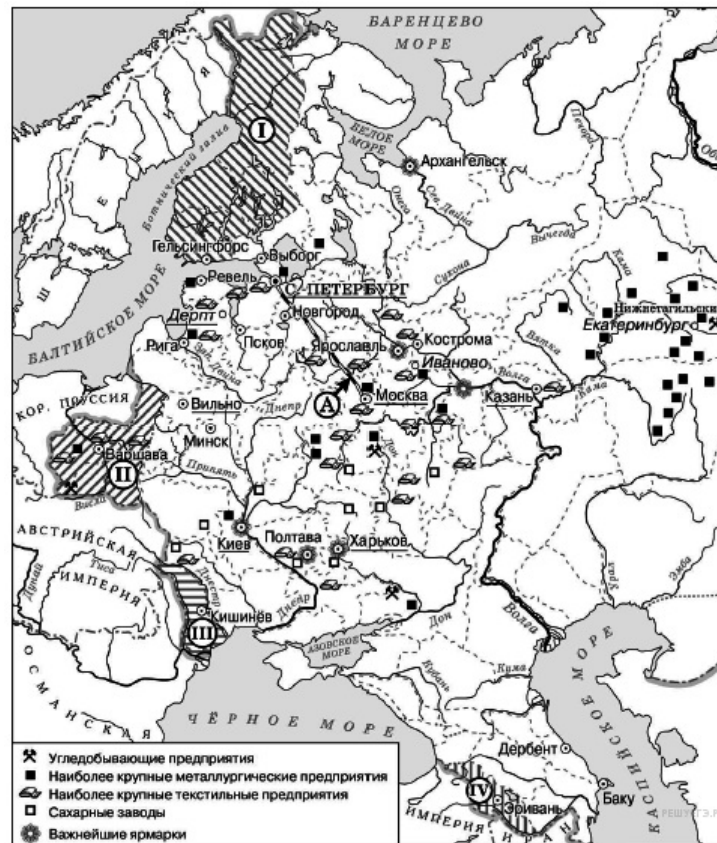


Пояснение.

Польша вошла в состав Российской империи по решению Венского мирного конгресса 1815г.

Ответ: десятых

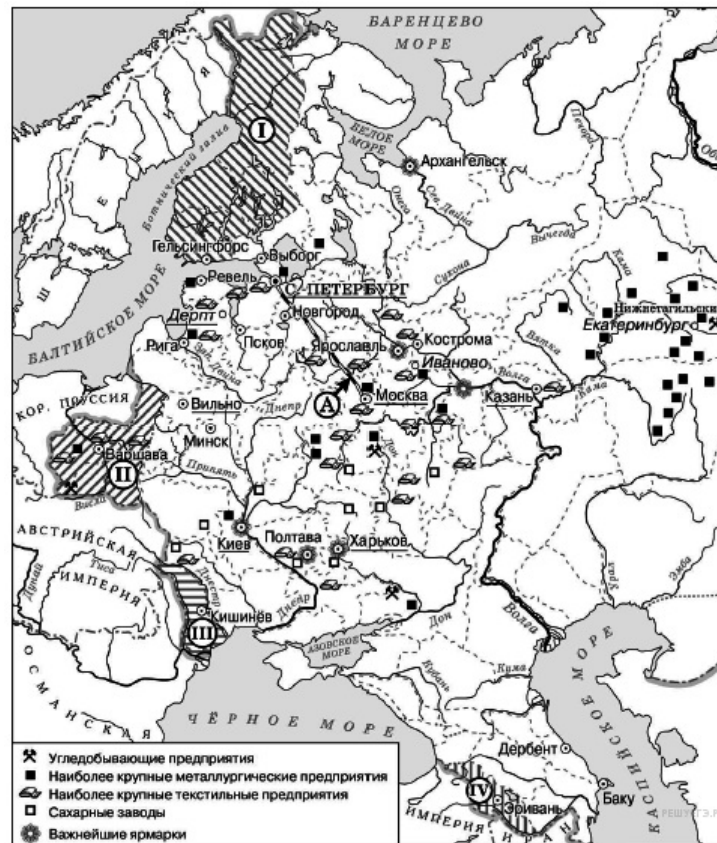
14. Задание 29 № 5701. Назовите императора, в период правления которого к Российской империи была присоединена территория, обозначенная на схеме цифрой «IV».



Пояснение.

Эриванское и Нахичеванское ханства были присоединены при Николае I
 Ответ: Николай Первый

15. Задание 29 № 5702. Укажите название географического региона России, где было сконцентрировано большинство крупных металлургических предприятий.

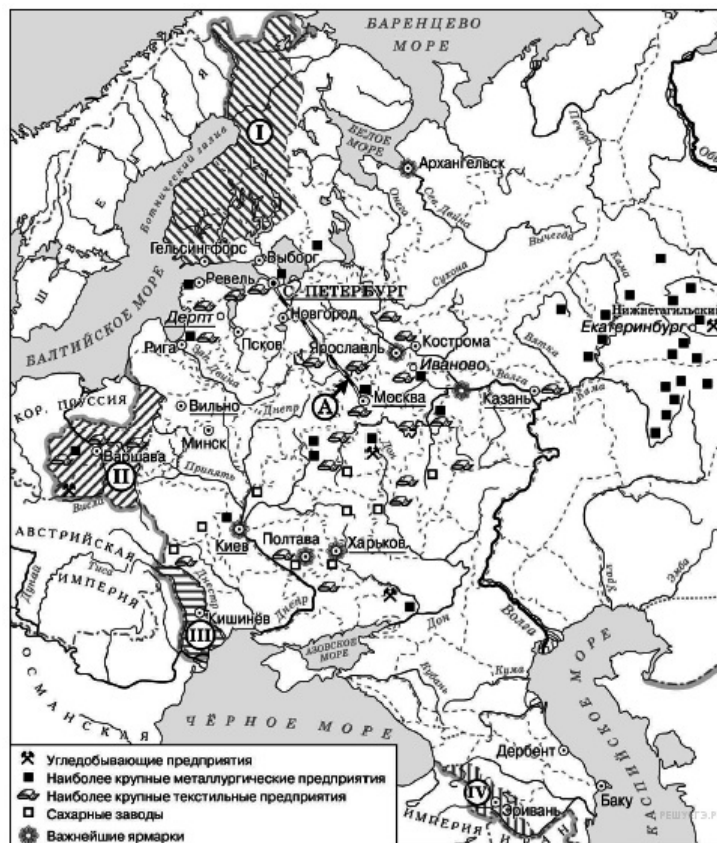


Пояснение.

Нижнетагильский, Екатеринбург относятся к Уралу.

Ответ: Урал

16. Задание 32 № 5703. Какие суждения, относящиеся к схеме, являются верными? Выберите три суждения из шести предложенных. Запишите в таблицу цифры, под которыми они указаны.



- 1) Железная дорога, обозначенная на схеме буквой «А», была построена в 1830-х гг.
- 2) Территории, обозначенные на схеме цифрами «I» и «II», были присоединены к Российской империи в период правления одного и того же императора.
- 3) Территория, обозначенная на схеме цифрой «III», была присоединена к России в результате войны с Австрийской империей.
- 4) В Полтаве находилась одна из важнейших российских ярмарок.
- 5) Все города, обозначенные на схеме, сохранили свои названия до наших дней.
- 6) На территории, обозначенной на схеме цифрой «II», в XIX в. произошли два крупных восстания.

Пояснение.

1) Железная дорога, обозначенная на схеме буквой «А», была построена в 1830-х гг. НЕТ, неверно. 13 февраля 1842 года Николай I подписал указ о строительстве железной дороги Санкт-Петербург - Москва. Уже в 1851 году из Петербурга отправился первый поезд. В 1855 году, после кончины императора, железная дорога получила название Николаевской, а в 1923 была переименована в Октябрьскую.

2) Территории, обозначенные на схеме цифрами «I» и «II», были присоединены к Российской империи в период правления одного и того же императора. ДА, верно. При Александре I

3) Территория, обозначенная на схеме цифрой «III», была присоединена к России в результате войны с Австрийской империей. НЕТ, неверно, после победы над Турцией в 1812г

4) В Полтаве находилась одна из важнейших российских ярмарок. ДА, верно.

5) Все города, обозначенные на схеме, сохранили свои названия до наших дней. НЕТ, неверно Гельсингфорс - Хельсинки. Ревель - Таллин.

6) На территории, обозначенной на схеме цифрой «II», в XIX в. произошли два крупных восстания. ДА, верно

Правильный ответ: 246

Ответ: 246

17. Задание 29 № 4778. Назовите монарха, в период правления которого в состав Российского государства вошёл город, обозначенный на схеме цифрой «3».

**Пояснение.**

Под цифрой 3 здесь обозначен Киев, который вошел в состав России в 1654 г.

Ответ: Алексей Михайлович

18. Задание 30 № 4779. Заполните пропуск в предложении: «Одна из крупнейших ярмарок России в XVII–XVIII вв. — _____ — обозначена на схеме цифрой "4"».



Пояснение.

Это Макарьевская ярмарка под Нижним Новгородом.

Ответ: макарьевская

19. Задание 31 № 4780. Заполните пропуск в предложении: «Цифрой "1" на схеме обозначен город _____, в непосредственной близости от которого были построены первые в России железодельательные заводы».



Пояснение.


Цифрой «1» на карте обозначена Тула.


Ответ: Тула

20. Задание 32 № 4781. Какие суждения, относящиеся к данной схеме, являются верными? Выберите три суждения из шести предложенных. Запишите в таблицу цифры, под которыми они указаны.



1) Крупными центрами кожевенного производства согласно схеме были Тверь, Калуга, Смоленск.

2) Горизонтальной штриховкой  на схеме обозначены районы, специализировавшиеся на пушном промысле.

3) Точечным узором  на схеме обозначен основной район производства льна и пеньки.

4) Цифрой «6» на схеме обозначена река, название которой было изменено в результате крупного народного восстания, произошедшего в том же веке, в котором установились границы Европейской части России, обозначенные на схеме.

5) Цифрой «5» на схеме обозначен город, вошедший в состав Российского государства в период правления Ивана IV.

6) Цифрой «2» на схеме обозначен Архангельск.

Пояснение.

1) Крупными центрами кожевенного производства согласно схеме были Тверь, Калуга, Смоленск. НЕТ, неверно

2) Горизонтальной штриховкой на схеме обозначены районы, специализировавшиеся на пушном промысле. ДА, верно.

3) Точечным узором на схеме обозначен основной район производства льна и пеньки. НЕТ, неверно.

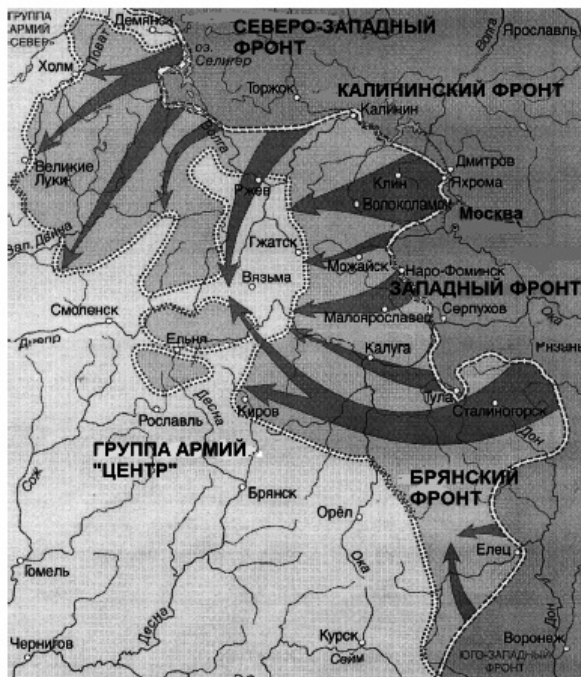
4) Цифрой «6» на схеме обозначена река, название которой было изменено в результате крупного народного восстания, произошедшего в том же веке, в котором установились границы Европейской части России, обозначенные на схеме. НЕТ, неверно. Это район Крестьянской войны Пугачева. А карта дана XVII в.

5) Цифрой «5» на схеме обозначен город, вошедший в состав Российского государства в период правления Ивана IV. ДА, верно. Это Казань.

6) Цифрой «2» на схеме обозначен Архангельск. ДА, верно, это Архангельск.

Ответ: 256

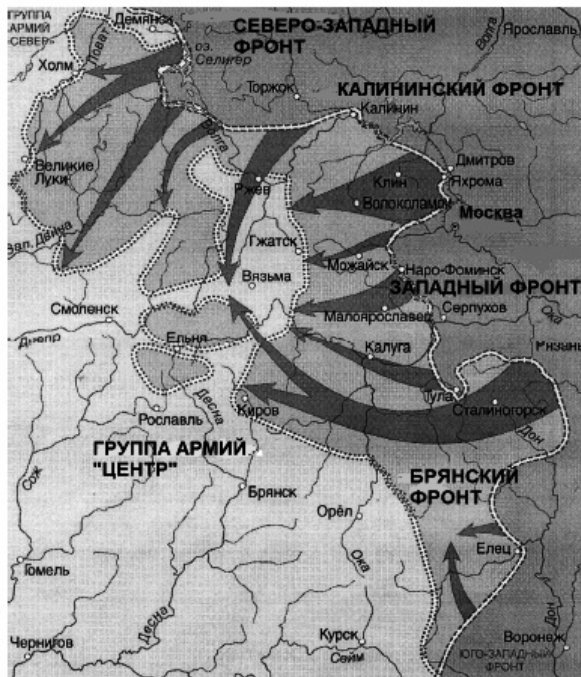
21. Задание 29 № 5621. Запишите словом пропущенный во фразе год: «Изображённая на схеме битва началась в тысяча девятьсот сорок _____ году».



Пояснение.

5-6 декабря 1941г. началось контрнаступление под Москвой. Правильный ответ: первом.
 Ответ: первом

22. Задание 29 № 5622. Напишите фамилию советского генерала, возглавлявшего в этой битве Западный фронт и сыгравшего ключевую роль в разработке данной операции советских войск.



Пояснение.

Это контрнаступление под Москвой. Правильный ответ: Жуков.
 Ответ: Жуков

23. Задание 32 № 5623. Какие суждения, относящиеся к событиям, обозначенным на схеме, являются верными? Выберите три суждения из шести предложенных. Запишите в таблицу цифры, под которыми они указаны.



- 1) Изображённая на схеме битва происходила в летний период.
- 2) Изображённым на схеме событиям предшествовало осуществление немецкими войсками операции «Тайфун».
- 3) В ходе данной битвы советские войска имели подавляющее преимущество в военной технике над противником.
- 4) Операция советских войск, ход которой отображён на схеме, получила кодовое обозначение «Кольцо».
- 5) Значимую роль в победе советских войск в этой битве сыграл разведчик Р. Зорге, благодаря сведениям которого СССР смог перебросить к месту битвы несколько дивизий с Дальнего Востока.
- 6) Значение данной битвы состоит в том, что она стала первым крупным поражением вермахта во Второй мировой войне.

Пояснение.

- 1) Изображённая на схеме битва происходила в летний период. НЕТ, неверно, зимой.
- 2) Изображённым на схеме событиям предшествовало осуществление немецкими войсками операции «Тайфун». ДА, верно.
- 3) В ходе данной битвы советские войска имели подавляющее преимущество в военной технике над противником. НЕТ, неверно.
- 4) Операция советских войск, ход которой отображён на схеме, получила кодовое обозначение «Кольцо». НЕТ, неверно.
- 5) Значимую роль в победе советских войск в этой битве сыграл разведчик Р. Зорге, благодаря сведениям которого СССР смог перебросить к месту битвы несколько дивизий с Дальнего Востока. ДА, верно.
- 6) Значение данной битвы состоит в том, что она стала первым крупным поражением вермахта во Второй мировой войне. ДА, верно.

Правильный ответ: 256.

Ответ: 256

24. Задание 33 № 5624. Рассмотрите изображение и выполните задание



Какие суждения о данном изображении являются верными? Выберите два суждения из пяти предложенных. Запишите в таблицу цифры, под которыми они указаны.

- 1) Данная почтовая марка была выпущена в годы руководства И.В. Сталина.
- 2) Неприятельскими войсками в битве, которой посвящена марка, руководил Наполеон.
- 3) Данная почтовая марка посвящена событиям Северной войны.
- 4) На марке изображён момент признания победы русского войска в этой битве.
- 5) Менее чем через год после битвы, которой посвящена марка, Россия заключила с поверженным в этой битве неприятелем мирный договор.

Пояснение.

1) Данная почтовая марка была выпущена в годы руководства И.В. Сталина. НЕТ, неверно в 1959г

2) Неприятельскими войсками в битве, которой посвящена марка, руководил Наполеон. НЕ, неверно, шведский король Карл XII

3) Данная почтовая марка посвящена событиям Северной войны. ДА, верно

4) На марке изображён момент признания победы русского войска в этой битве. ДА, верно.

5) Менее чем через год после битвы, которой посвящена марка, Россия заключила с поверженным в этой битве неприятелем мирный договор. НЕТ неверно, только в 1721г

Правильный ответ:34.

Ответ: 34

25. Задание 29 № 5580. Заполните пропуск в следующей фразе: «Изображённое на схеме под цифрой 1 государство — это Великое княжество _____».

**Пояснение.**

Правильный ответ: Литовское.

Ответ: Литовское

26. Задание 30 № 5581. Напишите название города, который обозначен на схеме цифрой 3.



Пояснение.

Правильный ответ: Новгород|Великий Новгород.

Ответ: Новгород|Великий Новгород

27. Задание 31 № 5582. Напишите (словом) век, к концу которого сложились границы Великого княжества Московского, отображённые на схеме.



Пояснение.

Правильный ответ: четырнадцатый.

Ответ: четырнадцатый

28. Задание 32 № 5583. Рассмотрите схему и выполните задание



Какие суждения, относящиеся к схеме, являются верными? Выберите три суждения из шести предложенных. Запишите в таблицу цифры, под которыми они указаны.

1) Земля, центром которой являлся город, обозначенный на карте цифрой 3, отличалась сильной княжеской властью.

2) Правители княжества, обозначенного на схеме цифрой 2, были одними из основных противников Москвы в борьбе за ярлык на великое княжение Владимирское.

3) В обозначенном на схеме под цифрой 4 сражении войско Орды возглавлял тёмник Мамай.

4) В обозначенном на схеме под цифрой 4 сражении русское войско потерпело жестокое поражение от войск ордынцев.

5) В том же веке, к концу которого сложились границы Великого княжества Московского, отображённые на схеме, правил московский князь Иван III.

6) Через два года после сражения, обозначенного на схеме цифрой 4, ордынские войска взяли и сожгли Москву.

Пояснение.

1) Земля, центром которой являлся город, обозначенный на карте цифрой 3, отличалась сильной княжеской властью. НЕТ, в Новгороде ее никогда сильной не было

2) Правители княжества, обозначенного на схеме цифрой 2, были одними из основных противников Москвы в борьбе за ярлык на великое княжение Владимирское. ДА, верно. Это Тверь - соперник Москвы.

3) В обозначенном на схеме под цифрой 4 сражении войско Орды возглавлял тёмник Мамай. ДА, верно. Это Куликовская битва.

4) В обозначенном на схеме под цифрой 4 сражении русское войско потерпело жестокое поражение от войск ордынцев. НЕТ, неверно.

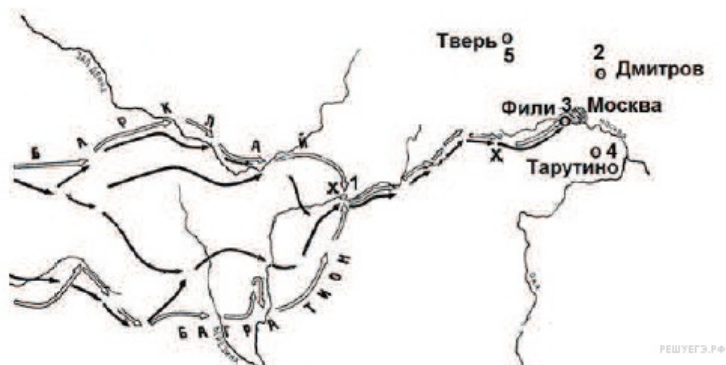
5) В том же веке, к концу которого сложились границы Великого княжества Московского, отображённые на схеме, правил московский князь Иван III. НЕТ неверно

6) Через два года после сражения, обозначенного на схеме цифрой 4, ордынские войска взяли и сожгли Москву. ДА, верно 1382г.

Правильный ответ:236.

Ответ: 236

29. Задание 29 № 3242. Рассмотрите схему и выполните задания



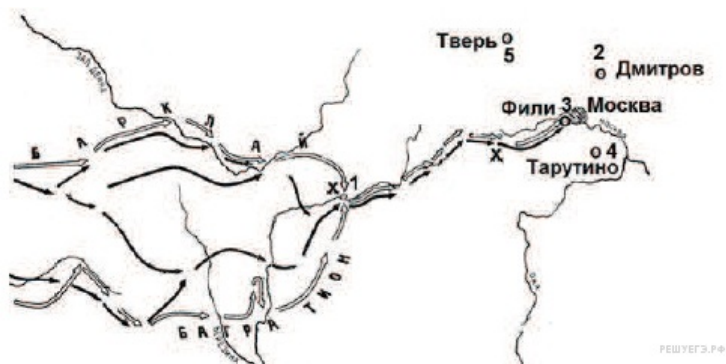
Напишите имя полководца, вторжение войск которого в Россию показано на схеме.

Пояснение.

Здесь показано вторжение войск Наполеона.

Ответ: Наполеон

30. Задание 30 № 3243. Рассмотрите схему и выполните задания



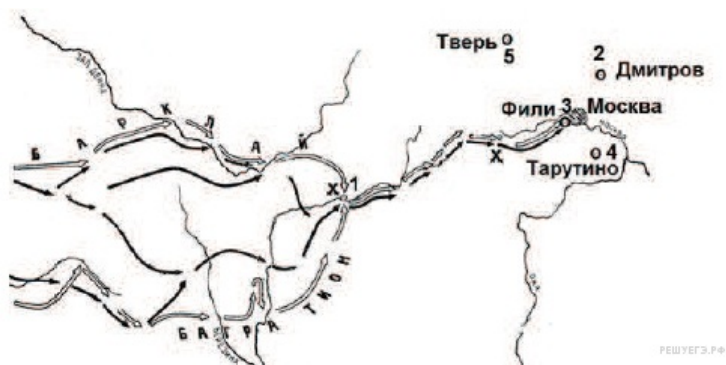
Напишите название города, обозначенного на схеме цифрой «1».

Пояснение.

До Смоленска армии под командованием Барклая и Багратиона отступали по отдельности и лишь у Смоленска им удалось соединиться.

Ответ: Смоленск

31. Задание 31 № 3244. Рассмотрите схему и выполните задания



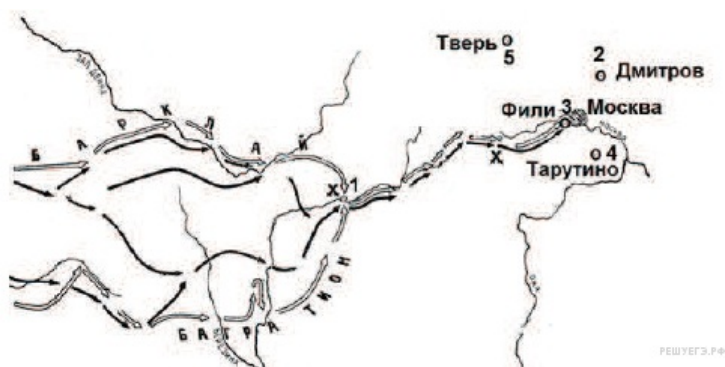
Напишите цифру, обозначающую населённый пункт, в котором русские войска встали лагерем после оставления Москвы.

Пояснение.

Русские войска, оставив Москву расположились у Тарутино.

Ответ: 4

32. Задание 32 № 3245. Рассмотрите схему и выполните задания



Какие суждения, относящиеся к событиям, связанным со схемой, являются верными? Выберите три суждения из шести предложенных. Запишите в таблицу цифры, под которыми они указаны.

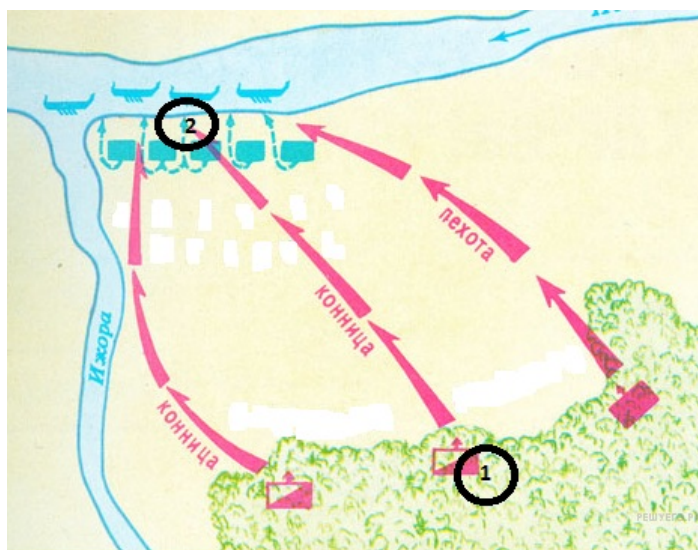
- 1) С начала изображённых на карте военных действий русские войска преследовали вторгшегося неприятеля.
- 2) В ходе данной войны русские войска возглавил М. И. Кутузов.
- 3) Самое кровопролитное сражение этой войны произошло под Вязьмой.
- 4) В ходе событий, указанных на схеме, в России развернулась народная война против неприятеля.
- 5) Указанные на схеме военные действия длились больше года.
- 6) Вторгшаяся в Россию неприятельская армия получила в истории название «Великая армия».

Пояснение.

В июне 1812 г. армия Наполеона, получившая в истории название «Великая армия», вторглась в Россию. Первоначально общее руководство русской армией, вынужденной отступать, осуществлял сам царь, потом Барклай и лишь неудачи заставили назначить на пост главнокомандующего Кутузова. Генеральное самое кровопролитное сражение произошло у деревни Бородино. После этого по решению Кутузова наши войска оставили Москву. Действия захватчиков привели к мощному подъёму партизанского движения. Боевые действия продолжались менее года и завершились в декабре 1812 г.

Ответ: 246

33. Задание 29 № 2152. Рассмотрите схему и выполните задание



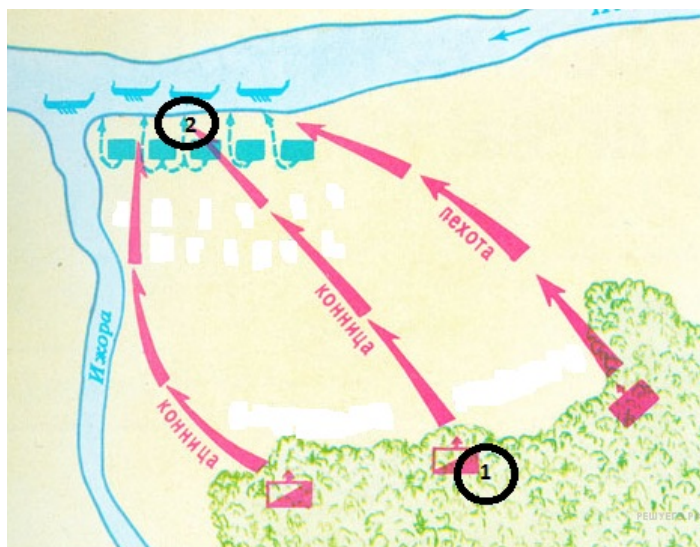
Напишите название битвы, представленной на схеме.

Пояснение.

Это была битва на берегах реки Ижоры, впадающей в Неву. Впоследствии битва была названа Невской.

Ответ: Невская|Невская битва

34. Задание 30 № 2153. Рассмотрите схему и выполните задание



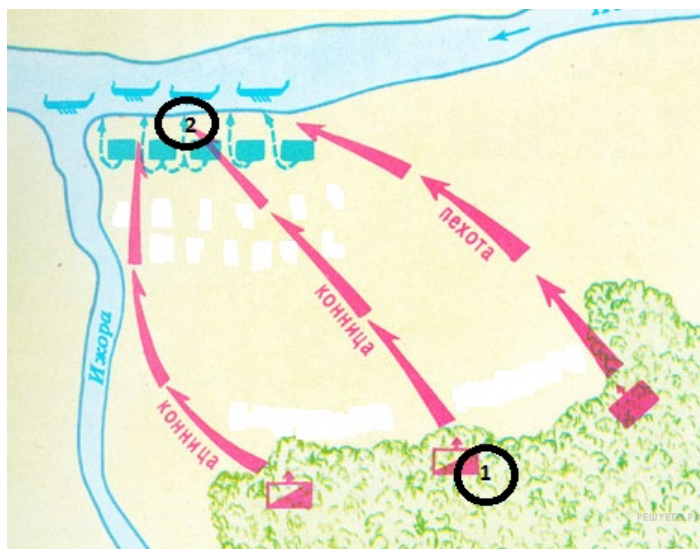
Напишите имя полководца, который командовал войском, отмеченном на схеме цифрой «1».

Пояснение.

Полководцем был князь Александр Ярославич (Невский).

Ответ: Александр Ярославич|Александр Невский|Александр

35. Задание 31 № 2154. Рассмотрите схему и выполните задание



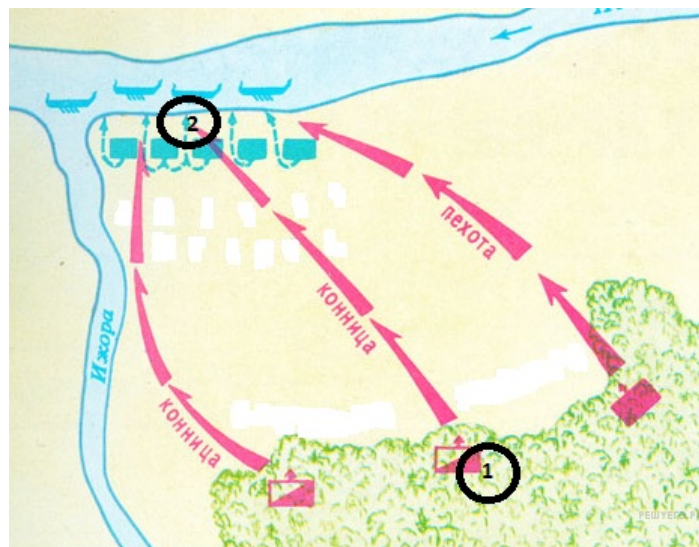
Назовите имя полководца, командовавшего войском, отмеченном на схеме цифрой «2»

Пояснение.

Войском командовал ярл Биргер.

Ответ: Биргер

36. Задание 32 № 2155. Рассмотрите схему и выполните задание



Какие суждения, относящиеся к событию, обозначенному на схеме, являются верными. Выберите три суждения из шести предложенных. Запишите в таблицу цифры, под которыми они указаны.

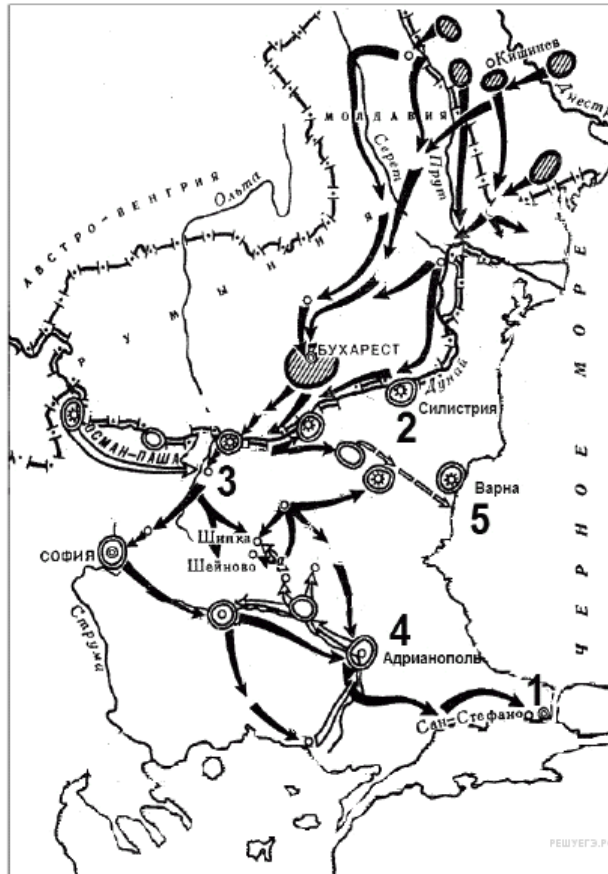
- 1) битва состоялась во время нашествия монголо-татар на юго-западные русские земли
- 2) один из полководцев, участвовавший в битве, в последствие был канонизирован русской Церковью
- 3) битва была примером междоусобных войн на Руси периода политической раздробленности
- 4) в составе войска одной из сторон сражался отряд половцев
- 5) результаты битвы имели большое значение для укрепления внешнеполитического авторитета Московского княжества
- 6) земли, на которой состоялась битва, принадлежали Великому Новгороду

Пояснение.

- 1) битва состоялась во время нашествия монголо-татар на юго-западные русские земли
- 2) один из полководцев, участвовавший в битве, в последствие был канонизирован русской Церковью
- 6) земли, на которой состоялась битва, принадлежали Великому Новгороду

Ответ: 126

37. Задание 29 № 4612. Напишите имя российского императора, к годам правления которого относится данная война.



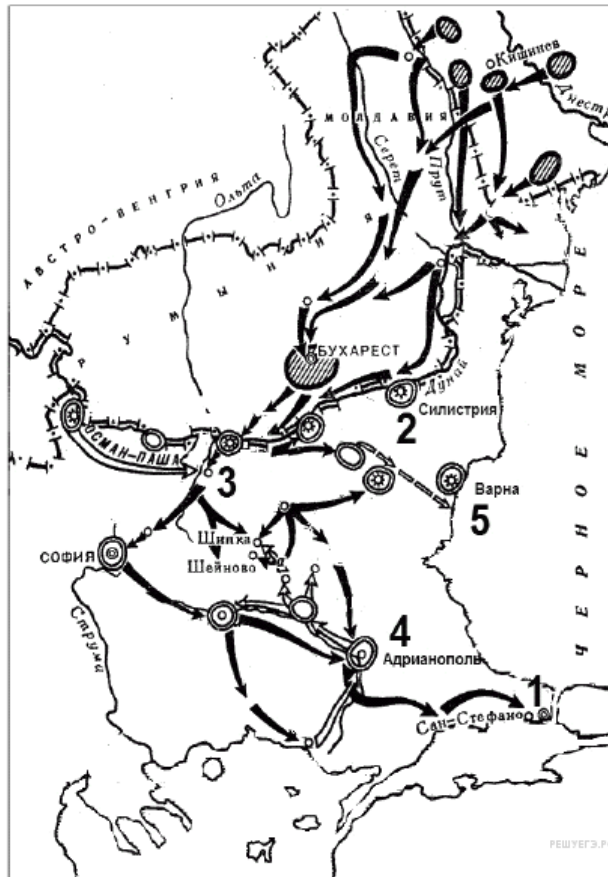
Пояснение.

Это русско-турецкая война 1877–1878 гг, Доказательство: турками командует под Плевной Осман-пашанаши войска остановили свое наступление у Сан-Стефано, обороняли Шипку.

Императором был Александр Второй 1855-1881гг.

Ответ: АлександрВторой

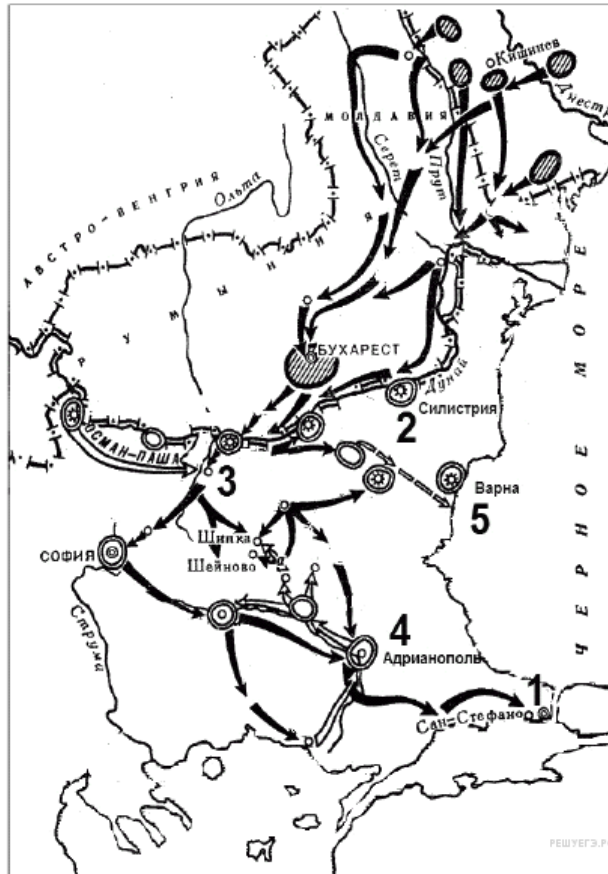
38. Задание 30 № 4613. Напишите название города, который обозначен на карте цифрой «1».



Пояснение.

Это русско-турецкая война 1877–1878 гг., Под цифрой «1» — Стамбул.
 Ответ: Константинополь|Стамбул

39. Задание 31 № 4614. Напишите название обозначенной на карте цифрой «3» крепости, которая в ходе войны длительный период осаждалась основными силами русской армии.

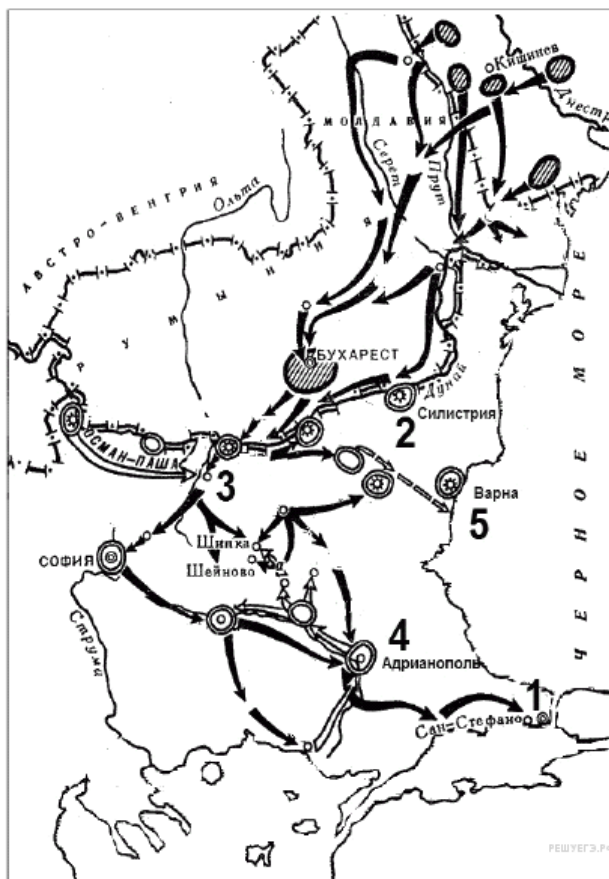


Пояснение.

Это русско-турецкая война 1877–1878 гг, Доказательство: турками командует под Плевной Осман-пашанаши войска остановили свое наступление у Сан-Стефано, обороняли Шипку.

Ответ: Плевна

40. Задание 32 № 4615. Какие суждения, относящиеся к схеме, являются верными? Выберите три суждения из шести предложенных.



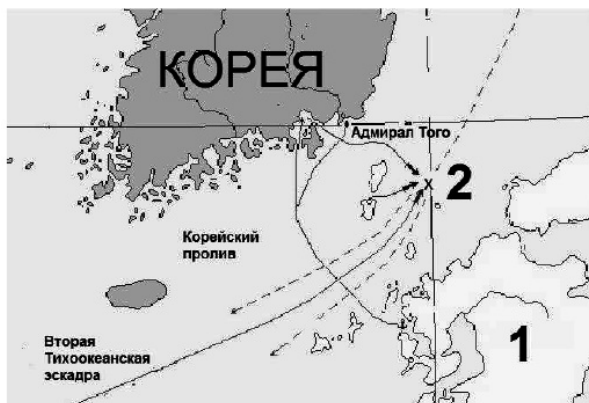
- 1) Результатом войны стало приобретение независимости Грецией.
- 2) Во время войны особо отличился русский полководец М. Д. Скобелев.
- 3) Война получила название Крымской.
- 4) Союзником России в этой войне была Великобритания.
- 5) Противником России в этой войне была Османская империя.
- 6) По условиям мирного договора, заключённого по итогам этой войны, Сербия получила независимость.

Пояснение.

- 1) Результатом войны стало приобретение независимости Грецией. Неверно: Греция получила независимость раньше
- 2) Во время войны особо отличился русский полководец М. Д. Скобелев. Да верно.
- 3) Война получила название Крымской. Неверно.
- 4) Союзником России в этой войне была Великобритания. Неверно, у нас не было союзников.
- 5) Противником России в этой войне была Османская империя. Да, верно.
- 6) По условиям мирного договора, заключённого по итогам этой войны, Сербия получила независимость. Да, верно.

Ответ: 256

41. Задание 29 № 5906. Напишите название отображенной под цифрой «1» страны – противника России в войне, событиям которой посвящена схема.

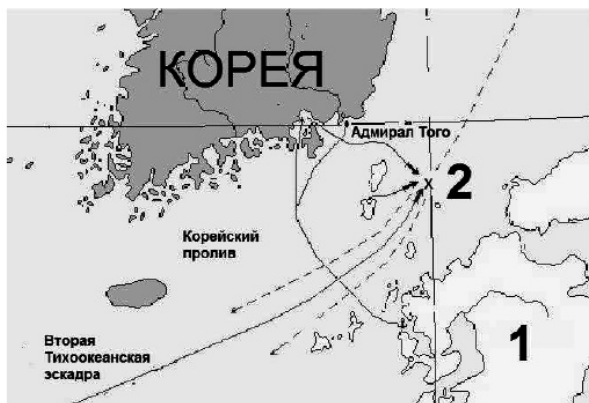


Пояснение.

Правильный ответ: Япония. Это события русско-японской войны 1904-1905гг.

Ответ: Япония|Японская империя

42. Задание 30 № 5907. Назовите императора России, царствовавшего в это время.

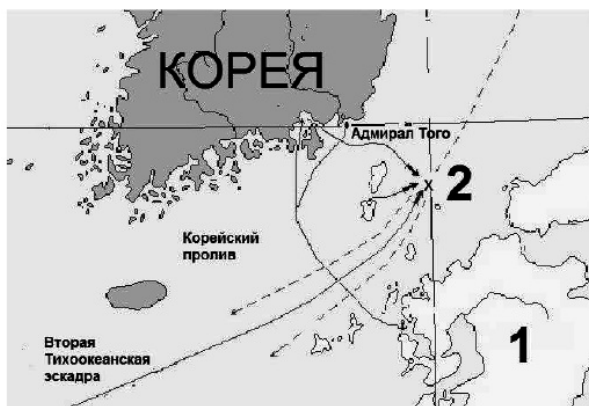


Пояснение.

Это Николай Второй.

Ответ: Николай Второй

43. Задание 31 № 5908. Какое название получило сражение, отображенное на схеме цифрой «2»?



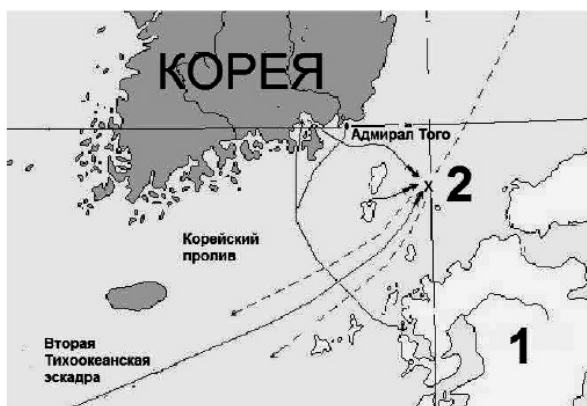
Пояснение.

Единственно возможно правильным вариантом является: Цусима или Цусимское сражение.

Ответ: Цусимское|Цусима|под Цусимой

44. Задание 32 № 5909. Какие суждения, относящиеся к схеме, являются верными? Выберите три суждения из шести предложенных. Запишите в таблицу цифры, под которыми они указаны.

- 1) Война, одно из сражений которой отображено на схеме, происходила в 1877–1878 гг.
- 2) Русской эскадрой в этом сражении командовал адмирал З. П. Рожественский.
- 3) Сражения данной войны происходили исключительно на море.
- 4) Сражение, отображённое на схеме, закончилось победой русского флота.
- 5) Название изображённого сражения стало нарицательным в русском языке.
- 6) Во время данной войны в России началась революция.



Пояснение.

Речь идет о русско-японской войне 1904-1905 гг, в ходе которой началась первая русская революция, В Цусимском сражении эскадрой командовал адмирал Рожественский. Единственно возможно правильным вариантом является: 256

Ответ: 256

45. Задание 29 № 3202. Рассмотрите схему и выполните задания



Напишите имя правителя России, при котором заштрихованная территория вошла в состав России.

Пояснение.

Левобережная Украина вошла в состав Российского государства в 1654 г. в царствование Алексея Михайловича.

Ответ: Алексей Михайлович

46. Задание 30 № 3203. Рассмотрите схему и выполните задания



Напишите название города, обозначенного на схеме цифрой «1».

Пояснение.

На правом берегу Днепра расположен Киев.

Ответ: Киев

47. Задание 31 № 3204. Рассмотрите схему и выполните задания



Напишите цифру, обозначающую город, в котором от лица местного населения было принято решение о присоединении данной земли к России.

Пояснение.

Решение о присоединении к России было принято в Переяславе в 1654 г.

Ответ: 4

48. Задание 32 № 3205. Рассмотрите схему и выполните задания



Какие суждения, относящиеся к событиям, связанным с присоединением указанных территорий, являются верными? Выберите три суждения из шести предложенных. Запишите в таблицу цифры, под которыми они указаны.

- 1) Присоединение данных территорий относится к XVII в.
- 2) Присоединению данных территорий способствовало восстание местных жителей против прежней власти.
- 3) До присоединения к России данные территории принадлежали Османской империи.
- 4) Указанные территории при присоединении получили автономные права.
- 5) Договор о признании данных территорий за Россией был заключён в Смоленске.
- 6) Война, которую Россия вела за эти территории, получила название Смоленской.

Пояснение.

В 1648 г. украинский народ под руководством Б. Хмельницкого поднялся на освободительную борьбу против Речи Посполитой. Так как силы были неравны, было принято решение обратиться за помощью к России. Решение о присоединении к России было принято в Переяславле в 1654 г. После этого Россия начала русско-польскую войну 1654–1667 гг., завершилась подписанием Андрусовского перемирия.

Ответ: 124

49. Задание 29 № 4522.



Напишите фамилию полководца, который руководил российскими войсками в сражениях, обозначенных на схеме.

Пояснение.

В сражениях на Кинбурнской косе, под Очаковым, при Фокшанах и при взятии Измаила русскими войсками командовал А. В. Суворов.

Ответ: Суворов

50. Задание 30 № 4523. Рассмотрите схему и выполните задание



Напишите название реки, обозначенной на схеме цифрой «1».

Пояснение.

Это река Дунай. Впадает в Черное море. В нее впадает река Прут.

Ответ: Дунай

51. Задание 31 № 4524. Рассмотрите схему и выполните задание



Укажите название крепости, указанной на схеме цифрой «2», взятие которой русскими войсками стало важным событием этой войны.

Пояснение.

В устье Дуная расположен Измаил.

Ответ: Измаил

52. Задание 32 № 4525. Рассмотрите схему и выполните задание



Какие суждения» относящиеся к войне, которой посвящена схема, являются верными? Выберите три суждения из шести предложенных. Запишите в таблицу цифры, под которыми они указаны.

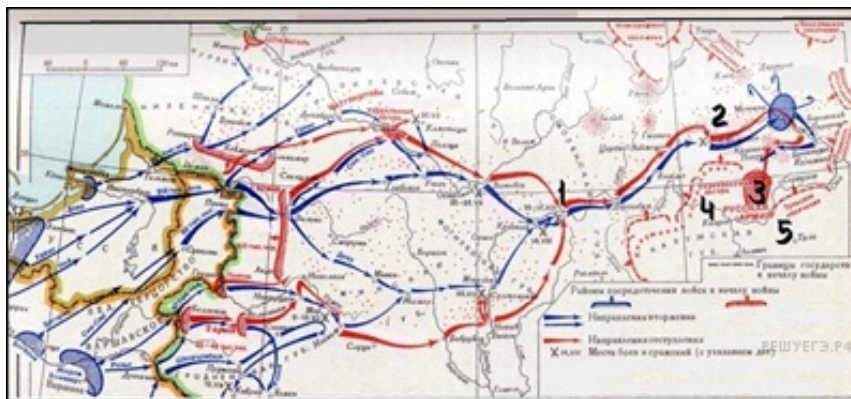
- 1) война велась с Турецкой империей
- 2) правительницей России в года войны была Елизавета Петровна
- 3) закончивший войну мир был заключен в городе, обозначенном на карте под цифрой «4»
- 4) в ходе войны русские войска прославились штурмом турецкой крепости, считавшейся в Европе неприступной
- 5) в результате этой войны Северное Причерноморье окончательно вошло в состав Российской империи
- 6) во время данной войны произошло последнее крупное сражение парусного флота — Синопский бой

Пояснение.

- 1) война велась с Турецкой империей Да верно.
- 2) правительницей России в года войны была Елизавета Петровна Нет. правила Екатерина Великая.
- 3) закончивший войну мир был заключен в городе, обозначенном на карте под цифрой «4» Нет, неверно, мир заключили в Яссах.
- 4) в ходе войны русские войска прославились штурмом турецкой крепости, считавшейся в Европе неприступной. Да, это взятие Измаила.
- 5) в результате этой войны Северное Причерноморье окончательно вошло в состав Российской империи. Да. верно.
- 6) во время данной войны произошло последнее крупное сражение парусного флота - Синопский бой. Нет. Синопское сражение было в годы Крымской войны.

Ответ: 145

53. Задание 29 № 2713. Рассмотрите схему и выполните задание



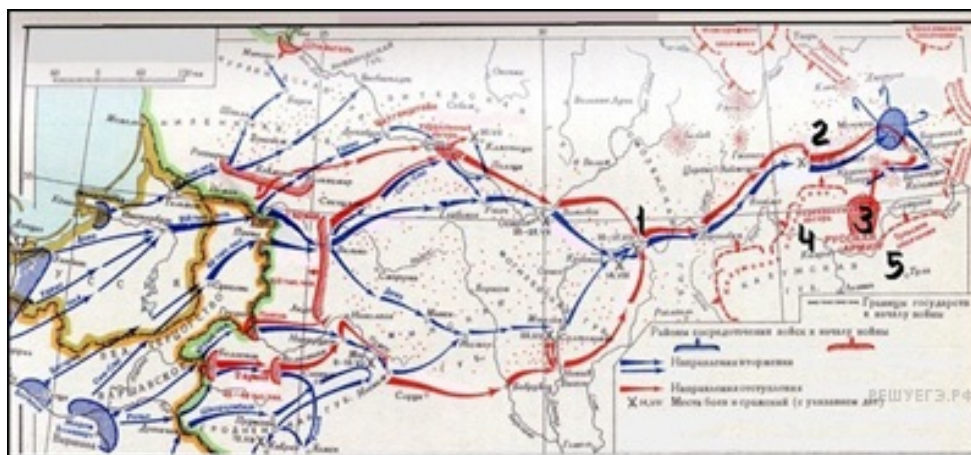
Напишите имя полководца, осуществившего вторжение войск на территорию России, обозначенное на схеме стрелками.

Пояснение.

Карта Отечественной войны 1812 г. — нашествие Наполеона в Россию.

Ответ: Наполеон

54. Задание 30 № 2714. Рассмотрите схему и выполните задание



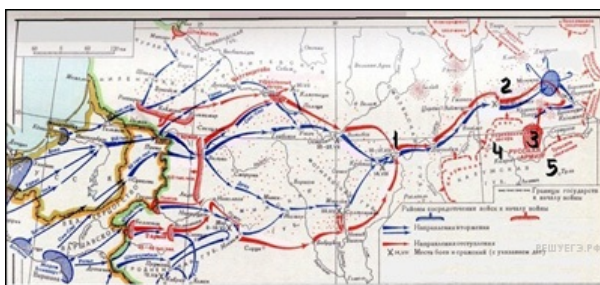
Напишите название города, обозначенного на схеме цифрой «1».

Пояснение.

В Смоленске соединились 1-я и 2-я русские армии.

Ответ: Смоленск

55. Задание 31 № 2715. Рассмотрите схему и выполните задание



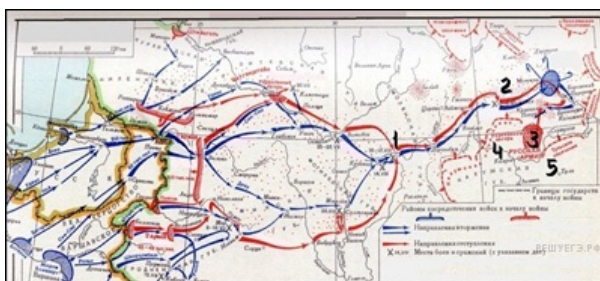
Напишите цифру, которой обозначено место, где в период данного вторжения русская армия расположилась в укреплённом лагере, получив отдых и возможность пополнить материальную часть и живую силу.

Пояснение.

Тарутино -укрепленный лагерь, где расположилась русская армия, получив отдых и возможность пополнить материальную часть и живую силу.

Ответ: 3

56. Задание 32 № 2716. Рассмотрите схему и выполните задание



Какие суждения, относящиеся к событиям, обозначенным на схеме, являются верными? Выберите три суждения из шести предложенных. Запишите в таблицу цифры, под которыми они указаны.

1) 4 августа сразу же после вручения ноты с объявлением войны начались боевые действия против России.

2) Вторжение Великой армии в пределы Российской империи началось с переправы по

наведённым мостам через пограничный Неман.

3) План неприятеля разгромить рассредоточенные русские войска поодиночке был успешно осуществлен.

4) Одним из главных событий, обозначенных на схеме, было генеральное сражение, исход которого и та, и другая сторона сразу же объявили как свою победу и празднуют до сих пор, имея на то основания.

5) Военные действия, обозначенные на схеме стрелками, продолжались около двух лет.

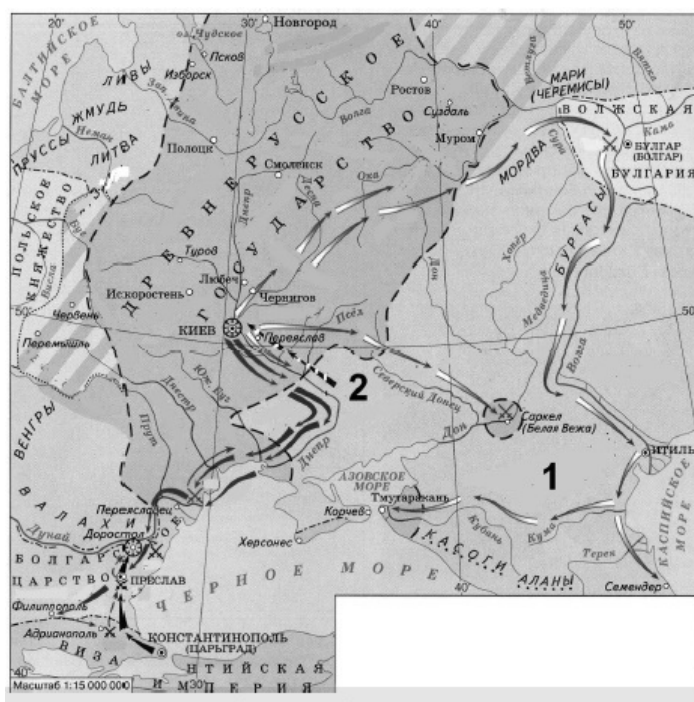
6) В результате событий, обозначенных на схеме, армия вторжения заняла Москву без боя.

Пояснение.

На карте изображены события Отечественной войны 1812 г., которая продолжалась менее года. (Дальнейшие заграничные походы русской армии 1813-1814 гг. продолжались около двух лет). В июне 1812 г. вторжение Великой армии в пределы Российской империи началось с переправы по наведённым мостам через пограничный Неман. Одним из главных событий войны было Бородинское сражение, исход которого и та, и другая сторона сразу же объявили как свою победу. В сентябре 1812 г. русская армия и жители оставили Москву и Наполеон вошел в столицу.

Ответ: 246

57. Задание 29 № 5946. Назовите древнерусского князя, походы которого отображены на схеме.

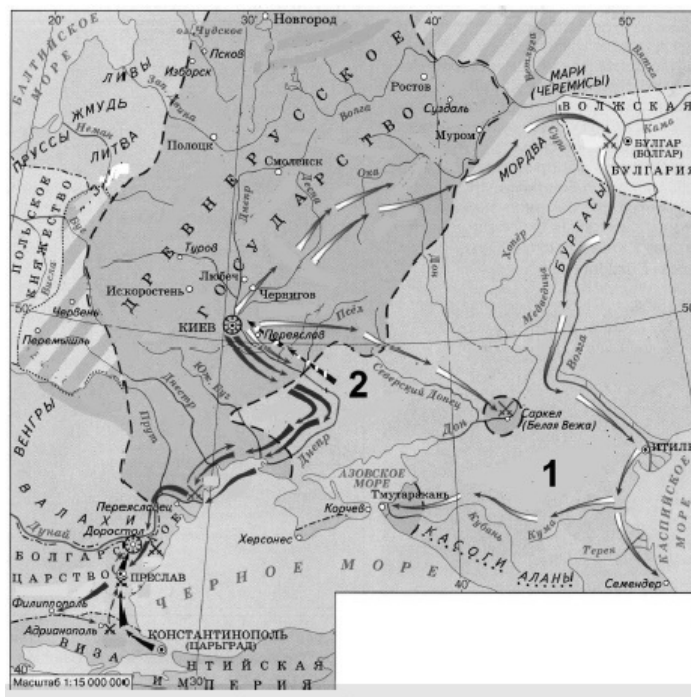


Пояснение.

Правильный ответ: Святослав Игоревич.

Ответ: Святослав|Святослав Игоревич

58. Задание 30 № 5947. Напишите название государства, обозначенного на схеме под цифрой «1».

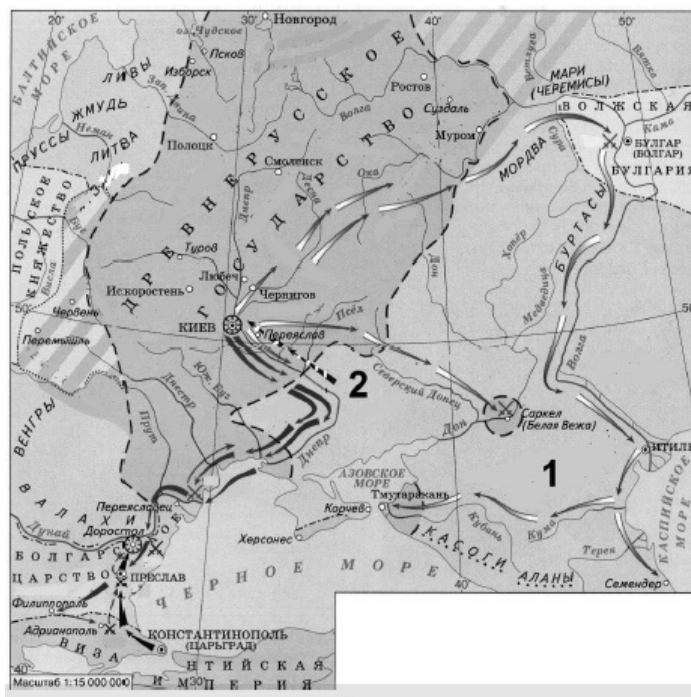


Пояснение.

Это Хазарский каганат.

Ответ: Хазарский каганат|Хазария

59. Задание 31 № 5948. Напишите название кочевых племен, место проживания которых обозначено на схеме цифрой «2» и которые совершили отображённый на схеме поход на Киев.



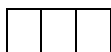
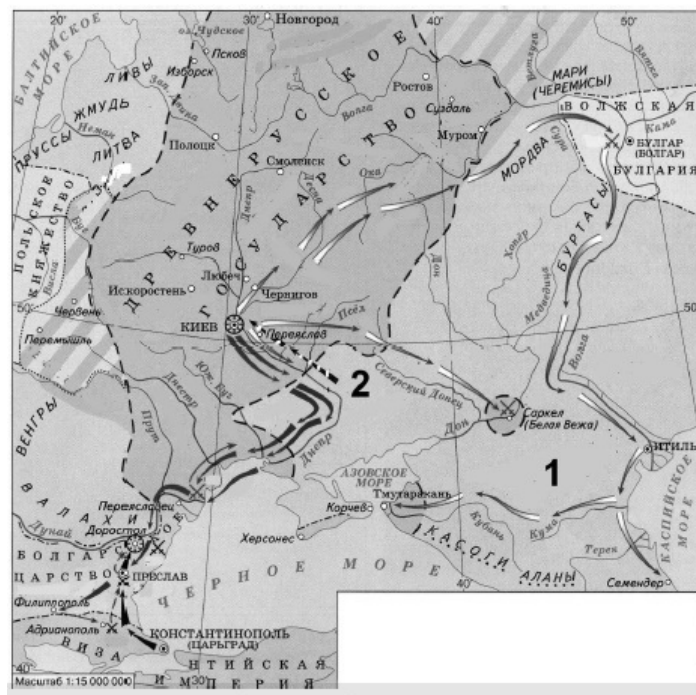
Пояснение.

Единственно возможно правильным вариантом является: печенеги.

Ответ: печенеги

60. Задание 32 № 5949. Какие суждения, относящиеся к событиям, обозначенным на схеме, являются верными? Выберите три суждения из шести предложенных. Запишите в таблицу цифры, под которыми они указаны.

- 1) Одним из результатов походов древнерусского князя, которым посвящена схема, стал разгром государства, отображённого под цифрой «1».
- 2) Изображённые на схеме события относятся к XI в.
- 3) Мать древнерусского князя, походы которого изображены на схеме, правила государством в его малолетство и провела реформу сбора дани.
- 4) С именем древнерусского князя, походы которого изображены на схеме, связано принятие «Русской правды».
- 5) В результате одного из походов данному древнерусскому князю удалось захватить Константинополь.
- 6) Древнерусский князь, походы которого изображены на схеме, пал вместе с дружиной в результате нападения кочевых племен, место проживания которых обозначено на схеме цифрой «2».

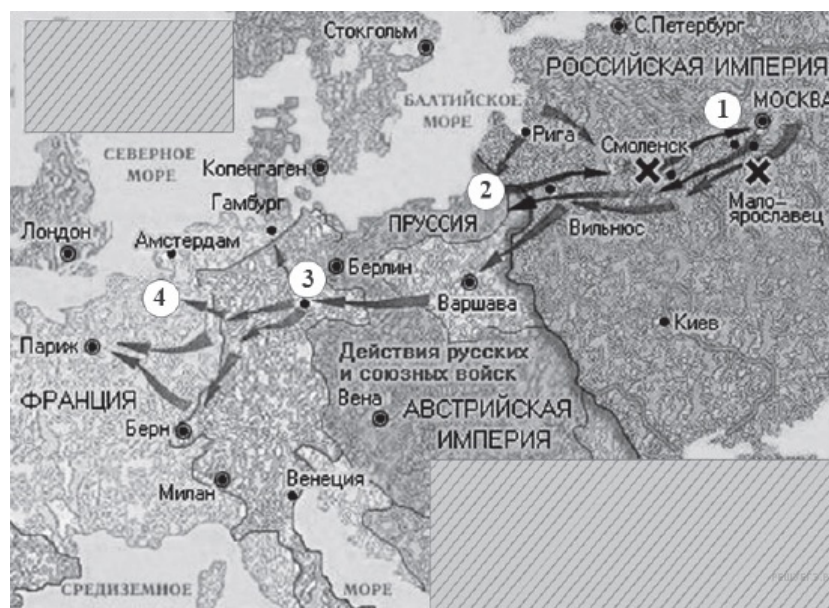


Пояснение.

Речь идет о походах Святослава, сыне Игоря и Ольги, разгромившего Хазарский каганат. Единственно возможно правильным вариантом является: 136.

Ответ: 136

61. Задание 29 № 2608. Рассмотрите схему и выполните задание



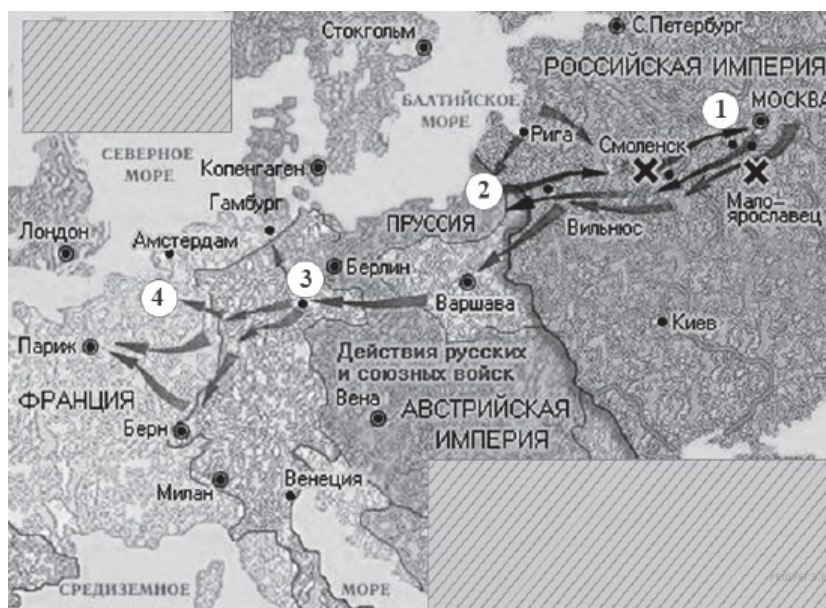
Напишите имя императора, правившего в той стране, которая была основным противником России в военных действиях, обозначенных на карте.

Пояснение.

Карта Отечественной войны 1812 г. и заграничных походов русской армии против наполеоновской Франции. Указаны места важнейших сражений Отечественной войны 1812 г. — Смоленск и Малоярославец.

Ответ: Наполеон|НаполеонБонапарт

62. Задание 30 № 2609. Рассмотрите схему и выполните задание



Напишите название города, где состоялось последнее сражение этого императора.

Пояснение.

В 1815 г. Наполеон потерпел поражение в битве при Ватерлоо и был сослан на остров Святой Елены.

Ответ: Ватерлоо

63. Задание 31 № 2610. Рассмотрите схему и выполните задание



Напишите место проведения генерального сражения, данного русской армией, обозначенного цифрой «1».

Пояснение.

Генеральное сражение Отечественной войны 1812 г. — Бородино.

Ответ: Бородино

64. Задание 32 № 2611. Рассмотрите схему и выполните задание



Какие суждения, относящиеся к событиям, обозначенным на карте, являются верными? Выберите три суждения из шести предложенных. Запишите в таблицу цифры, под которыми они указаны.

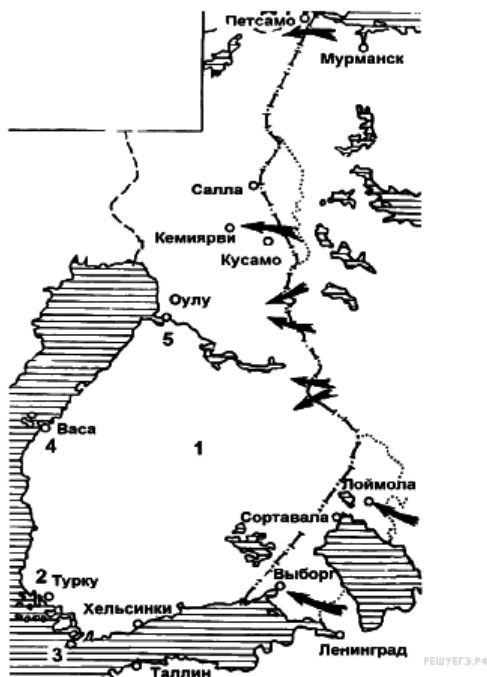
- 1) Изображённые на карте события происходили в первой четверти XIX в.
- 2) В это время в России правил император Николай I.
- 3) Россия победоносно завершила войну, события которой обозначены на карте.
- 4) По окончании военных действий в Вене собрался конгресс европейских монархов.
- 5) В честь победы в этой войне в Петербурге был возведён Исаакиевский собор.
- 6) События обозначенных на карте военных действий отражены в романе М. Ю. Лермонтова «Герой нашего времени».

Пояснение.

На карте изображены события Отечественной войны 1812 г. и заграничных походов русской армии 1813-1814 гг. (первая четверть XIX в.). Россия одержала победу в войне с Наполеоном. В 1814 г. в Вене собрался конгресс европейских монархов.

Ответ: 134

65. Задание 29 № 4482. Рассмотрите схему и выполните задание



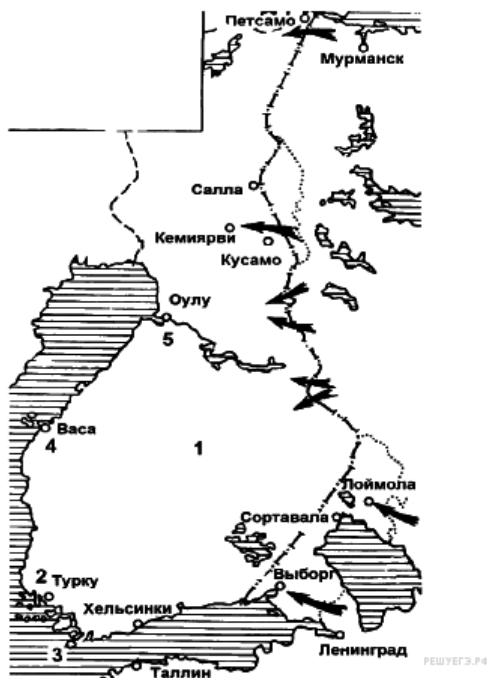
Назовите страну, против которой были направлены указанные на схеме военные действия СССР.

Пояснение.

Боевые действия направлены против Финляндии. Хельсинки, Турку — финские города.

Ответ: Финляндия

66. Задание 30 № 4483. Рассмотрите схему и выполните задание



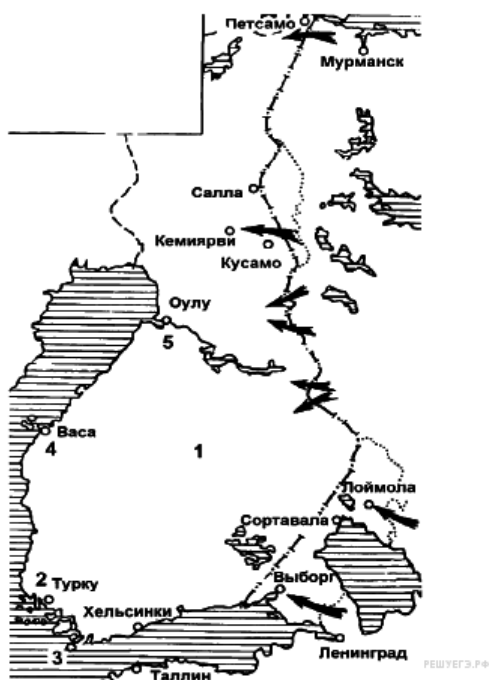
Напишите фамилию руководителя СССР в период событий, указанных на схеме.

Пояснение.

Страной руководил Сталин.

Ответ: Сталин

67. Задание 31 № 4484. Рассмотрите схему и выполните задание



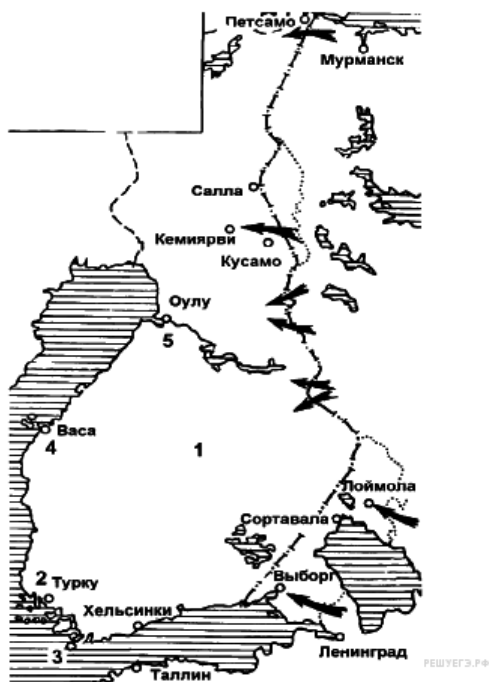
Укажите название указанной под цифрой 3 военно-морской базы, полученной в аренду СССР по итогам данной войны.

Пояснение.

Это военно-морская база на полуострове Ханко.

Ответ: Ханко

68. Задание 32 № 4485.



Какие суждения, относящиеся к войне, которой посвящена схема, являются верными? Выберите три суждения из шести предложенных. Запишите в таблицу цифры, под которыми они указаны.

- 1) начало войны относится к 1939 г.
- 2) союзниками СССР в этой войне были США и Великобритания

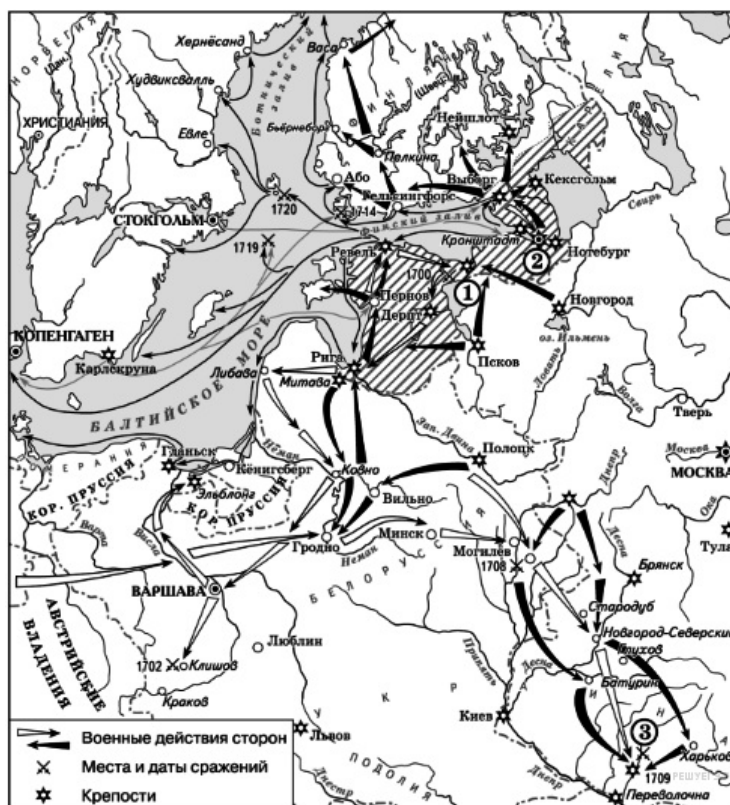
- 3) результатом войны стало присоединение к СССР территории с городом Выборгом
- 4) основные военные действия в этой войне пришлось на зимний период
- 5) СССР не получил в результате войны территориальных приобретений
- 6) в ходе войны противник не оказал советским войскам серьезного сопротивления

Пояснение.

- 1) начало войны относится к 1939 г. ДА, верно. 1939–1940 гг. — советско-финская война.
- 2) союзниками СССР в этой войне были США и Великобритания. НЕТ, неверно. у нас не было союзников.
- 3) результатом войны стало присоединение к СССР территории с городом Выборгом. ДА, верно.
- 4) основные военные действия в этой войне пришлось на зимний период. ДА, верно.
- 5) СССР не получил в результате войны территориальных приобретений. НЕТ, неверно.
- 6) в ходе войны противник не оказал советским войскам серьезного сопротивления. НЕТ, неверно. Финны оказали серьёзное сопротивление.

Ответ: 134

69. Задание 29 № 3733. Рассмотрите схему и выполните задания



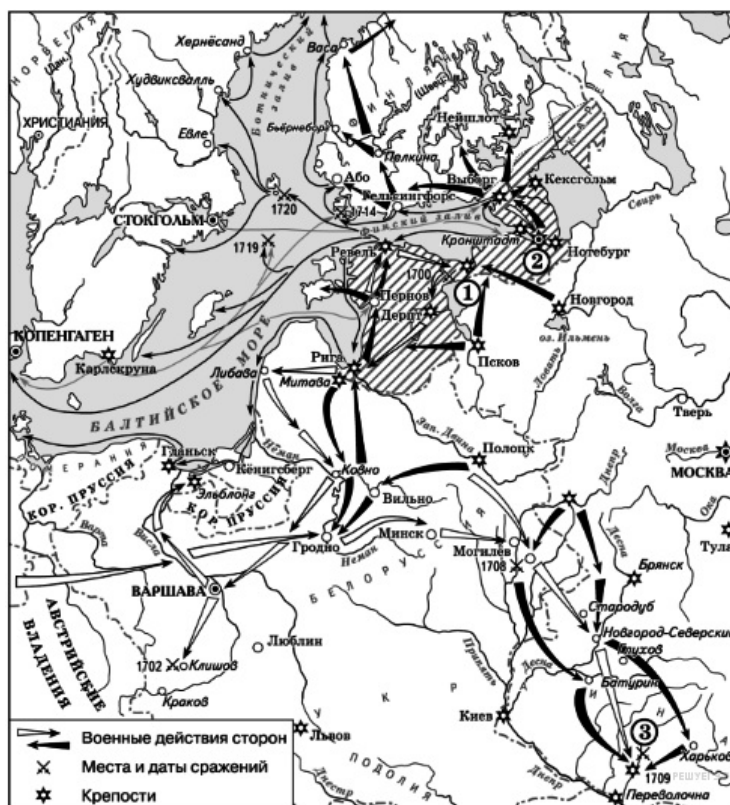
Напишите название войны, события которой обозначены на данной схеме.

Пояснение.

На карте изображена Северная война 1700–1721 гг.

Ответ: Северная

70. Задание 30 № 3734. Рассмотрите схему и выполните задания



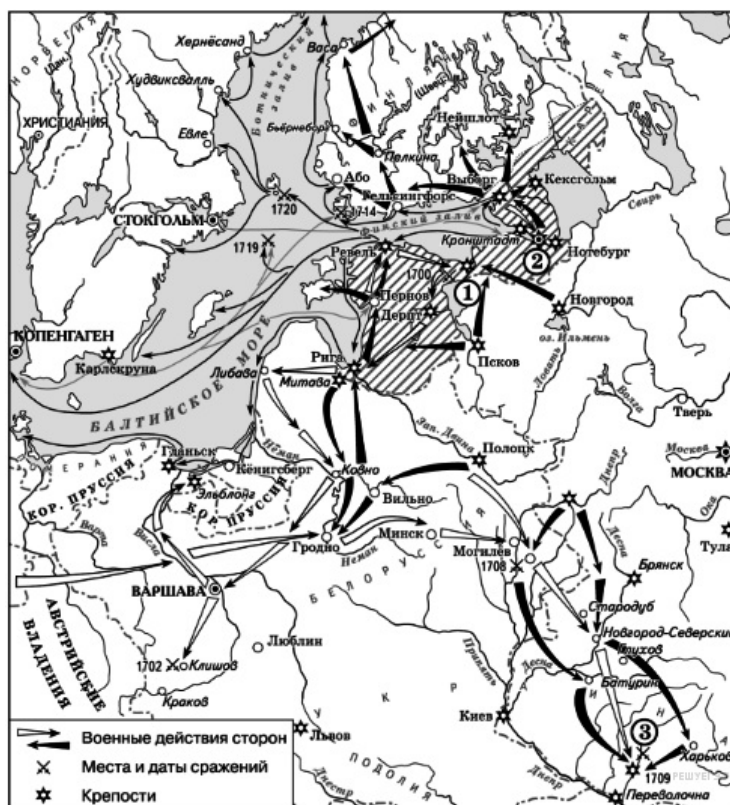
Напишите имя российского монарха, в годы правления которого шла война, события которой обозначены на данной схеме.

Пояснение.

Северная война шла в правление Петра I правильный ответ Петр.

Ответ: Петр|ПетрI|ПетрВеликий

71. Задание 31 № 3735. Рассмотрите схему и выполните задания



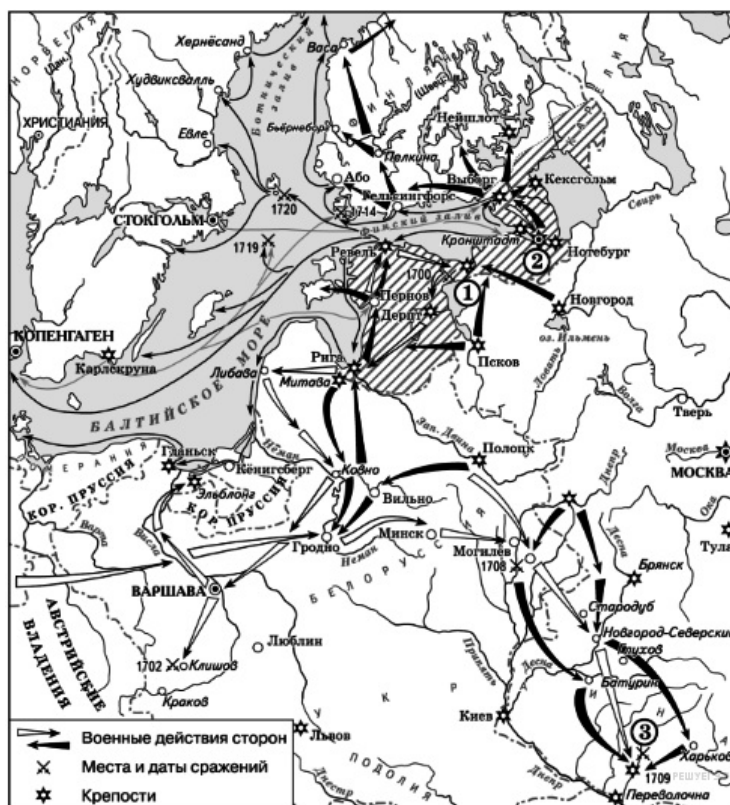
Напишите название города, у стен которого произошло сражение, обозначенное на схеме цифрой «1».

Пояснение.

Цифрой «1» обозначена Нарва, у стен которой русские войска были разбиты шведами в начале войны.

Ответ: Нарва

72. Задание 32 № 3736. Рассмотрите схему и выполните задания



Какие суждения, относящиеся к событиям, обозначенным на схеме, являются верными? Выберите три суждения из шести предложенных. Запишите в таблицу цифры, под которыми они указаны.

- 1) После завершения войны, события которой обозначены на данной схеме, Россия стала империей.
- 2) Одну из решающих побед в данной войне русская армия одержала в сражении, обозначенном цифрой «3».
- 3) Следствием войны, события которой изображены на данной схеме, стала утрата Россией статуса морской державы.
- 4) Мирный договор, завершивший войну, события которой изображены на данной схеме, был подписан в городе, обозначенном цифрой «2».
- 5) В ходе войны, события которой обозначены на данной схеме, проводились рекрутские наборы.
- 6) В результате этой войны Россия утратила заштрихованные на схеме территории.

Пояснение.

В результате Северной войны Россия стала империей. Армия формировалась при помощи рекрутских наборов. Одна из важнейших побед была одержана под Полтавой.

Ответ: 125

73. Задание 29 № 2148. Рассмотрите схему и выполните задание



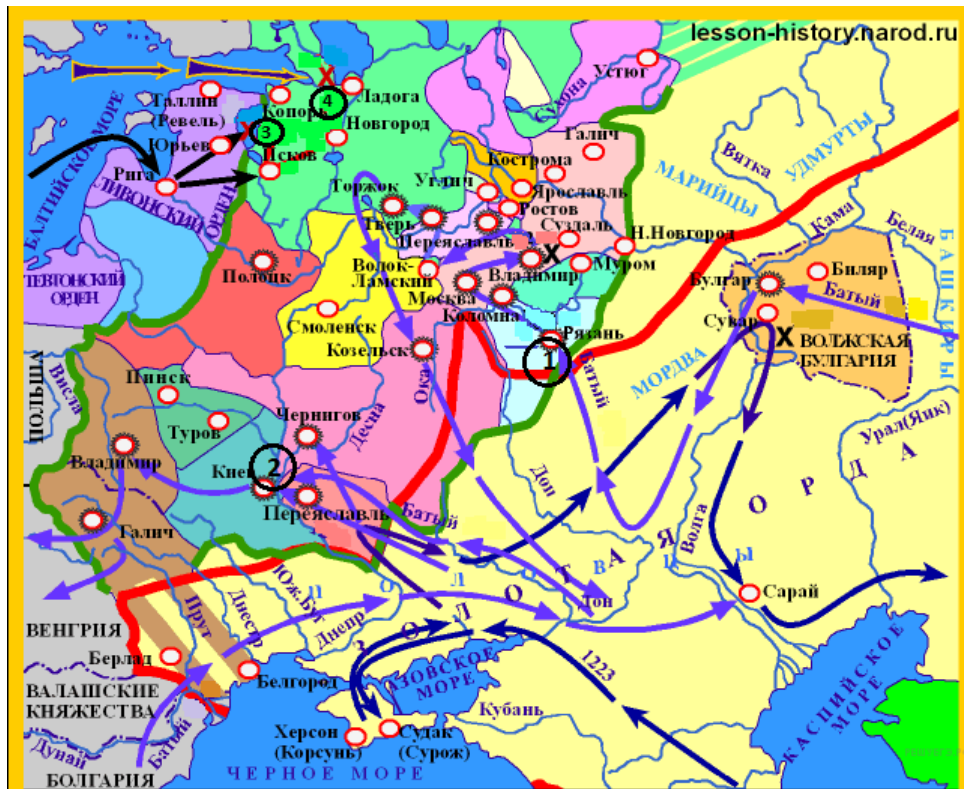
Напишите имя русского полководца XIII в., одержавшего победы над неприятелем в сражениях, отмеченных на карте цифрами «3» и «4».

Пояснение.

Это были сражения, в которых принимал участие князь Александр Ярославич Невский.

Ответ: Александр Невский|Александр

74. Задание 30 № 2149. Рассмотрите схему и выполните задание



Напишите цифру, которой обозначен город, который в XIII в. героически оборонял от захватчиков воевода боярин Дмитр (Дмитрий).

Пояснение.

Воевода охранял Киев.

Ответ: 2

75. Задание 31 № 2150. Рассмотрите схему и выполните задание



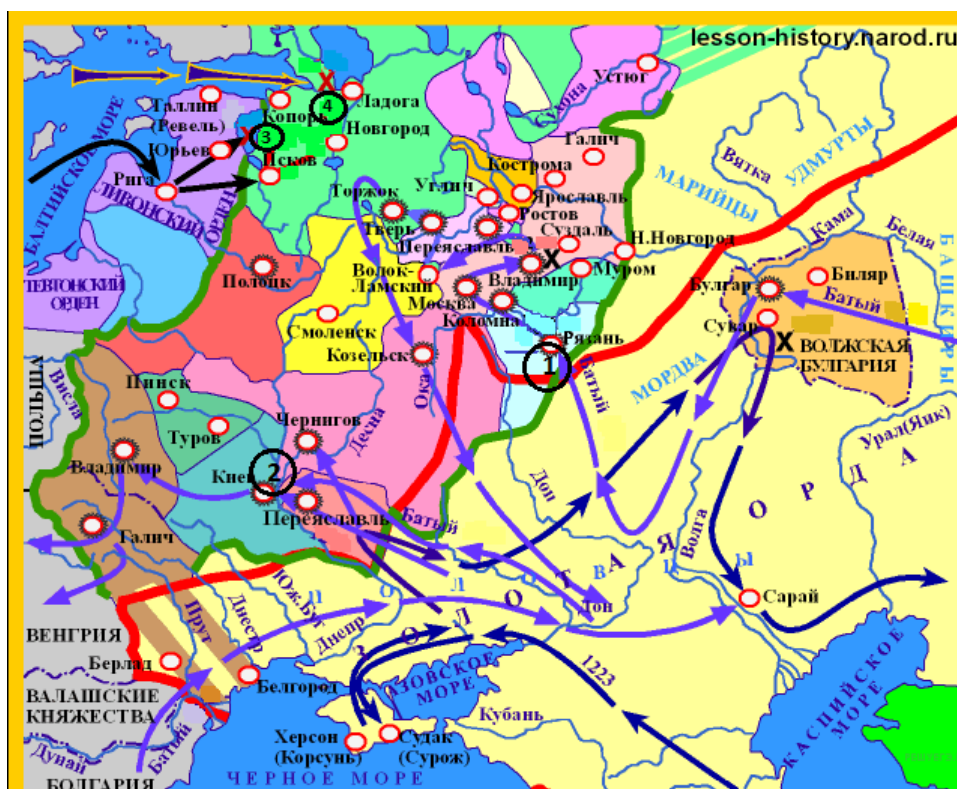
Напишите название реки, на которой в 1223 г. произошла первая встреча русских войск с отрядами монголо-татар.

Пояснение.

Это была река Калка.

Ответ: Калка

76. Задание 32 № 2151. Рассмотрите схему и выполните задание



Какие суждения, относящиеся к событиям, обозначенным на схеме стрелками, являются верными. Выберите три суждения из шести предложенных. Запишите в таблицу цифры, под которыми они указаны.

- 1) первым русским городом, принявшим на себя удар монголо-татар под командованием хана Батые лето 1237 г., была Рязань
- 2) после ухода монголо-татарского войска из разгромленной Рязани, захватчики подверглись нападению отряда под командованием рязанского боярина Евпатия Коловрата
- 3) на территории Владимиро-Суздальского княжества монголо-татары потерпели своё первое поражение от войск князя Юрия Всеволодовича
- 4) город Псков сумел отстоять свою независимость в период вторжения рыцарей Ливонского ордена на русские земли в первой половине XIII в.
- 5) столицей образовавшейся Золотой Орды стал в 1243 г. город Сарай (Сарай-Бату)
- 6) сражение, отмеченное на карте цифрой «4» произошло в один год с героической обороной и падением Киева

Пояснение.

2) после ухода монголо-татарского войска из разгромленной Рязани, захватчики подверглись нападению отряда под командованием рязанского боярина Евпатия Коловрата

5) столицей образовавшейся Золотой Орды стал в 1243 г. город Сарай (Сарай-Бату)

6) сражение, отмеченное на карте цифрой «4» произошло в один год с героической обороной и падением Киева

Ответ: 256

77. Задание 29 № 3893. Рассмотрите схему событий одного из периодов Великой Отечественной войны и выполните задание



Укажите название города, обозначенного на схеме цифрой «1».

Пояснение.

Это наступление Красной армии зимой 1942–1943 гг. 1 Сталинград

Ответ: Сталинград

78. Задание 30 № 3894. Рассмотрите схему событий одного из периодов Великой Отечественной войны и выполните задание



Укажите название города, обозначенного на схеме цифрой «2», в районе которого произошло соединение войск двух фронтов Красной армии.

Пояснение.

Соединение войск Красной армии произошло в районе Калача-на-Дону.

Ответ: Калач|Калач-на-Дону

79. Задание 31 № 3895. Рассмотрите схему событий одного из периодов Великой Отечественной войны и выполните задание



Укажите название периода в ходе войны, начало которому положили события, обозначенные на схеме.

Пояснение.

Сталинградская битва переломила ход войны.

Ответ: Коренной перелом

80. Задание 32 № 3896. Рассмотрите схему событий одного из периодов Великой Отечественной войны и выполните задание



Какие суждения, относящиеся к событиям, обозначенным на схеме, являются верными? Выберите три суждения из шести предложенных. Запишите в таблицу цифры, под которыми они указаны.

- 1) На схеме обозначены боевые действия до конца 1943 г.
- 2) События, обозначенные на схеме, явились первым наступлением Красной армии в ходе Великой Отечественной войны.
- 3) На схеме обозначены боевые действия Красной армии в ходе операции «Уран».
- 4) Участником событий, обозначенных на схеме, являлся К. К. Рокоссовский.
- 5) В кольце окружения, обозначенном на схеме, оказалось более 2 млн немецких солдат.
- 6) События, обозначенные на схеме стрелками, начались в ноябре 1942 г.

Пояснение.

1) На схеме обозначены боевые действия до конца 1943 г. (НЕТ, к концу 1943 г. мы уже освободили Харьков, Киев и Днепропетровск)

2) События, обозначенные на схеме, явились первым наступлением Красной армии в ходе Великой Отечественной войны. (НЕТ, первое наступление было раньше еще в 1941 г.)



3) На схеме обозначены боевые действия Красной армии в ходе операции «Уран». (Да, верно)

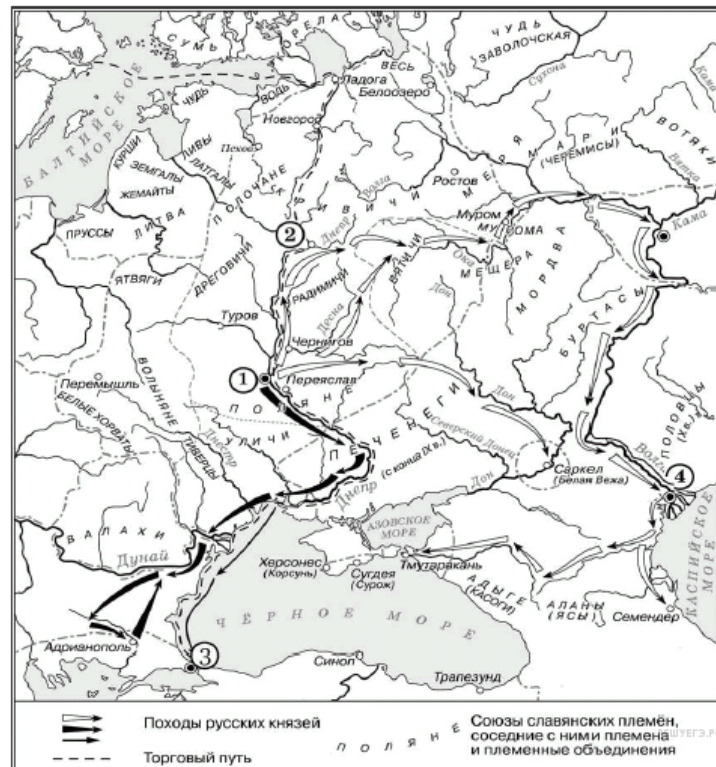
4) Участником событий, обозначенных на схеме, являлся К. К. Рокоссовский. (ДА, он командовал Донским фронтом)

5) В кольце окружения, обозначенном на схеме, оказалось более 2 млн немецких солдат. (НЕТ, окружили всего 300 тыс.)

6) События, обозначенные на схеме стрелками, начались в ноябре 1942 г. (ДА, наше наступление началось 19 ноября)

Ответ: 346

81. Задание 29 № 4978. Назовите киевского князя, к деятельности которого относятся походы, обозначенные на схеме закрашенными чёрными фигурными стрелками  и контурными фигурными стрелками .

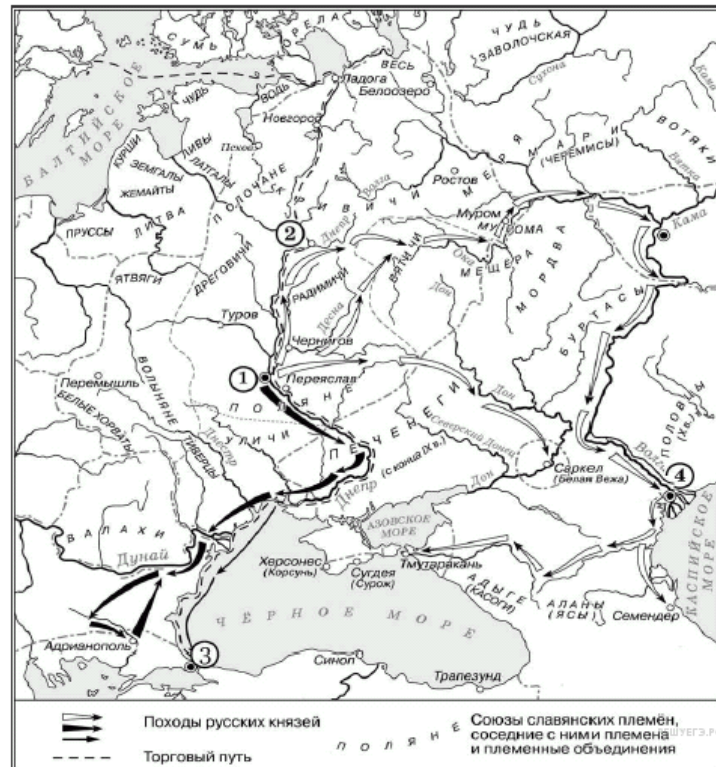


Пояснение.

Это походы князя Святослава.

Ответ: Святослав

82. Задание 30 № 4979. Напишите название города, обозначенного на схеме цифрой «1».

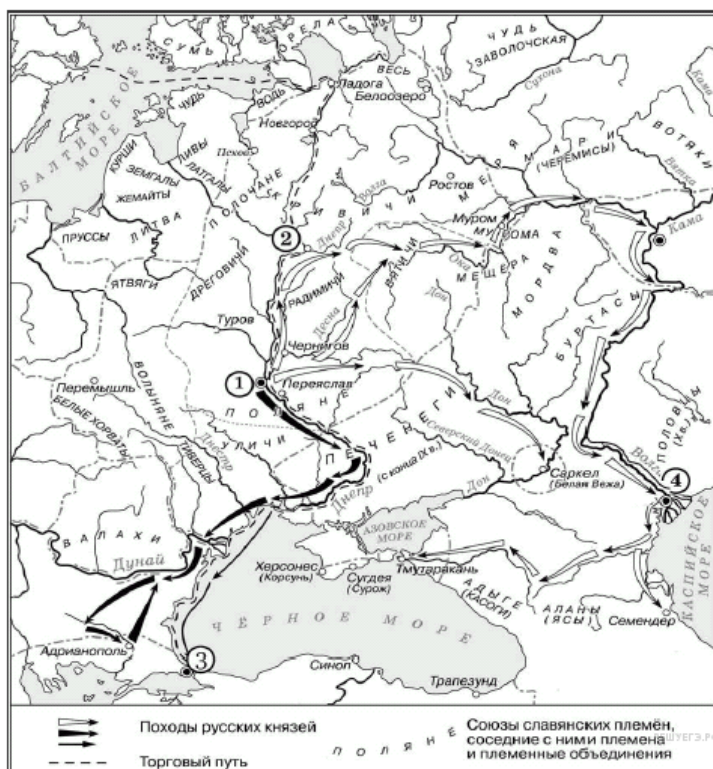


Пояснение.

Под цифрой «1» Киев.

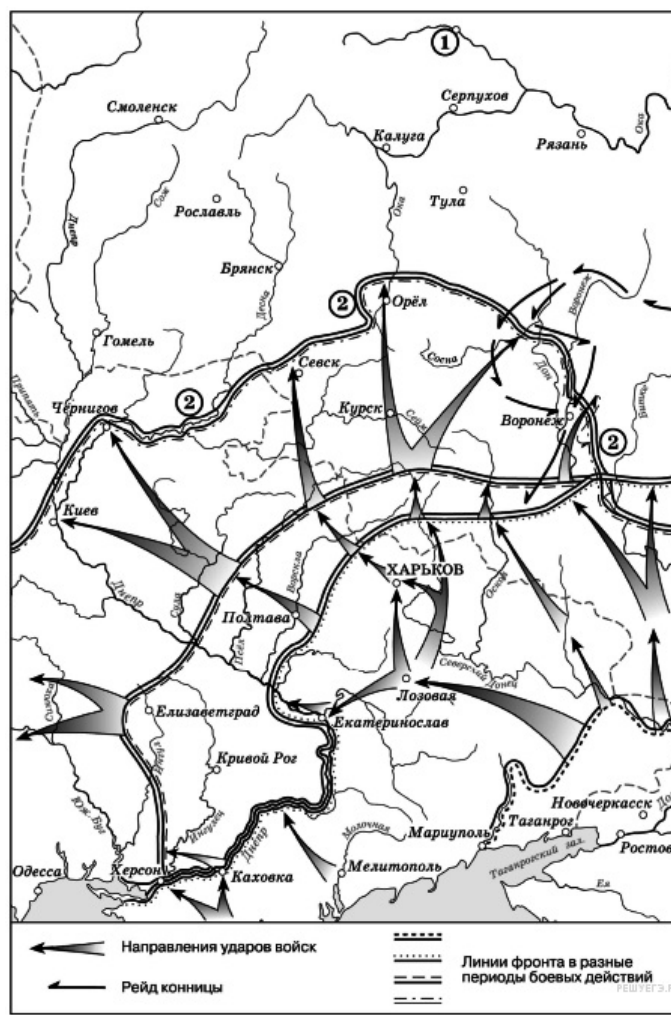
Ответ: Киев

84. Задание 32 № 4981. Какие суждения, относящиеся к исторической ситуации, обозначенной на схеме, являются верными? Выберите 3 суждения из шести предложенных. Запишите в ответ цифры, под которыми они указаны.



Ответ: 146

85. Задание 29 № 3933. Рассмотрите схему действий белогвардейцев в ходе одного из периодов Гражданской войны в России и выполните задание.



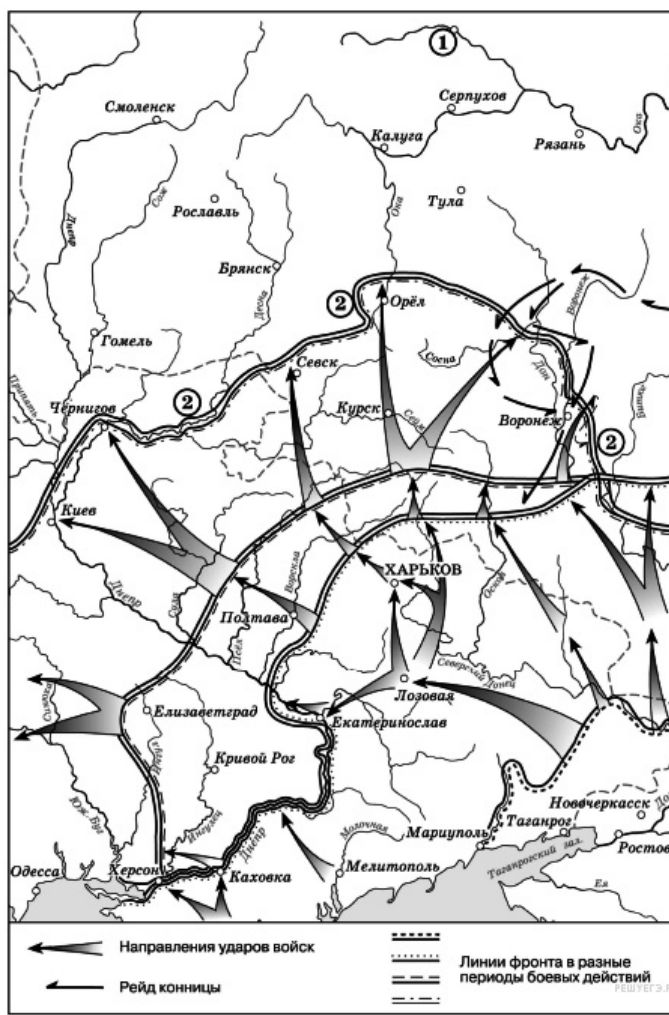
Укажите фамилию главнокомандующего белогвардейскими войсками, достигшими линии, обозначенной на схеме цифрой «2».

Пояснение.

Летом 1919 г. Добровольческая армия Деникина взяла Воронеж, Орел и приблизилась к Туле.

Ответ: Деникин

86. Задание 30 № 3934. Рассмотрите схему действий белогвардейцев в ходе одного из периодов Гражданской войны в России и выполните задание.



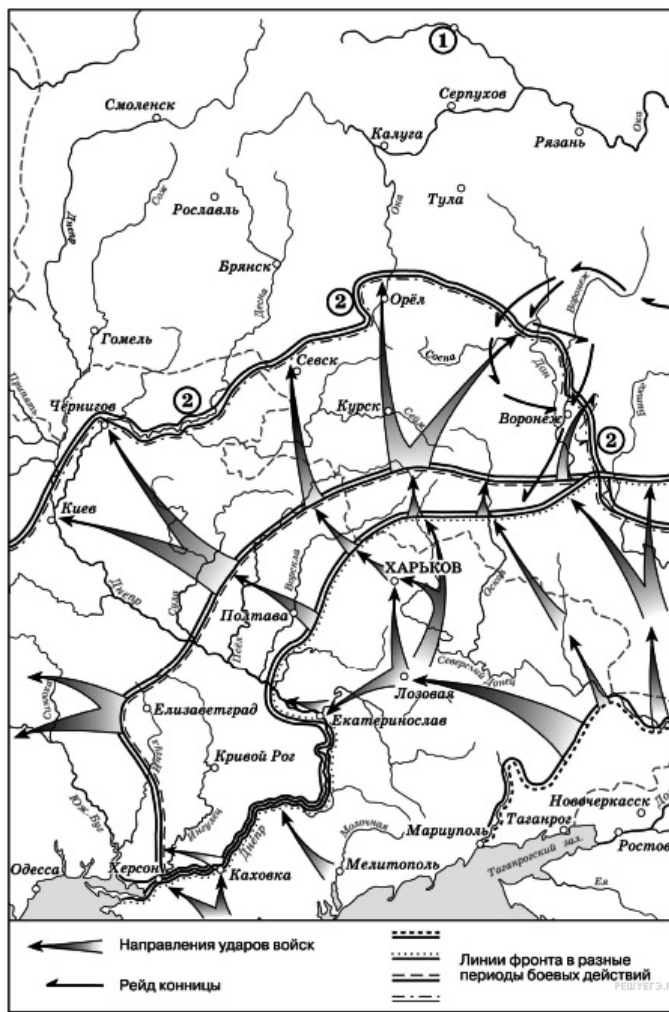
Напишите пропущенное слово: «События, обозначенные на схеме, происходили в тысяча девятьсот _____ году».

Пояснение.

Это наступление Деникина на Москву в 1919 г.

Ответ: девятнадцатом

87. Задание 31 № 3935. Рассмотрите схему действий белогвардейцев в ходе одного из периодов Гражданской войны в России и выполните задание.



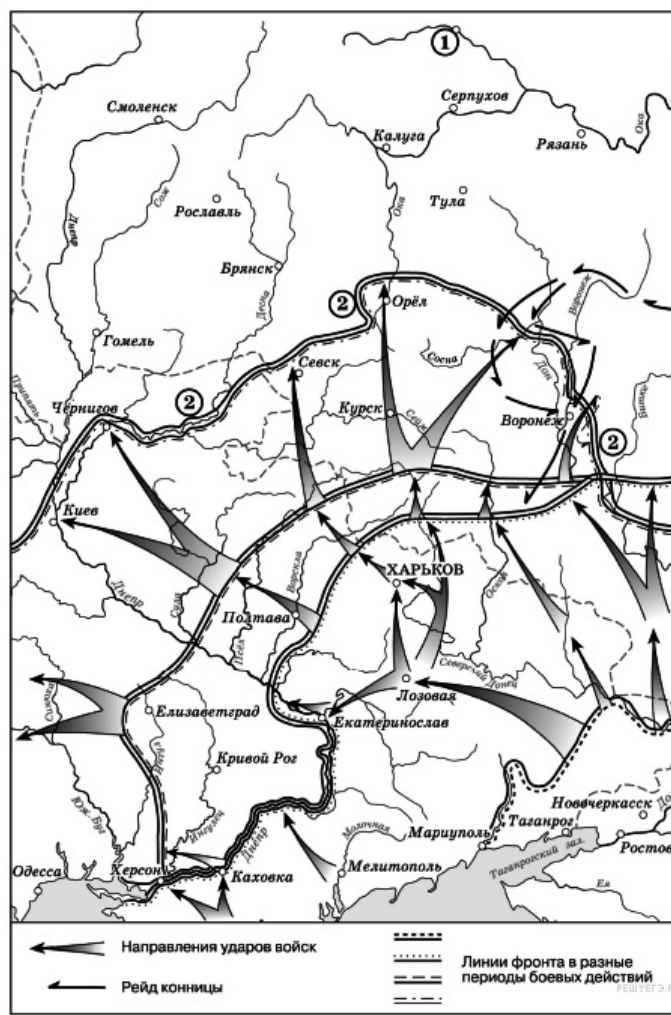
Укажите название города, обозначенного цифрой «1» и являвшегося целью похода белогвардейских войск, действия которых показаны на схеме.

Пояснение.

Цель похода — взятие Москвы.

Ответ: Москва

88. Задание 32 № 3936. Рассмотрите схему действий белогвардейцев в ходе одного из периодов Гражданской войны в России и выполните задание.



Какие суждения, относящиеся к событиям, обозначенным на схеме, являются верными? Выберите три суждения из шести предложенных. Запишите в таблицу цифры, под которыми они указаны.

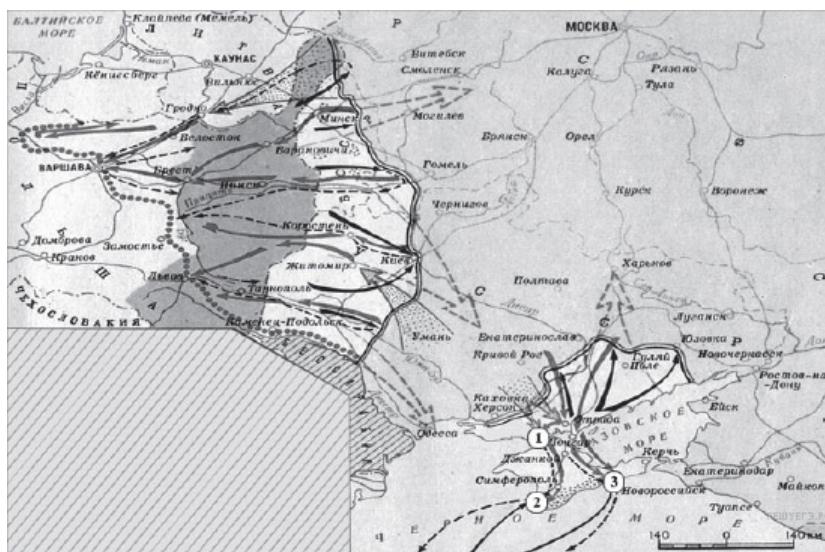
- 1) Значительный урон тылам белогвардейских войск, действия которых обозначены на схеме, наносила армия Н. П. Махно.
- 2) После разгрома белогвардейских войск, действия которых обозначены на схеме, их командующий эмигрировал из России.
- 3) В период событий, обозначенных на схеме, большевики проводили новую экономическую политику.
- 4) Главнокомандующий Белой армией, действия которой обозначены на схеме, имел титул Верховного правителя России.
- 5) Белогвардейская армия, действия которой обозначены на схеме, получала оружие и боеприпасы от стран Антанты.
- 6) В ходе последующих событий, произошедших сразу после обозначенных на схеме, белым удалось захватить г. Тулу.

Пояснение.

- 1) Значительный урон тылам белогвардейских войск, действия которых обозначены на схеме, наносила армия Н. П. Махно. (ДА, верно)
- 2) После разгрома белогвардейских войск, действия которых обозначены на схеме, их командующий эмигрировал из России. (ДА, верно)
- 3) В период событий, обозначенных на схеме, большевики проводили новую экономическую политику. (НЕТ, в это время проводили политику «военного коммунизма»)
- 4) Главнокомандующий Белой армией, действия которой обозначены на схеме, имел титул Верховного правителя России. (НЕТ, этот титул носил адмирал Колчак)
- 5) Белогвардейская армия, действия которой обозначены на схеме, получала оружие и боеприпасы от стран Антанты. (ДА, верно)
- 6) В ходе последующих событий, произошедших сразу после обозначенных на схеме, белым удалось захватить г. Тулу. (НЕТ, на подступах к городу враг был остановлен и отброшен назад)

Ответ: 125

89. Задание 29 № 2568. Рассмотрите схему и выполните задание



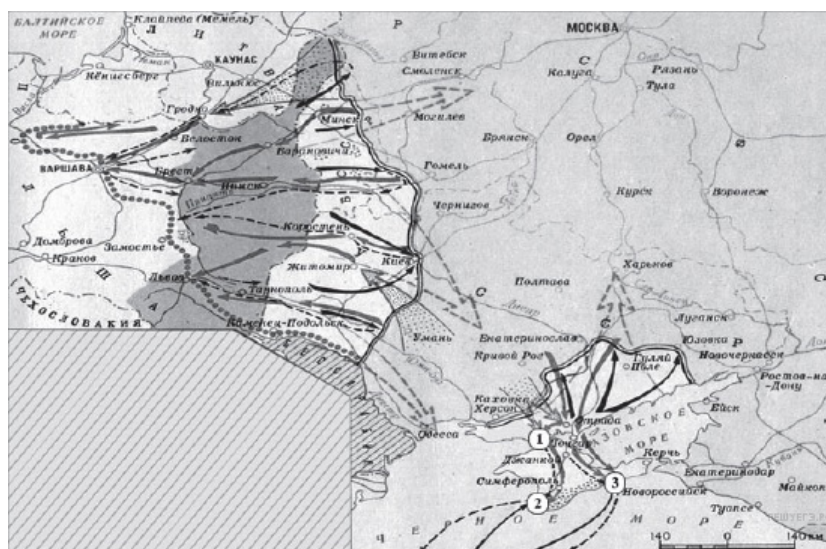
Напишите название периода отечественной истории, события которого изображены на карте.

Пояснение.

Карта гражданской войны 1918 — 1920 гг. На ней изображены события завершающего этапа войны — война с Польшей и разгром Врангеля в Крыму.

Ответ: Гражданская война

90. Задание 30 № 2569. Рассмотрите схему и выполните задание



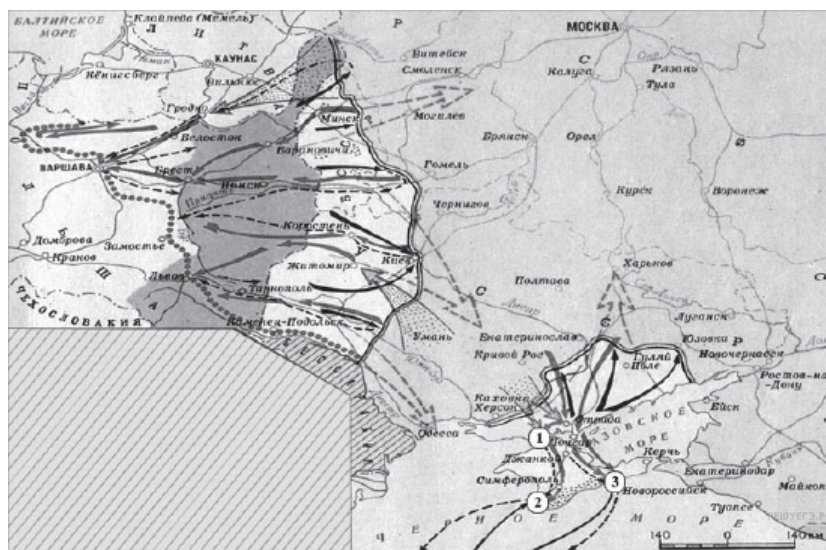
Напишите фамилию генерала, который руководил боевыми действиями на юге против Советской России.

Пояснение.

В 1920 г. военными действиями Белой армии в Крыму руководил генерал Врангель.

Ответ: Врангель

91. Задание 31 № 2570. Рассмотрите схему и выполните задание



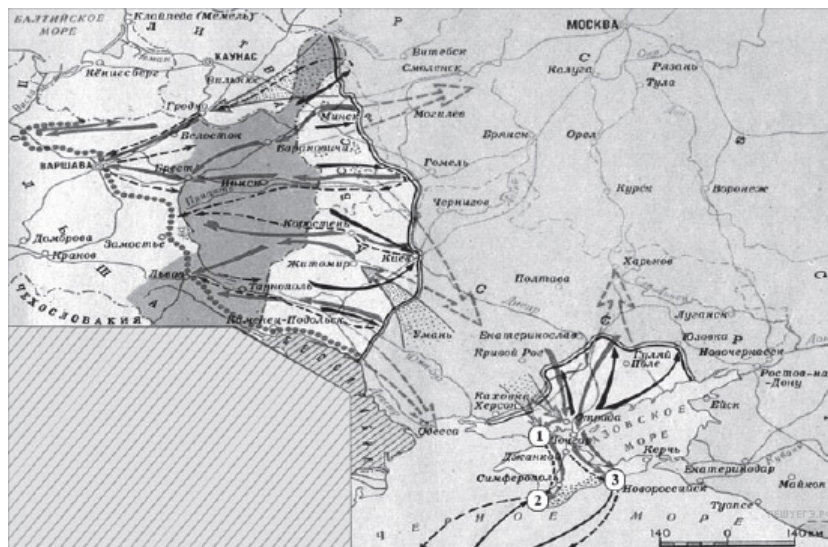
Цифрой «1» на карте обозначено место проведения решающей военной операции Красной армии на юге. Напишите его название.

Пояснение.

На карте показаны события завершающего этапа гражданской войны: военные действия Красной армии против Врангеля в Крыму. Войска Красной армии штурмовали Перекоп.

Ответ: Перекоп

92. Задание 32 № 2571. Рассмотрите схему и выполните задание



Какие суждения, относящиеся к событиям, обозначенным на карте, являются верными? Выберите три суждения из шести предложенных. Запишите в таблицу цифры, под которыми они указаны.

- 1) На карте изображены события завершающего этапа войны.
- 2) Красной армии оказывали помощь союзники по Первой мировой войне.
- 3) К периоду войны, обозначенному на карте, относится переход через залив Сиваш.
- 4) На западе Красная армия воюет против войск генерала Н. Юденича.
- 5) Война завершилась подписанием Брестского мира.
- 6) Войсками Красной армии на юге командовал М. В. Фрунзе.

Пояснение.

На карте гражданской войны изображены события завершающего этапа войны: — советско-польская война 1920 г. и разгром войск генерала П. Врангеля в Крыму. Осенью 1920 г. войска Красной армии перешли через залив Сиваш. Командование войсками Красной армии осуществлял М. В. Фрунзе.

Ответ: 136

93. Задание 29 № 4253. Рассмотрите схему и выполните задание.



Укажите аббревиатуру, обозначающую название военной организации (военного блока), противостоявшей военно-политическому блоку, включавшему страны, заштрихованные на схеме.

Пояснение.

Заштрихованные страны — это Северо-Атлантический военный блок, созданный в 1949 г. Противостоял ему блок Организация Варшавского Договора (ОВД).

Ответ: ОВД

94. Задание 30 № 4254. Рассмотрите схему и выполните задание.



Какая из стран, обозначенных на схеме цифрами, никогда не входила в военную организацию (военный блок), противостоявшую военно-политическому блоку, страны — участники которого заштрихованы на схеме? В ответе напишите название этой страны.

Пояснение.

НАТО противостоял Варшавский договор, в него никогда не входила Югославия.

Ответ: Югославия

95. Задание 31 № 4255. Рассмотрите схему и выполните задание.



Укажите фамилию руководителя СССР, при котором было создано государство, обозначенное на схеме цифрой «2».

Пояснение.

Цифрой 2 обозначена ГДР. Это государство было создано в 1949 г, когда руководителем СССР был Сталин.

Ответ: Сталин

96. Задание 32 № 4256. Рассмотрите схему и выполните задание.



Какие суждения, относящиеся к событиям, обозначенным на схеме, являются верными? Выберите три суждения из шести предложенных. Запишите в таблицу цифры, под которыми они указаны.

- 1) В страну, обозначенную на схеме цифрой «7», в 1950-х гг. были введены советские войска.
- 2) Турция в середине 1960-х гг. входила в один из противостоящих друг другу военных блоков.
- 3) США в период, к которому относится схема, входили в военно-политический блок, включающий страны, заштрихованные на схеме.
- 4) В настоящее время существуют оба военно-политических блока, противостоявших друг другу в период, к которому относится схема.
- 5) Страна, обозначенная на схеме цифрой «4», в годы Великой Отечественной войны была освобождена от фашистов советскими войсками.
- 6) На схеме обозначены все страны, избравшие социалистический путь развития на период середины 1960-х гг.

Пояснение.

- 1) В страну, обозначенную на схеме цифрой «7», в 1950-х гг. были введены советские войска. (НЕТ, в Болгарию войска не вводились)
- 2) Турция в середине 1960-х гг. входила в один из противостоящих друг другу военных блоков. (ДА, Турция входила в НАТО)
- 3) США в период, к которому относится схема, входили в военно-политический блок, включающий страны, заштрихованные на схеме. (ДА, США были одним из организаторов этого блока)
- 4) В настоящее время существуют оба военно-политических блока, противостоявших друг другу в период, к которому относится схема. (НЕТ, Варшавский Договор распался в 1991г)
- 5) Страна, обозначенная на схеме цифрой «4», в годы Великой Отечественной войны была освобождена от фашистов советскими войсками. (ДА, Венгрию освободили советские войска)
- 6) На схеме обозначены все страны, избравшие социалистический путь развития на период середины 1960-х гг. (НЕТ, были еще и азиатские страны, и Куба)

ОТВЕТ: 235

97. Задание 29 № 4053. Рассмотрите схему событий одного из периодов Великой Отечественной войны и выполните задание



Укажите название города, обозначенного на схеме цифрой «1».

Пояснение.

Цифрой (1) обозначен Сталинград.

Ответ: Сталинград

98. Задание 30 № 4054. Рассмотрите схему событий одного из периодов Великой Отечественной войны и выполните задание



Укажите название города, обозначенного на схеме цифрой «2», в районе которого произошло соединение войск двух фронтов Красной армии.

Пояснение.

Соединение произошло у города Калач-на-Дону.

Ответ: КалачнаДону|Калач-на-Дону

99. Задание 31 № 4055. Рассмотрите схему событий одного из периодов Великой Отечественной войны и выполните задание



Укажите название периода в ходе войны, начало которому положили события, обозначенные на схеме.

Пояснение.

Сталинградская битва положила начало коренному перелому в Великой Отечественной войне.

Ответ: Коренной перелом

100. Задание 32 № 4056. Рассмотрите схему событий одного из периодов Великой Отечественной войны и выполните задание



Какие суждения, относящиеся к событиям, обозначенным на схеме, являются верными? Выберите три суждения из шести предложенных. Запишите в таблицу цифры, под которыми они указаны.

- 1) На схеме обозначены боевые действия до конца 1943 г.
- 2) События, обозначенные на схеме, явились первым наступлением Красной армии в ходе Великой Отечественной войны.
- 3) На схеме обозначены боевые действия Красной армии в ходе операции «Уран».
- 4) Участником событий, обозначенных на схеме, являлся К. К. Рокоссовский.
- 5) В кольце окружения, обозначенном на схеме, оказалось более 2 млн немецких солдат.
- 6) События, обозначенные на схеме стрелками, начались в ноябре 1942 г.

Пояснение.

1) На схеме обозначены боевые действия до конца 1943 г. Неверно к концу 1943 г. наши войска овладели уже Днепром

2) События, обозначенные на схеме, явились первым наступлением Красной армии в ходе Великой Отечественной войны. неверно, Красная армия наступала и в 1941 г. под Смоленском и Москвой.

3) На схеме обозначены боевые действия Красной армии в ходе операции «Уран». Да, верно.

4) Участником событий, обозначенных на схеме, являлся К. К. Рокоссовский. Да верно.

5) В кольце окружения, обозначенном на схеме, оказалось более 2 млн немецких солдат. Нет неверно, около 1 миллиона.

6) События, обозначенные на схеме стрелками, начались в ноябре 1942 г. Да верно, наступление под Сталинградом началось 19 ноября 1942 г.

Ответ: 346

101. Задание 29 № 3413. Рассмотрите схему и выполните задания



Напишите имя монарха, в чье правление шла война, события которой обозначены на данной схеме.

Пояснение.

На карте изображены события русско-турецкой войны 1787–1791 гг. Правил Россией в это время Екатерина II.

Ответ: Екатерина|ЕкатеринаII|ЕкатеринаВторая

102. Задание 30 № 3414. Рассмотрите схему и выполните задания



Напишите фамилию русского полководца, под командованием которого была взята штурмом хорошо укрепленная крепость, обозначенная на схеме цифрой «2».

Пояснение.

Под цифрой 2 обозначен Измаил. был взят русскими войсками под командованием великого русского полководца А. В. Суворова.

Ответ: Суворов

103. Задание 31 № 3415. Рассмотрите схему и выполните задания



Напишите название государства, которое было основным противником России в войне, события которой изображены на данной схеме.

Пояснение.

Основным противником России в этой войне была Турция или Османская империя.

Ответ: Турция|Османская империя.

104. Задание 32 № 3416. Рассмотрите схему и выполните задания



Какие суждения, относящиеся к событиям, обозначенным на схеме, являются верными? Выберите три суждения из шести предложенных. Запишите в таблицу цифры, под которыми они указаны.

- 1) Город, обозначенный на схеме цифрой «3», стал базой русского Черноморского флота.
- 2) Следствием данной войны стала потеря Россией территорий, обозначенных на схеме вертикальной штриховкой.
- 3) Участниками войны, события которой изображены на данной схеме, были В. А. Корнилов и П. С. Нахимов.
- 4) Мирный договор, завершивший войну, события которой обозначены на данной схеме, был подписан в городе, отмеченном цифрой «4».
- 5) Одним из главных событий войны, ход которой изображён на данной схеме, было Чесменское морское сражение.
- 6) Русским флотом в сражении, которое произошло у мыса, обозначенного на схеме цифрой «1», командовал Ф. Ф. Ушаков.

Пояснение.

1) Город, обозначенный на схеме цифрой «3», стал базой русского Черноморского флота. Да правильно. под цифрой 3 обозначен Севастополь.

2) Следствием данной войны стала потеря Россией территорий, обозначенных на схеме вертикальной штриховкой. Нет. неправильно, Россия победила в этой войне и ничего не потеряла.

3) Участниками войны, события которой изображены на данной схеме, были В. А. Корнилов и П. С. Нахимов. Нет. неправильно. эти полководцы участвовали в Крымской войне, которая была значительно позже.

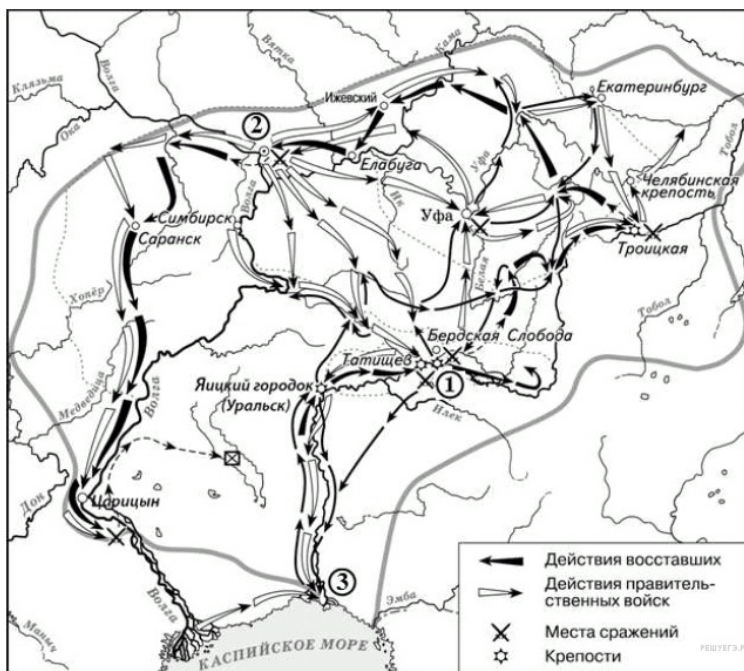
4) Мирный договор, завершивший войну, события которой обозначены на данной схеме, был подписан в городе, отмеченном цифрой «4». Да, правильно, цифрой 4 на карте обозначен город Яссы. где и был подписан мир по окончании войны.

5) Одним из главных событий войны, ход которой изображён на данной схеме, было Чесменское морское сражение. Нет. неправильно, Чесменское сражение было в 1770 г.

6) Русским флотом в сражении, которое произошло у мыса, обозначенного на схеме цифрой «1», командовал Ф. Ф. Ушаков. Да, верно. в сражении у мыса Килиакрия русским флотом командовал Ушаков.

Ответ: 146

105. Задание 29 № 5021. Назовите императора (императрицу), в чье правление происходили события, обозначенные на схеме стрелками.

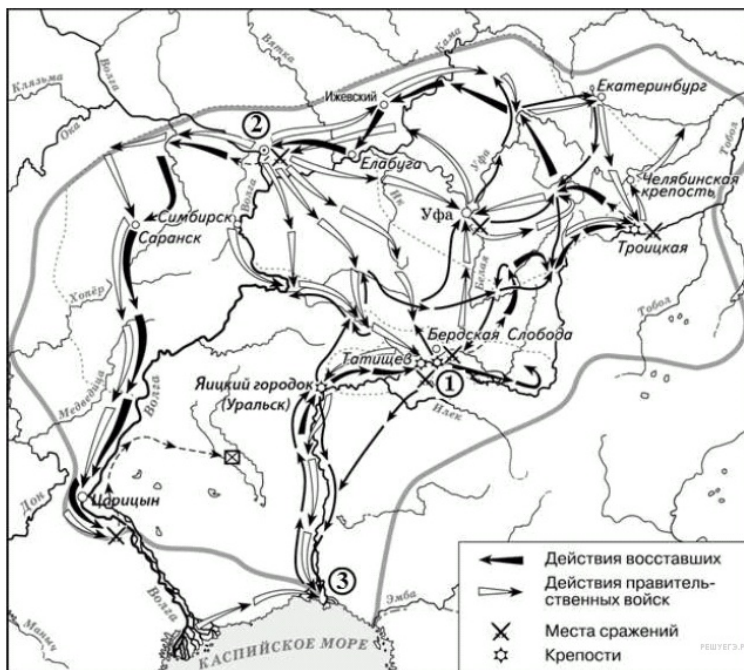


Пояснение.

Это карта Крестьянской войны Е. Пугачева 1773–1775 гг.

Ответ: Екатерина Вторая

106. Задание 30 № 5022. Укажите название реки, место впадения которой в Каспийское море обозначено на схеме цифрой «3», в период, когда происходили обозначенные на схеме события.

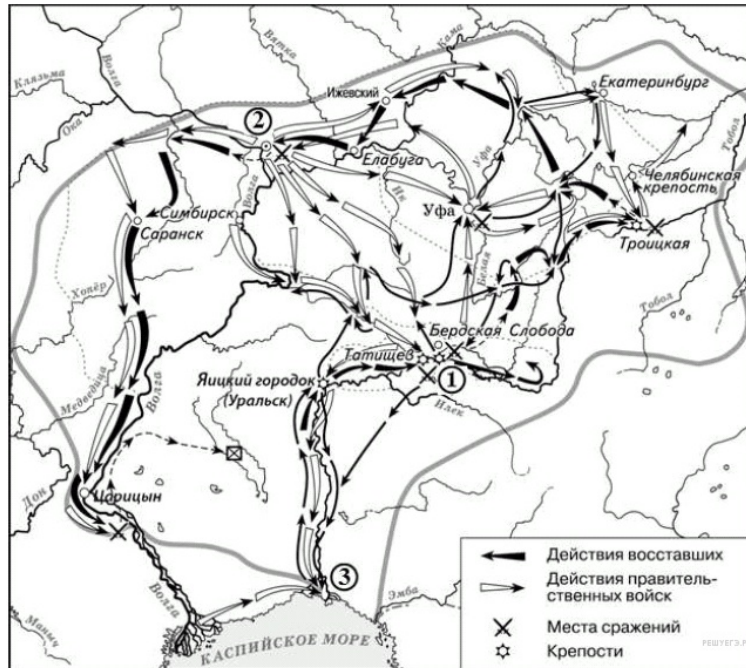


Пояснение.

Это река Яик.

Ответ: Яик

107. Задание 31 № 5023. Укажите страну, с которой Россия вела войну в период, когда происходили события, обозначенные на схеме.

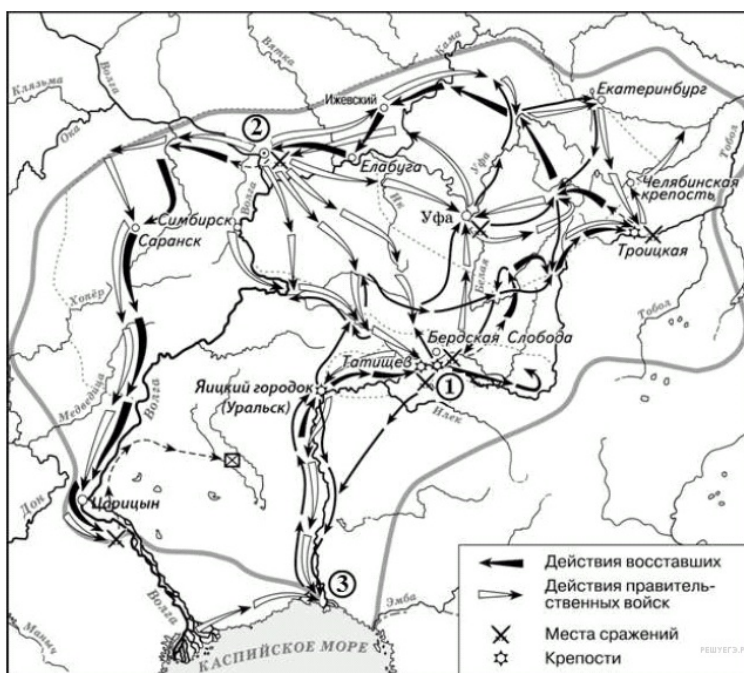


Пояснение.

Россия в это время вела войну с Турцией. 1768–1774 гг.

Ответ: Турция|Османская империя

108. Задание 32 № 5024. Какие суждения, относящиеся к исторической ситуации, обозначенной на схеме, являются верными? Выберите три суждения из шести предложенных. Запишите в ответ цифры, под которыми они указаны.



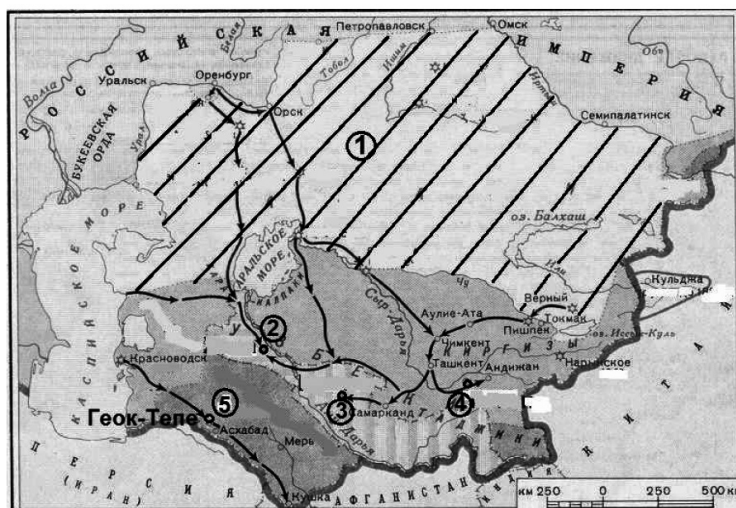
- 1) Восставшим удалось взять город, обозначенный на схеме цифрой «1».
- 2) Руководитель восстания выдавал себя за императора Ивана VI.
- 3) В сражении, произошедшем в районе города, обозначенного на схеме цифрой «2», восставшие потерпели поражение.
- 4) Находясь в районе города, обозначенного на схеме цифрой «1», руководитель восстания огласил указ, даровавший вольность крестьянам.
- 5) На схеме обозначено особым знаком место пленения руководителя восстания.
- 6) Восстание, которому посвящена схема, началось в среде казаков.

Пояснение.

- 1) Восставшим удалось взять город, обозначенный на схеме цифрой «1». Нет, неверно. Оренбург Пугачев взять не сумел.
- 2) Руководитель восстания выдавал себя за императора Ивана VI. Нет, неверно. Он выдавал себя за императора Петра III.
- 3) В сражении, произошедшем в районе города, обозначенного на схеме цифрой «2», восставшие потерпели поражение. ДА, верно. Под Казанью Пугачев потерпел поражение.
- 4) Находясь в районе города, обозначенного на схеме цифрой «1», руководитель восстания огласил указ, даровавший вольность крестьянам. НЕТ, неверно. Этот указ Пугачев издал позже, когда прибыл со своей армией на Волгу.
- 5) На схеме обозначено особым знаком место пленения руководителя восстания. ДА, верно.
- 6) Восстание, которому посвящена схема, началось в среде казаков. ДА, верно.

Ответ: 356

109. Задание 29 № 5445. Рассмотрите схему и выполните задание



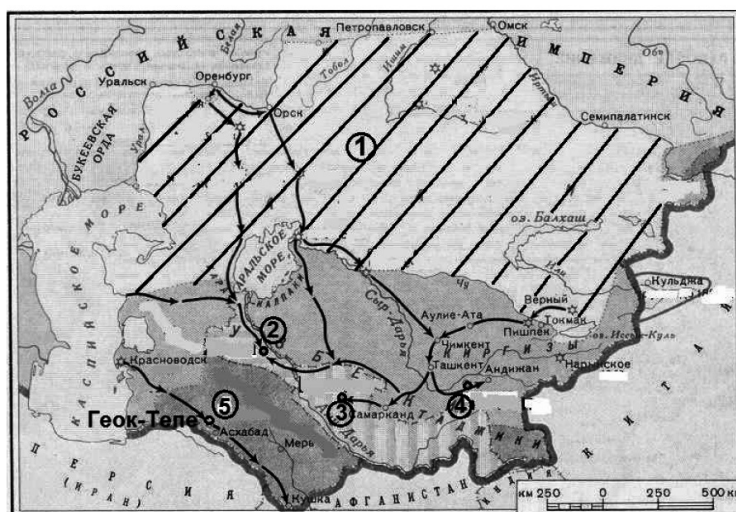
Напишите фамилию русского полководца, возглавлявшего военную операцию, в результате которой была взята крепость, обозначенная на схеме номером «5».

Пояснение.

Геок-Тепе взял генерал Скобелев

Ответ: Скобелев|Михаил Скобелев

110. Задание 29 № 5446. Рассмотрите схему и выполните задание



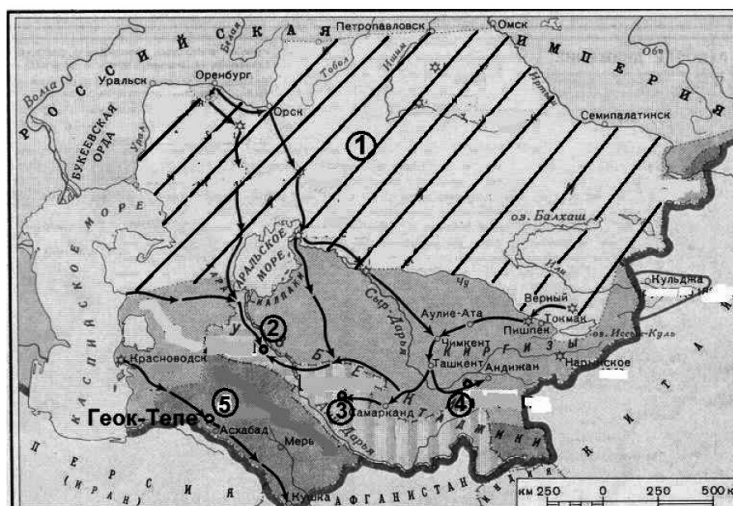
Напишите название народа, населявшего земли, одним из центров которых была крепость, обозначенная на схеме номером «5».

Пояснение.

В районе оазиса Геок-Тепе жили племена текинцев или туркменов.

Ответ: текинцы|туркмены

111. Задание 32 № 5447. Рассмотрите схему и выполните задание



Какие суждения, относящиеся к событиям, обозначенным на схеме, являются верными? Выберите три суждения из шести предложенных. Запишите в таблицу цифры, под которыми они указаны.

1) Заштрихованная территория, обозначенная цифрой «1», была в основном присоединена к России к 1850-м гг.

2) Одним из русских военачальников, участвовавших в завоевании территорий, центры которых обозначены на схеме цифрами «2», «3» и «4», был П.И. Багратион.

3) Одной из территорий, центры которых обозначены на схеме цифрами «2», «3» и «4», был Бухарский эмират.

4) Одной из сложностей, с которыми столкнулись русские войска при завоевании данных территорий, было хорошее техническое оснащение войск противника.

5) Одним из преобразований, проведённых русскими властями на территориях, центры которых обозначены на схеме цифрами «2», «3» и «4», была отмена рабства.

6) Главным европейским соперником России в контроле над данным регионом была Франция.

Пояснение.

1) Заштрихованная территория, обозначенная цифрой «1», была в основном присоединена к России к 1850-м гг. Да, верно

2) Одним из русских военачальников, участвовавших в завоевании территорий, центры которых обозначены на схеме цифрами «2», «3» и «4», был П.И. Багратион. НЕТ, Багратион уже не было в живых

3) Одной из территорий, центры которых обозначены на схеме цифрами «2», «3» и «4», был Бухарский эмират. Да, верно, Бухара под цифрой 4.

4) Одной из сложностей, с которыми столкнулись русские войска при завоевании данных территорий, было хорошее техническое оснащение войск противника. НЕТ, неверно

5) Одним из преобразований, проведённых русскими властями на территориях, центры которых обозначены на схеме цифрами «2», «3» и «4», была отмена рабства. ДА, верно.

6) Главным европейским соперником России в контроле над данным регионом была Франция. НЕТ, Англия претендовала на этот регион

Правильный ответ: 135

Ответ: 135

112. Задание 33 № 5448. Рассмотрите изображение и выполните задание

Какие суждения о данном изображении являются верными? Выберите два суждения из пяти предложенных. Запишите в ответ цифры, под которыми они указаны.

- 1) Представленная на изображении монета была выпущена в 1965 г.
- 2) Изображённый на монете памятник находится в Москве.
- 3) Автор изображённого на монете памятника – М.М. Антокольский.
- 4) Одним из элементов изображённого на монете памятника является поверженная фашистская символика.
- 5) Изображённый на монете памятник посвящён выдающемуся советскому военачальнику.

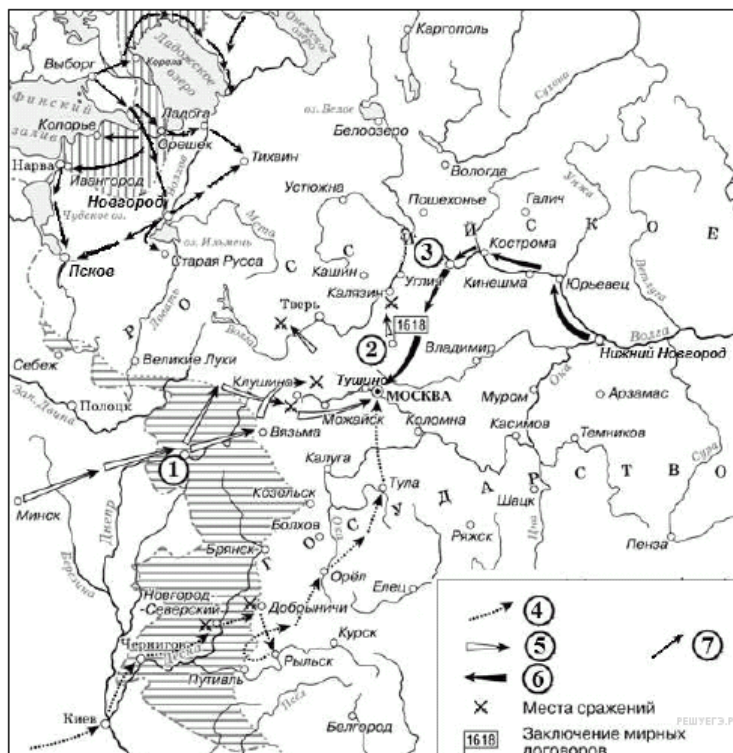
Пояснение.

- 1) Представленная на изображении монета была выпущена в 1965 г. ДА, верно.
- 2) Изображённый на монете памятник находится в Москве. НЕТ, в Берлине
- 3) Автор изображённого на монете памятника – М.М. Антокольский. НЕТ, Вучетич
- 4) Одним из элементов изображённого на монете памятника является поверженная фашистская символика. ДА, верно. Свастика под ногами
- 5) Изображённый на монете памятник посвящён выдающемуся советскому военачальнику. НЕТ, неверно

Правильный ответ: 14

Ответ: 14

113. Задание 29 № 4938. Укажите название периода истории России, когда происходили события, обозначенные на схеме стрелками.

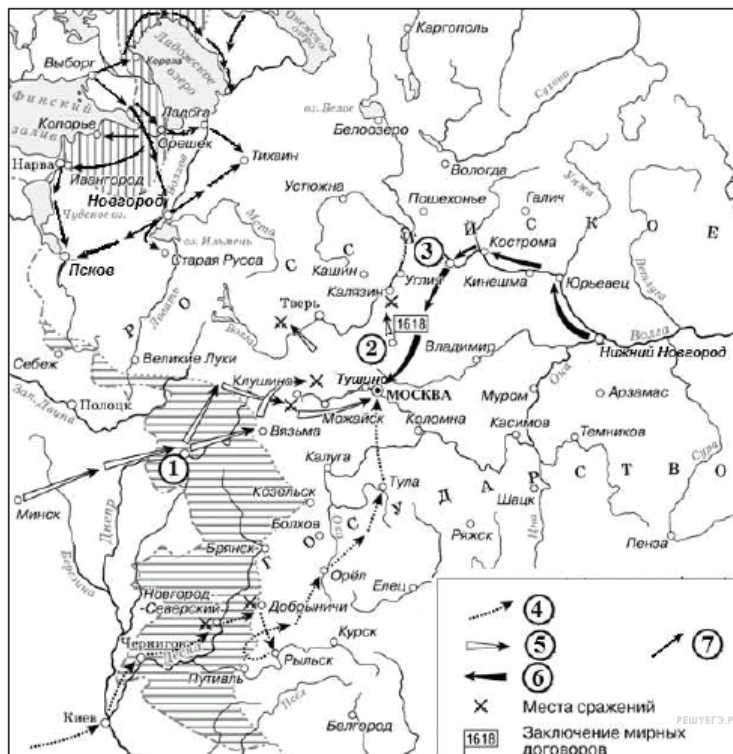


Пояснение.

Это карта Смутного времени.

Ответ: Смуты|Смутное время

114. Задание 30 № 4939. Укажите название города, обозначенного на схеме цифрой «3».

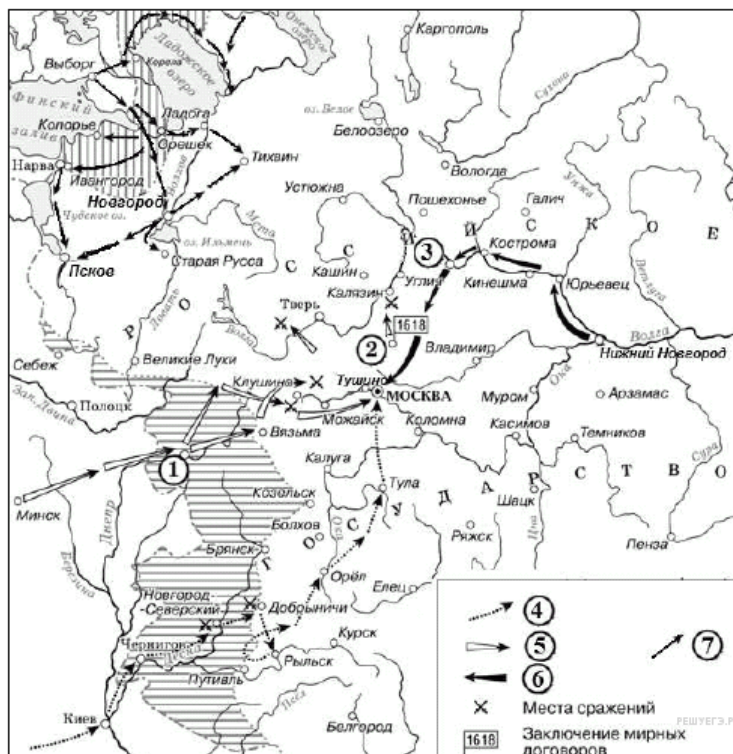


Пояснение.

Под цифрой 3 Ярославль.

Ответ: Ярославль

115. Задание 31 № 4940. Назовите короля иностранного государства, действия войск которого обозначены стрелками, подписанными в легенде схемы цифрой «5».

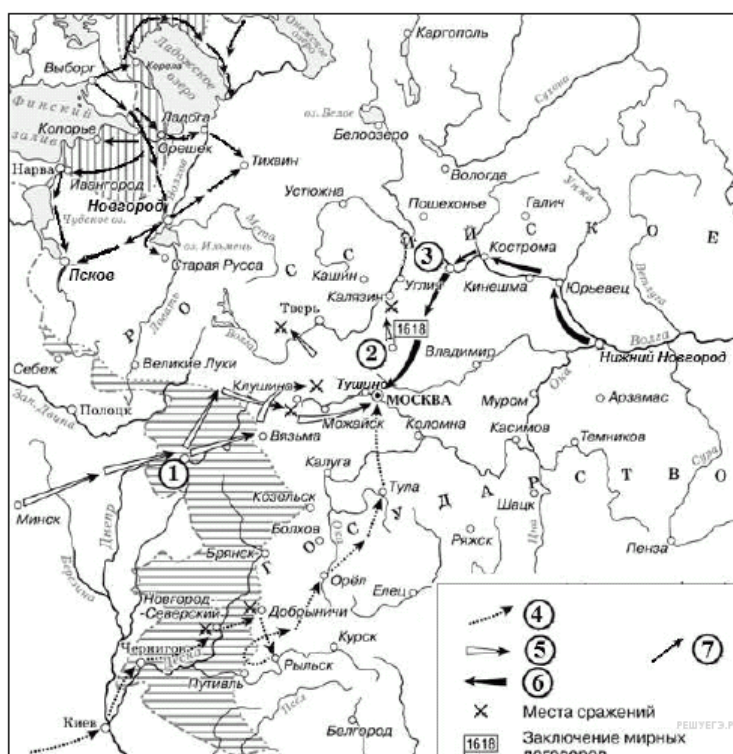


Пояснение.

Под цифрой «5» обозначены действия польского короля Сигизмунда.

Ответ: СигизмундТретий|Сигизмунд

116. Задание 32 № 4941. Какие суждения, относящиеся к исторической ситуации, обозначенной на схеме, являются верными? Выберите 3 суждения из шести предложенных. Запишите в таблицу цифры, под которыми они указаны.



1) Самозванец, действия войск которого обозначены стрелками, подписанными в легенде схемы цифрой «4», получил прозвище «Тушинский вор».

2) Город, обозначенный на схеме цифрой «1», в ходе событий, которым посвящена схема, был захвачен неприятелем после более чем 20-месячной осады.

3) Цифрой «2» на схеме обозначено село Деулино.

4) Действиями войск, обозначенных стрелками, подписанными в легенде схемы цифрой «7», в период, которому посвящена схема, командовал Карл XII.

5) Одним из руководителей похода, обозначенного стрелками, подписанными в легенде схемы цифрой «6», был М. В. Скопин-Шуйский.

6) Территории, заштрихованные на схеме, были потеряны Россией в результате обозначенных событий, но полностью возвращены в течение следующих полутора столетий.

Пояснение.

1) Самозванец, действия войск которого обозначены стрелками, подписанными в легенде схемы цифрой «4», получил прозвище «Тушинский вор». НЕТ, это поход Лжедмитрия I.

2) Город, обозначенный на схеме цифрой «1», в ходе событий, которым посвящена схема, был захвачен неприятелем после более чем 20-месячной осады. ДА, верно. Это Смоленск.

3) Цифрой «2» на схеме обозначено село Деулино. ДА, верно. Там заключили перемирие.

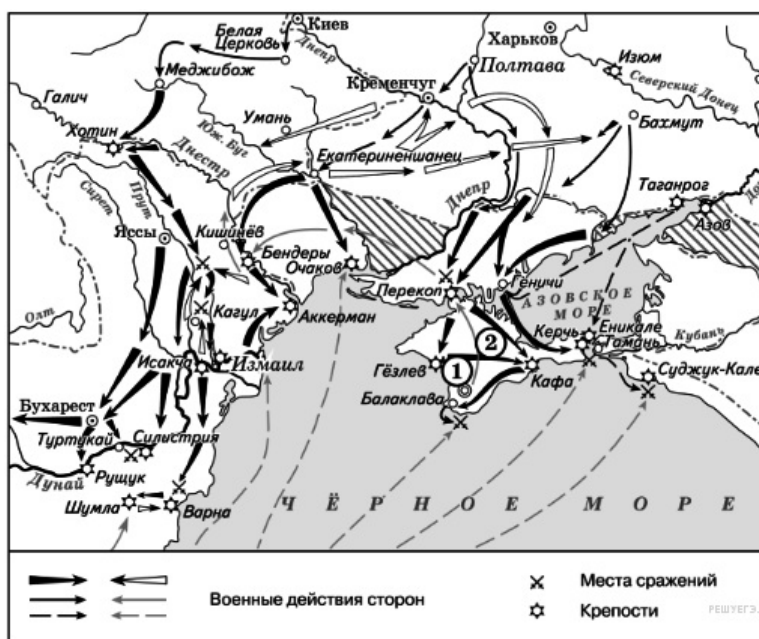
4) Действиями войск, обозначенных стрелками, подписанными в легенде схемы цифрой «7», в период, которому посвящена схема, командовал Карл XII. НЕТ, неверно. Карл XII относится к XVIII в.

5) Одним из руководителей похода, обозначенного стрелками, подписанными в легенде схемы цифрой «6», был М. В. Скопин-Шуйский. НЕТ, неверно. Это поход Второго ополчения Минина и Пожарского.

6) Территории, заштрихованные на схеме, были потеряны Россией в результате обозначенных событий, но полностью возвращены в течение следующих полутора столетий. ДА, верно.

Ответ: 236

117. Задание 29 № 3813. Рассмотрите схему и выполните задания

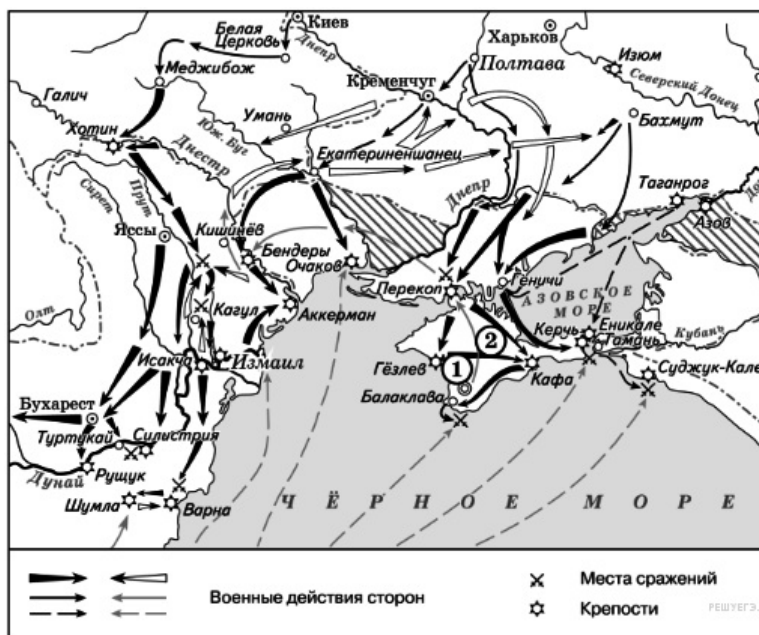


Назовите монарха, в чьё правление шла война, события которой обозначены на данной схеме.
Пояснение.

На карте изображена русско-турецкая война 1768–1774 гг. Страной управляла Екатерина II.

Ответ: Екатерина|ЕкатеринаII|ЕкатеринаВторая

118. Задание 30 № 3814. Рассмотрите схему и выполните задания



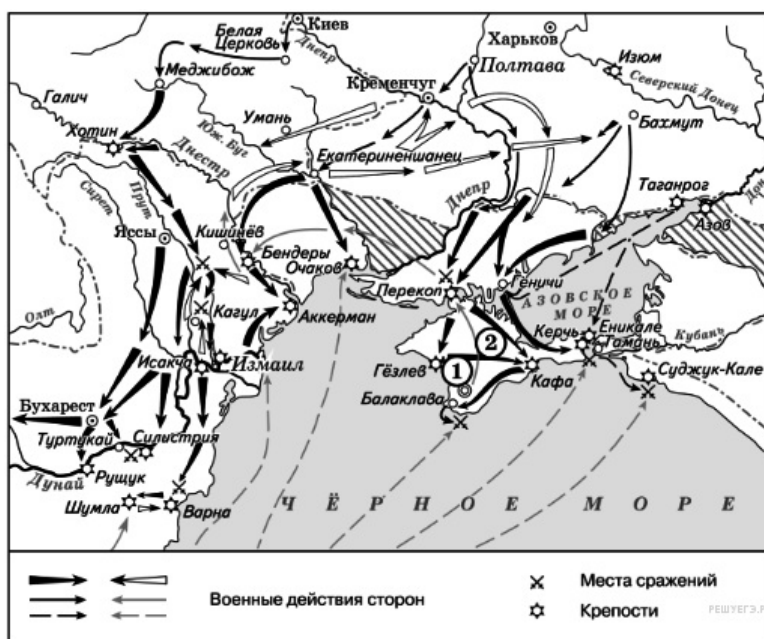
Назовите фамилию государственного деятеля, получившего почётный титул за присоединение и освоение территорий, обозначенных на схеме цифрой «2».

Пояснение.

Потемкин получил титул князя Таврического за присоединение и освоение Крыма.

Ответ: Потемкин|Потемкин-Таврический|Потёмкин

119. Задание 31 № 3815. Рассмотрите схему и выполните задания



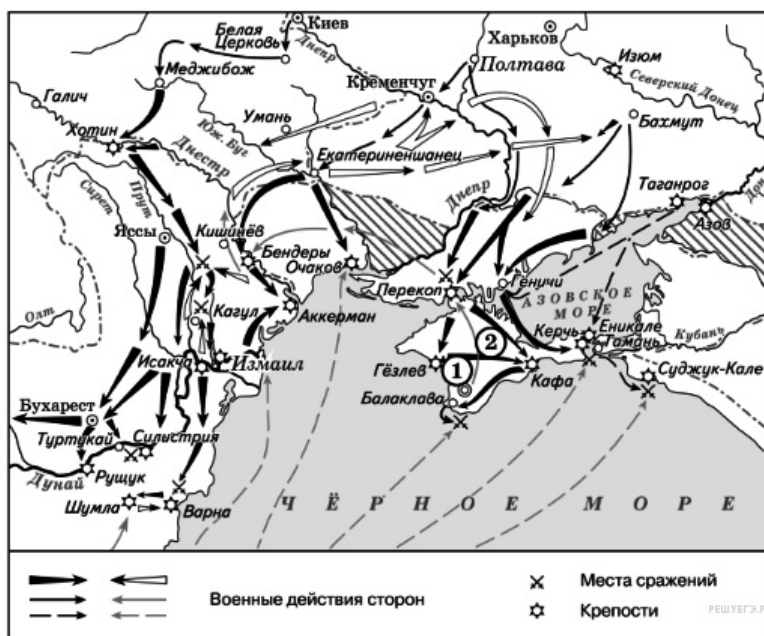
Напишите название государства, которое было основным противником России в войне, события которой изображены на данной схеме.

Пояснение.

Главным противником России была Турция.

Ответ: Турция|Османская империя

120. Задание 32 № 3816. Рассмотрите схему и выполните задания



Какие суждения, относящиеся к событиям, обозначенным на схеме, являются верными? Выберите три суждения из шести предложенных. Запишите в таблицу цифры, под которыми они указаны.

- 1) Мирный договор, завершивший войну, события которой обозначены на данной схеме, был подписан в городе, отмеченном цифрой «1».
- 2) В результате этой войны Россия утратила заштрихованные на схеме территории.
- 3) Участниками событий данной войны были А. Орлов и П. Румянцев.
- 4) После завершения войны, события которой обозначены на данной схеме, Россия стала империей.
- 5) Начало войны, события которой изображены на данной схеме, стало предлогом для прекращения деятельности Уложенной комиссии.
- 6) Следствием войны, события которой изображены на данной схеме, стало получение Россией выхода к Чёрному морю.

Пояснение.

В результате войны 1768-1774 гг. Россия получила выход к Черному морю, из-за начала войны распустили Уложенную комиссию. Орлов и Спиридов командовали флотом при Чесме 1770 г. Румянцев на реке Ларге.

Ответ: 356

121. Задание 29 № 3773. Рассмотрите схему и выполните задания



Укажите название военно-политического блока, в который в середине 1960-х гг. входили страны, заштрихованные на схеме.

Пояснение.

Заштрихованные страны входили в блок НАТО.

Ответ: Блок НАТО|НАТО

122. Задание 30 № 3774. Рассмотрите схему и выполните задания



Одной из цифр на схеме обозначена страна, никогда не входившая в военную организацию (военный блок), в которую в середине 1960-х гг. входили все остальные страны, обозначенные цифрами. Укажите название этой страны.

Пояснение.

Цифрой 4 обозначена Австрия, она никогда не входила в на в ОВД, ни в НАТО.

Ответ: Австрия

123. Задание 31 № 3775. Рассмотрите схему и выполните задания



Укажите фамилию руководителя СССР, при котором в страну, обозначенную на схеме цифрой «3», были введены советские войска.

Пояснение.

Войска были введены в Чехословакию в 1968 г. когда СССР руководил Брежнев.

Ответ: Брежнев

124. Задание 32 № 3776. Рассмотрите схему и выполните задания



Какие суждения, относящиеся к событиям, обозначенным на схеме, являются верными? Выберите три суждения из шести предложенных. Запишите в таблицу цифры, под которыми они указаны.

- 1) Испания в середине 1960-х гг. входила в один из противостоящих друг другу военных блоков.
- 2) На данной схеме отражён раскол Германии на два государства.
- 3) На схеме обозначены все страны, избравшие социалистический путь развития на период середины 1960-х гг.
- 4) Все страны, обозначенные на схеме цифрами, в годы Великой Отечественной войны были освобождены Красной армией или при её активном участии.
- 5) В настоящее время существуют оба военно-политических блока, противостоявших друг другу в период, показанный на схеме.
- 6) Данная схема характеризует международное положение, сложившееся в период «холодной войны».

Пояснение.

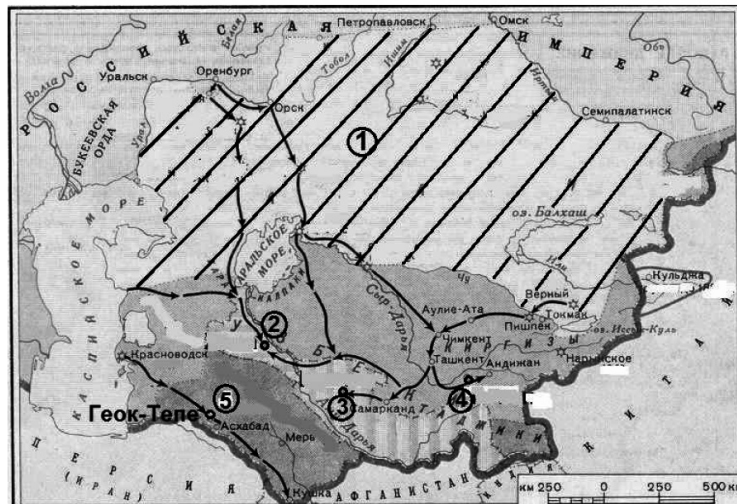
Германия раскололась на два государства ГДР, цифра 2;

Все страны обозначенные цифрами были освобождены от фашизма при помощи Красной армии;

Данная схема показывает раскол европы на два лагеря в годы «холодной войны».

Ответ: 246

125. Задание 29 № 5446. Рассмотрите схему и выполните задание



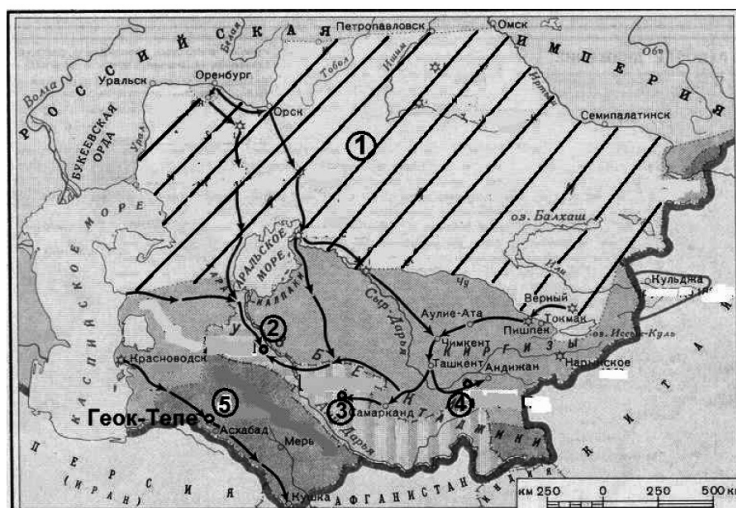
Напишите название народа, населявшего земли, одним из центров которых была крепость, обозначенная на схеме номером «5».

Пояснение.

В районе оазиса Геок-Тепе жили племена текинцев или туркменов.

Ответ: текинцы|туркмены

126. Задание 32 № 5447. Рассмотрите схему и выполните задание



Какие суждения, относящиеся к событиям, обозначенным на схеме, являются верными? Выберите три суждения из шести предложенных. Запишите в таблицу цифры, под которыми они указаны.

1) Заштрихованная территория, обозначенная цифрой «1», была в основном присоединена к России к 1850-м гг.

2) Одним из русских военачальников, участвовавших в завоевании территорий, центры которых обозначены на схеме цифрами «2», «3» и «4», был П.И. Багратион.

3) Одной из территорий, центры которых обозначены на схеме цифрами «2», «3» и «4», был Бухарский эмират.

4) Одной из сложностей, с которыми столкнулись русские войска при завоевании данных территорий, было хорошее техническое оснащение войск противника.

5) Одним из преобразований, проведённых русскими властями на территориях, центры которых обозначены на схеме цифрами «2», «3» и «4», была отмена рабства.

6) Главным европейским соперником России в контроле над данным регионом была Франция.

Пояснение.

1) Заштрихованная территория, обозначенная цифрой «1», была в основном присоединена к России к 1850-м гг. Да, верно

2) Одним из русских военачальников, участвовавших в завоевании территорий, центры которых обозначены на схеме цифрами «2», «3» и «4», был П.И. Багратион. НЕТ, Багратион уже не было в живых

3) Одной из территорий, центры которых обозначены на схеме цифрами «2», «3» и «4», был Бухарский эмират. Да, верно, Бухара под цифрой 4.

4) Одной из сложностей, с которыми столкнулись русские войска при завоевании данных территорий, было хорошее техническое оснащение войск противника. НЕТ, неверно

5) Одним из преобразований, проведённых русскими властями на территориях, центры которых обозначены на схеме цифрами «2», «3» и «4», была отмена рабства. ДА, верно.

6) Главным европейским соперником России в контроле над данным регионом была Франция. НЕТ, Англия претендовала на этот регион

Правильный ответ:135

Ответ: 135

127. Задание 33 № 5448. Рассмотрите изображение и выполните задание

Какие суждения о данном изображении являются верными? Выберите два суждения из пяти предложенных. Запишите в ответ цифры, под которыми они указаны.

- 1) Представленная на изображении монета была выпущена в 1965 г.
- 2) Изображённый на монете памятник находится в Москве.
- 3) Автор изображённого на монете памятника – М.М. Антокольский.
- 4) Одним из элементов изображённого на монете памятника является поверженная фашистская символика.
- 5) Изображённый на монете памятник посвящён выдающемуся советскому военачальнику.

Пояснение.

- 1) Представленная на изображении монета была выпущена в 1965 г. ДА, верно.
- 2) Изображённый на монете памятник находится в Москве.НЕТ, в Берлине
- 3) Автор изображённого на монете памятника – М.М. Антокольский.НЕТ, Вучетич
- 4) Одним из элементов изображённого на монете памятника является поверженная фашистская символика. ДА, верно. Свастика под ногами
- 5) Изображённый на монете памятник посвящён выдающемуся советскому военачальнику. НЕТ, неверно

Правильный ответ: 14

Ответ: 14

128. Задание 33 № 5449. Рассмотрите изображение и выполните задание

Какой монумент был создан тем же скульптором, авторству которого принадлежит памятник на монете? В ответе запишите цифру, под которой этот монумент указан.

1)



2)



3)



4)



Пояснение.

Монумент "Родина-мать" на Мамаевом кургане также установлен скульптором Вучетичем.

Правильный ответ: 3

Ответ: 3

129. Задание 29 № 2705. Рассмотрите схему и выполните задание



Напишите имя князя, осуществившего походы, обозначенные на схеме стрелками.

Пояснение.

На карте Древней Руси изображены два направления походов князя Святослава — против хазар и на Балканы против Болгарии и Византии.

Ответ: Святослав

130. Задание 30 № 2706. Рассмотрите схему и выполните задание



Напишите название города, обозначенного на схеме цифрой «1».

Пояснение.

Булгар — столица Волжской Булгарии.

Ответ: Булгар

131. Задание 31 № 2707. Рассмотрите схему и выполните задание



Напишите цифру, которой обозначено государство, созданное кочевым народом, в политической зависимости от которого находилась часть восточнославянских племенных союзов, но в ходе предпринятых киевским князем походов был нанесен сокрушительный удар: он захватил и разорил главные его города Итиль, Семендер, Самкерц (русс. Тмутаракань) и Саркел, основав на

месте последнего крепость Белая Вежа.

Пояснение.

Хазарский каганат — государство, созданное кочевым народом, в политической зависимости от которого находилась часть восточнославянских племенных союзов (например, вятичи), но в ходе предпринятых киевским князем походов по которому был нанесен сокрушительный удар: он захватил и разорил главные его города Итиль, Семендер, Самкерц (русс. Тмутаракань) и Саркел, основав на месте последнего крепость Белая Вежа.

Ответ: 3

132. Задание 32 № 2708. Рассмотрите схему и выполните задание



Какие суждения, относящиеся к событиям, обозначенным на схеме, являются верными? Выберите суждения из шести предложенных. Запишите в таблицу цифры, под которыми они указаны.

- 1) На данной карте стрелками обозначены походы Ярослава Мудрого против половцев.
- 2) О первых самостоятельных шагах князя «Повесть временных лет» сообщает с 964 года, когда «пошёл на Оку реку и на Волгу, и встретил вятичей»: в результате похода вятичи были временно подчинены Киевской Руси.
- 3) Во время походов князь «смирил» печенегов и заставил их платить дань Киеву».
- 4) По сведениям древнерусской летописи, победоносный полководец вплотную подошёл к Царьграду, но отступил, лишь взяв большую дань и закончив войну против Византийской империи подписанием мира.

5) В результате ратных походов (964-972), обозначенных на схеме, князь с дружиной победил Хазарию и Волжскую Болгарию, ослабил и устрасил Византийскую Империю, открыл пути для торговли Руси с восточными странами.

6) Балканские завоевания были утрачены, но победы на Волге, на Дону и в Приазовье были закреплены. Это дало возможность взять под контроль Великий Волжский путь, который соединяет Русь, Скандинавию и Каспий.

Пояснение.

На карте Древней Руси изображены походы князя Святослава. В результате походов Святослав разгромил вятичей и присоединил их к Киеву. После разгрома хазар установил контроль на Волгой. Святослав вел борьбу на Балканах против Болгарии и Византии, одержал ряд побед, но потерпел поражение от Византии.

Ответ: 256

133. Задание 29 № 2140. Рассмотрите схему и выполните задание



Как называл летописец Нестор древний речной путь, обозначенный на схеме цифрой «1».

Пояснение.

Нестор называл этот путь «из варяг в греки».

Ответ: из варяг в греки|путь из варяг в греки

134. Задание 30 № 2141. Рассмотрите схему и выполните задание



Напишите название древнего речного пути, обозначенного на схеме цифрой «2».

Пояснение.

Это второй по значению торговый путь, названный великим волжским путем или путем из варяг в арабы.

Ответ: великий волжский путь|волжский|волжский путь|путь из варяг в арабы

135. Задание 31 № 2142. Рассмотрите схему и выполните задание



В какой город, расположенный на берегу проливов, соединяющих Чёрное и Средиземное моря, стремились купцы из Скандинавии?

Пояснение.

В столицу Византийской империи — Константинополь.

Ответ: Константинополь

136. Задание 32 № 2143. Рассмотрите схему и выполните задание



Какие суждения, относящиеся к обозначенным на схеме древним речным путям, являются верными. Выберите три суждения из шести предложенных. Запишите в таблицу цифры, под которыми они указаны.

1) из Византии в государства Скандинавии купцы везли мёд, воск, пеньку

- 2) одной из причин окончательного упадка торгового пути из Балтийского моря в Чёрное стал захват монголо-татарами нижнего и среднего Поднепровья в XIII в.
- 3) торговый путь из Балтийского моря в Чёрное был ликвидирован после захвата турками столицы Византии в середине XV в.
- 4) между Западной Двиной и Днестром торговые суда перетаскивались волоком
- 5) одним из государств, контролировавшим торговлю на пути из Балтийского в Каспийское море до конца 60-х гг. X в. была Хазария (Хазарский каганат)
- 6) князь Олег заключил выгодный торговый договор между Русью и Византией в середине IX в.

Пояснение.

2) одной из причин окончательного упадка торгового пути из Балтийского моря в Чёрное стал захват монголо-татарами нижнего и среднего Поднепровья в XIII в.

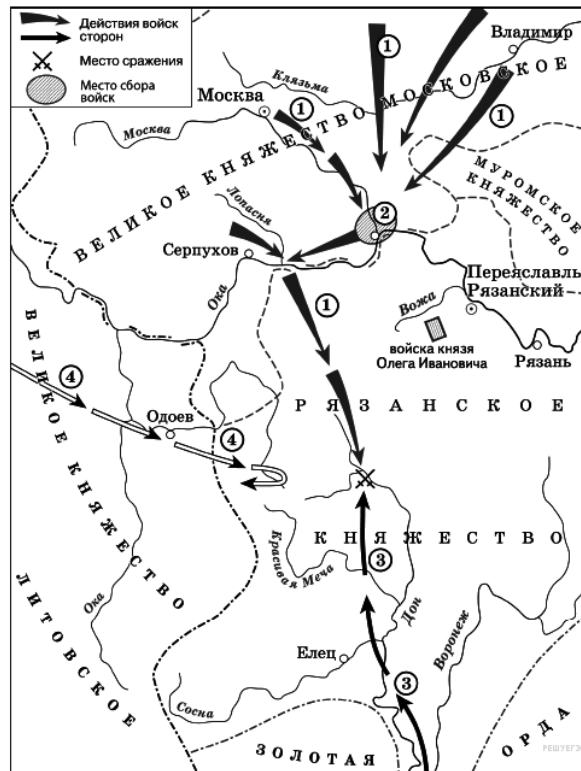
4) между Западной Двиной и Днестром торговые суда перетаскивались волоком

5) одним из государств, контролировавшим торговлю на пути из Балтийского в Каспийское море до конца 60-х гг. X в. была Хазария (Хазарский каганат)

Ответ: 245

137. Задание 29 № 5865. Укажите век, к которому относятся события, обозначенные на схеме.

Ответ напишите словом.

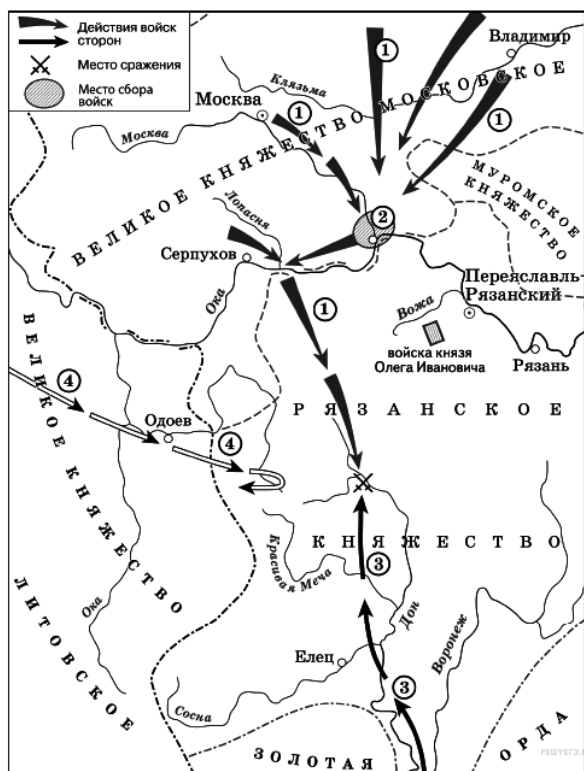


Пояснение.

Это Куликовская битва. Значит XIV в

Ответ: четырнадцатый

138. Задание 30 № 5866. Укажите название города, обозначенного на схеме цифрой «2».

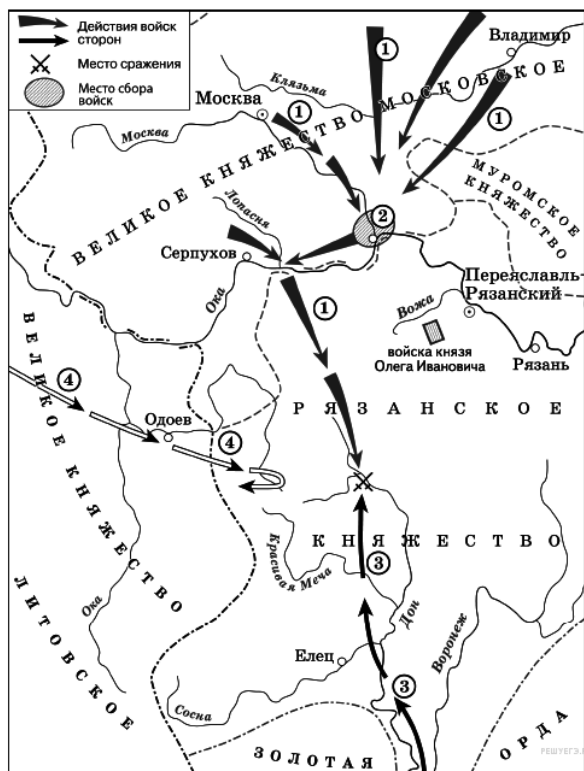


Пояснение.

Это Коломна.

Ответ: Коломна.

139. Задание 31 № 5867. Укажите полководца, возглавившего поход, направление которого обозначено на схеме цифрой «3».



Пояснение.

Это Мамай.

Ответ: Мамай

140. Задание 32 № 5868. Какие суждения, относящиеся к исторической ситуации, обозначенной на схеме, являются верными? Выберите три суждения из шести предложенных. Запишите в таблицу цифры, под которыми они указаны.

1) Действиями войск, направление движения которых обозначено на схеме цифрой «1», руководил князь – основатель династии московских князей.

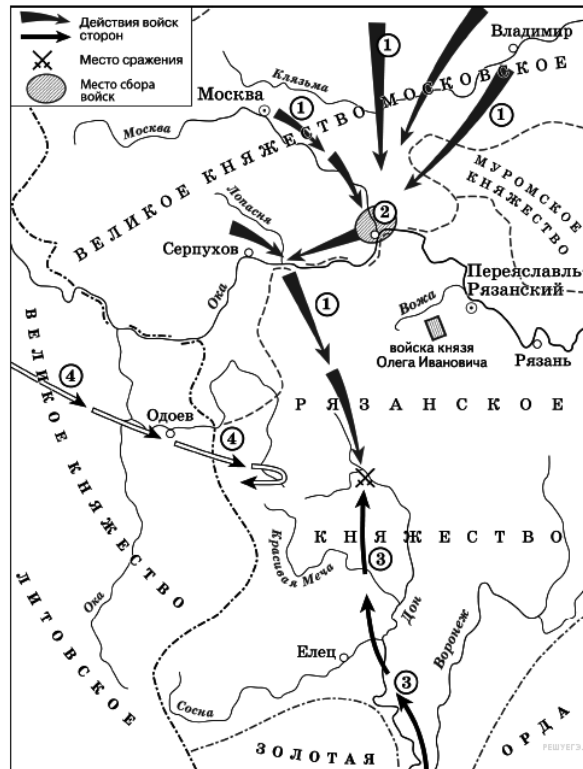
2) Цифрой «4» на схеме обозначено направление движения войск под руководством литовского князя Ягайло.

3) В результате сражения, обозначенного на схеме, на Руси было окончательно ликвидировано ордынское владычество.

4) В сражении, обозначенном на схеме, на стороне русских войск принимали участие войска рязанского князя.

5) В период правления князя, руководившего действиями войск, обозначенных на схеме цифрой «1», были возведены белокаменные стены Московского Кремля.

6) На схеме обозначена река, по названию которой было дано прозвище московскому князю, руководившему действиями русских войск, обозначенных на схеме цифрой «1».



Пояснение.

Единственно верным вариантом является: 256

Ответ: 256

141. Задание 29 № 2488. Рассмотрите схему и выполните задание



Напишите название военного плана, изображённого на карте.

Пояснение.

На карте изображены события начального периода Великой Отечественной войны. На карте изображена стратегическая линия Архангельск — Астрахань, куда предполагали выйти фашистские войска по плану Барбаросса.

Ответ: Барбаросса

142. Задание 30 № 2489. Рассмотрите схему и выполните задание



Напишите название города, обозначенного на схеме цифрой «4».

Пояснение.

Под цифрой 4 на карте обозначен Сталинград на Волге.

Ответ: Сталинград

143. Задание 31 № 2490. Рассмотрите схему и выполните задание



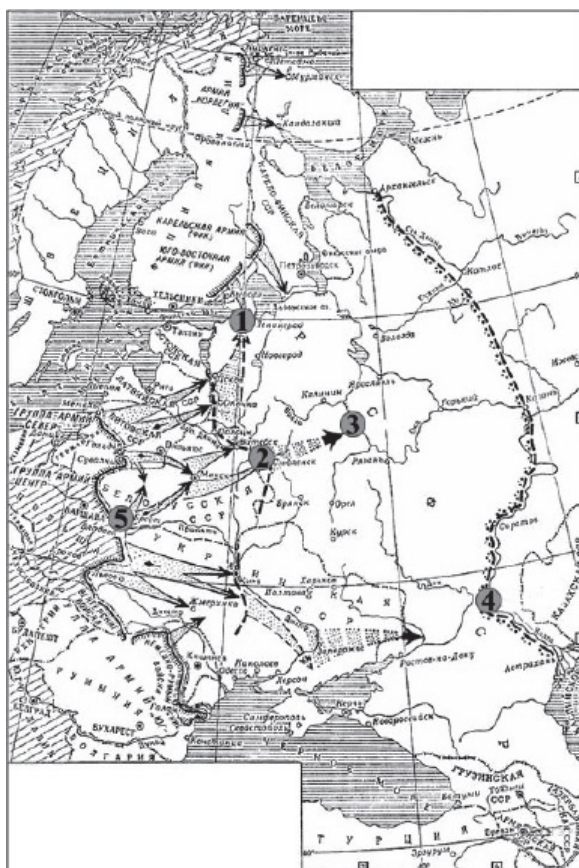
Напишите цифру, которой обозначен город, для захвата которого была разработана операция «Тайфун».

Пояснение.

Операция «Тайфун» — стратегический план наступления немцев на Москву.

Ответ: 3

144. Задание 32 № 2491. Рассмотрите схему и выполните задание



Какие суждения, относящиеся к событиям, обозначенным на карте, являются верными? Выберите три суждения из шести предложенных. Запишите в таблицу цифры, под которыми они указаны.

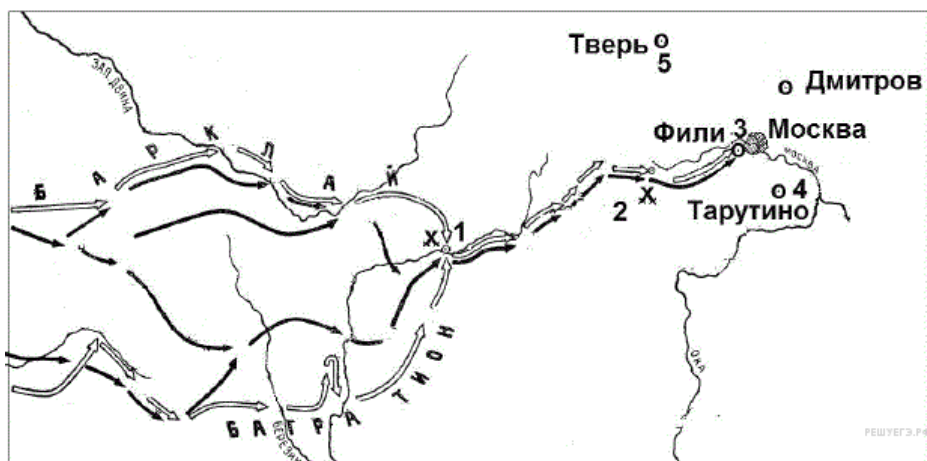
- 1) Карта относится к начальному этапу войны.
- 2) Германия планировала завершить войну к концу лета 1942 г.
- 3) Для отражения агрессии, обозначенной на карте, был создан Совет труда и обороны.
- 4) Руководителем страны в это время был И.В. Сталин.
- 5) Сражение под Смоленском стало важным этапом в срыве фашистской стратегии «блицкрига».
- 6) Наступление немецких войск было остановлено по всей линии фронта зимой 1941 г.

Пояснение.

На карте изображены события начального периода Великой Отечественной войны. Руководителем в этот период страны был И. В. Сталин. Сражение под Смоленском остановило безостановочное продвижение немцев к Москве и стало важным этапом в срыве фашистской стратегии «блицкрига». Операция «Барбаросса» предполагала собой продолжительность основных боевых действий 2—3 месяца при начале операции в июне, т. е. должны были быть закончена летом 1941 года.

Ответ: 145

145. Задание 29 № 4698. Напишите название войны, события которой изображены на схеме.

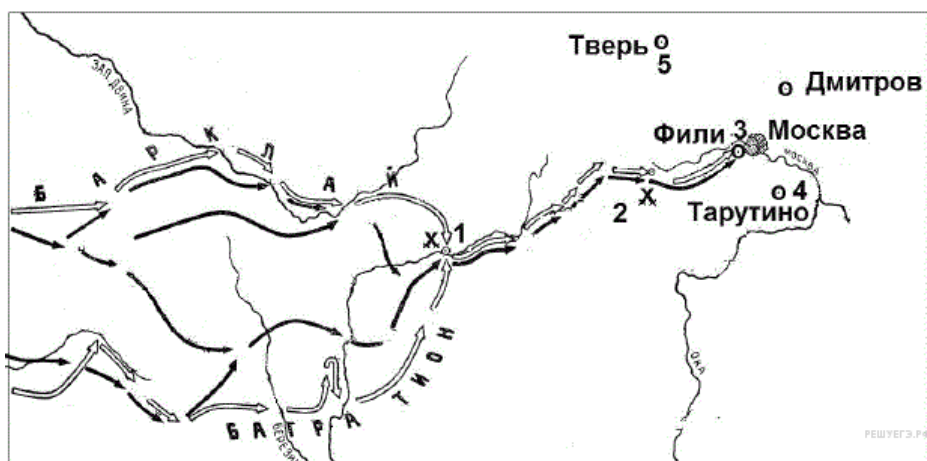


Пояснение.

На карте показано отступление русской армии в ходе войны 1812 г.

Ответ: Отечественная

146. Задание 30 № 4699. Напишите фамилию полководца, который возглавил русские войска вскоре после сражения, обозначенного на схеме цифрой «1».

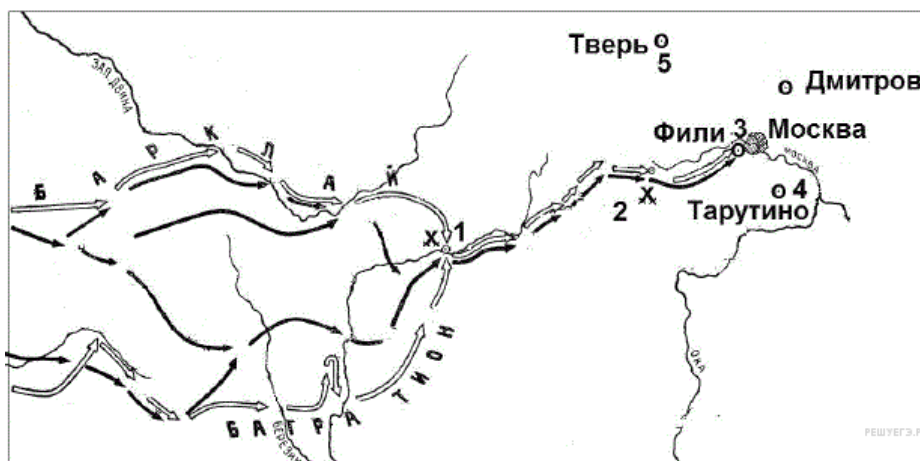


Пояснение.

Русскую армию после Смоленского сражения возглавил Кутузов.

Ответ: Кутузов

147. Задание 31 № 4700. Напишите название местности, где произошло сражение, обозначенное на схеме цифрой «2».

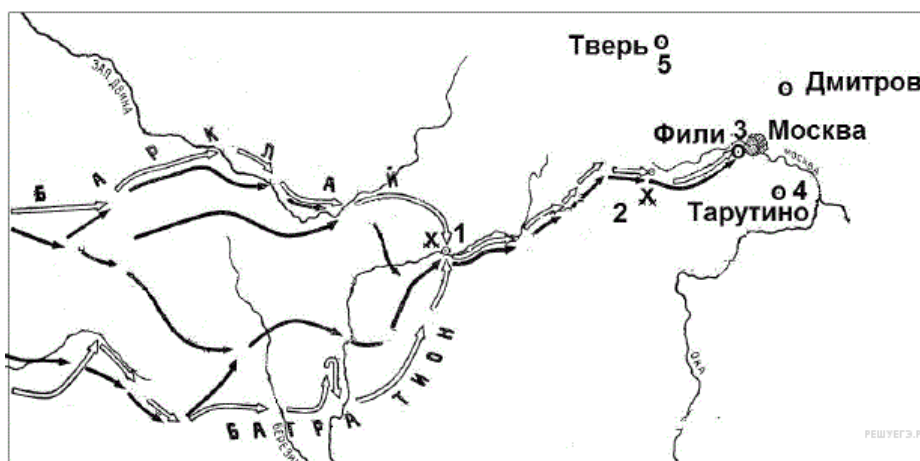


Пояснение.

Под цифрой 2 показано сражение у деревни Бородино.

Ответ: Бородино

148. Задание 32 № 4701. Какие суждения, относящиеся к событиям, связанным со схемой, являются верными? Выберите три суждения из шести предложенных. Запишите в ответ цифры, под которыми они указаны.



- 1) указанные на схеме военные действия длились больше года
- 2) с начала войны русские войска преследовали вторгшегося неприятеля
- 3) самое кровопролитное сражение этой войны произошло под Вязьмой
- 4) после оставления Москвы русские войска отошли в пункт, обозначенный на схеме цифрой «4»
- 5) императором России в период этой войны был Александр I
- 6) вторгшаяся в Россию неприятельская армия получила в истории название «Великая армия»

Пояснение.

1) указанные на схеме военные действия длились больше года. Нет, война длилась меньше года;

2) с начала войны русские войска преследовали вторгшегося неприятеля. Нет, наша армия отступала в начале войны;

3) самое кровопролитное сражение этой войны произошло под Вязьмой. Нет, неверно, самое кровопролитное произошло у Бородино;

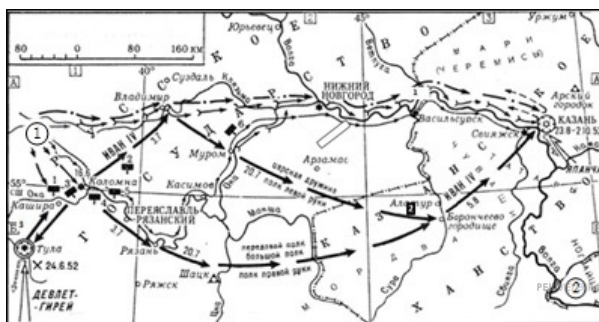
4) после оставления Москвы русские войска отошли в пункт, обозначенный на схеме цифрой «4» Да, верно. Это Тарутинский марш-маневр;

5) императором России в период этой войны был Александр I. Да, верно;

6) вторгшаяся в Россию неприятельская армия получила в истории название «Великая армия». Да, верно.

Ответ: 456

149. Задание 29 № 2717. Рассмотрите схему и выполните задание



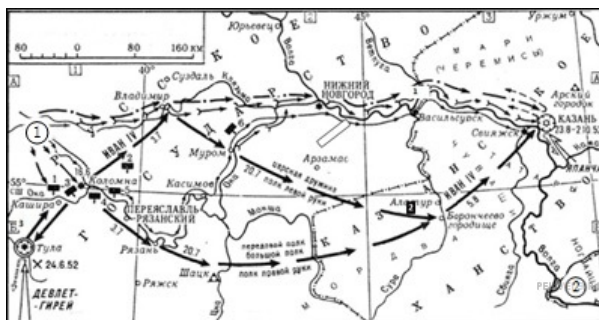
Напишите имя правителя, осуществившего поход, обозначенный на схеме стрелками.

Пояснение.

На карте показан поход Ивана IV на Казань в 1552 году.

Ответ: Иван Четвертый|Иван IV|Иван Грозный

150. Задание 30 № 2718. Рассмотрите схему и выполните задание



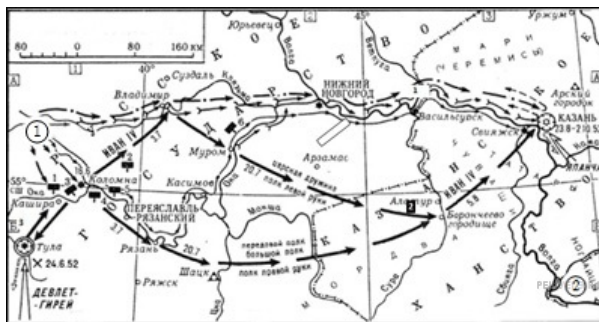
Напишите название города, обозначенного на схеме цифрой «1».

Пояснение.

Цифрой «1» обозначен город Москва.

Ответ: Москва

151. Задание 31 № 2719. Рассмотрите схему и выполните задание



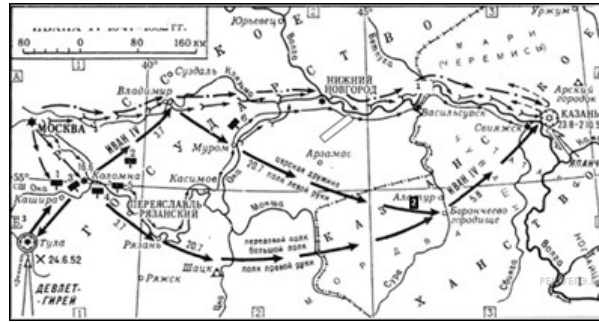
Укажите название обозначенной цифрой 2 земли, где в период данного похода существовало кочевое государство, образовавшееся в результате распада Золотой Орды, фактически с 1557 г. добровольно вошедшего в сферу политического и экономического влияния Русского централизованного государства.

Пояснение.

Цифрой 2 обозначена Ногайская Орда — кочевое государство, образовавшееся в результате распада Золотой Орды под ударами армии Тамерлана (1391) в междуречье Волги и Иртыша.

Ответ: Ногайская Орда

152. Задание 32 № 2720. Рассмотрите схему и выполните задание



Какие суждения, относящиеся к событиям, обозначенным на схеме, являются верными? Выберите суждения из шести предложенных. Запишите в таблицу цифры, под которыми они указаны.

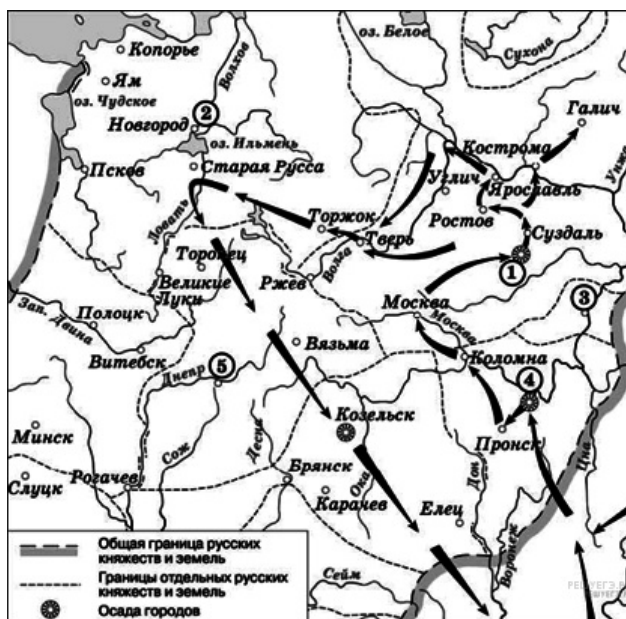
- 1) для завоевания столицы ханства была предпринята серия военных походов: второй из них увенчался успехом;
- 2) в 1559 году московский царь в третий раз осадил столицу ханства;
- 3) после взрыва городских стен заложенным в тайно сделанных подкопах порохом, город был взят штурмом, значительная часть населения перебита, а сам город сгорел;
- 4) в результате событий, обозначенных на схеме, ханство прекратило своё существование, и Среднее Поволжье в значительной своей части было присоединено к России, в итоге возникли предпосылки для освоения русскими переселенцами Поволжья, дальнейшего продвижения на Урал и в Сибирь
- 5) одним из последствий событий, обозначенных на схеме, было начало раздробленности Золотой Орды;
- 6) в память о взятии столицы и победе над ханством был построен Собор Василия Блаженного на Красной площади в Москве.

Пояснение.

На карте изображен поход Ивана Грозного против Казанского ханства в 1552 г. В ходе осады Казани после взрыва городских стен заложенным в тайно сделанных подкопах порохом, город был взят штурмом, значительная часть населения перебита, а сам город сгорел. В результате событий, обозначенных на схеме, ханство прекратило своё существование, и Среднее Поволжье в значительной своей части было присоединено к России, в итоге возникли предпосылки для освоения русскими переселенцами Поволжья, дальнейшего продвижения на Урал и в Сибирь. Казань была взята 2 октября в день Покрова Богородицы. В честь взятия Казани в Москве на Красной площади был построен Собор Василия Блаженного или Покровский Собор.

Ответ: 346

153. Задание 29 № 5163. Напишите имя полководца, осуществившего поход, обозначенный на схеме стрелками.

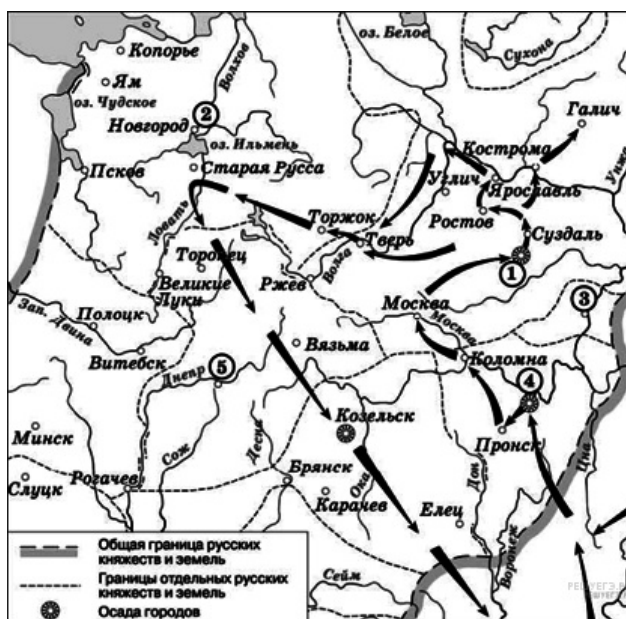


Пояснение.

Это поход татарского хана Батые на Северо-восточную Русь в 1237–1238 гг.

Ответ: Батый

154. Задание 30 № 5164. Напишите название города, обозначенного на схеме цифрой «1».

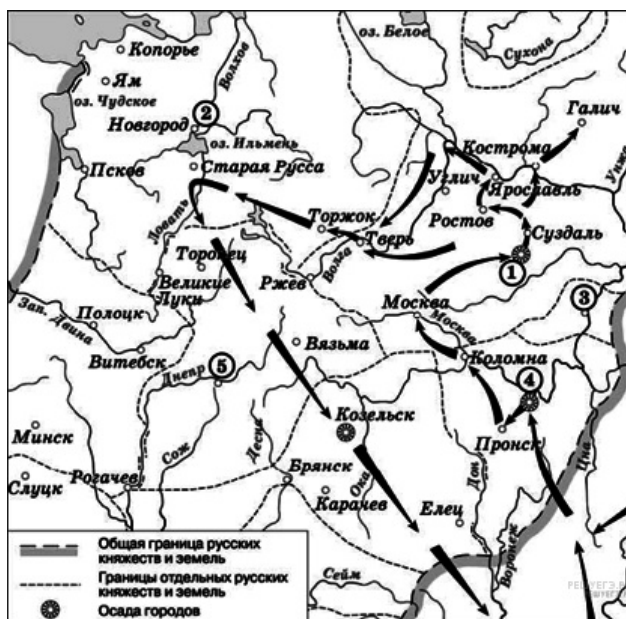


Пояснение.

Под цифрой 1 обозначен Владимир.

Ответ: Владимир

155. Задание 31 № 5165. Укажите название города, обозначенного на схеме цифрой, где в период данного похода существовала республиканская форма правления.



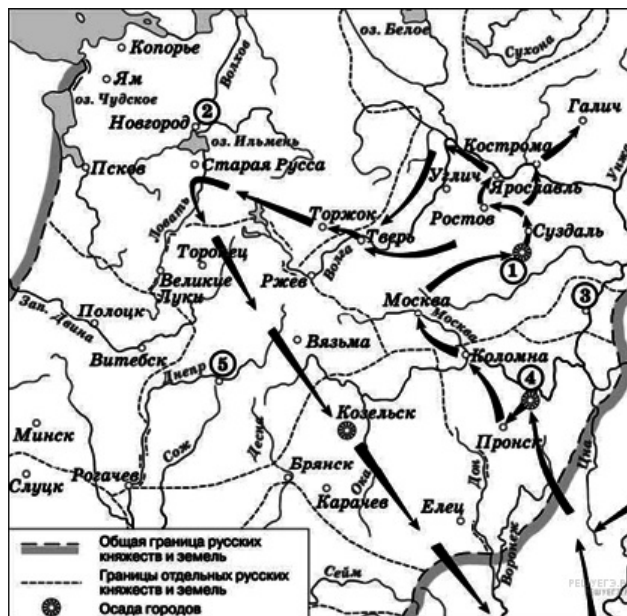
Пояснение.

Под цифрой 2 здесь обозначен Новгород, там в это время существовала боярская республика.

Ответ: Новгород

156. Задание 32 № 5166. Какие суждения, относящиеся к событиям, обозначенным на схеме, являются верными? Выберите три суждения из шести предложенных. Запишите в таблицу цифры, которыми они обозначены.

- 1) Завоеватели вторглись в пределы Руси в зимний период.
- 2) Ни один из городов, захваченных завоевателями, не выдержал осады более одной недели.
- 3) Поход, обозначенный на схеме стрелками, длился около трёх лет.
- 4) Одним из последствий событий, обозначенных на схеме, было начало раздробленности Древнерусского государства.
- 5) В результате событий, обозначенных на схеме, русские земли попали в зависимость.
- 6) Полководец, поход которого обозначен на схеме, является основателем государства.

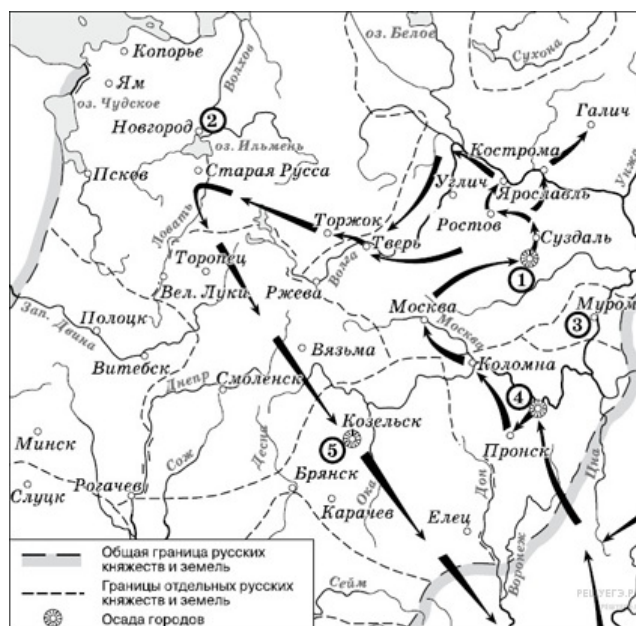


Пояснение.

Это поход Батгя на Северо-Восточную Русь. Соответственно правильными являются ответы: 156. Неверно: 2 Козельск продержался 7 недель; 3 обозначенный поход длился менее года; Древнерусское государство распалось ранее.

Ответ: 156

157. Задание 29 № 1796. Рассмотрите схему и выполните задание



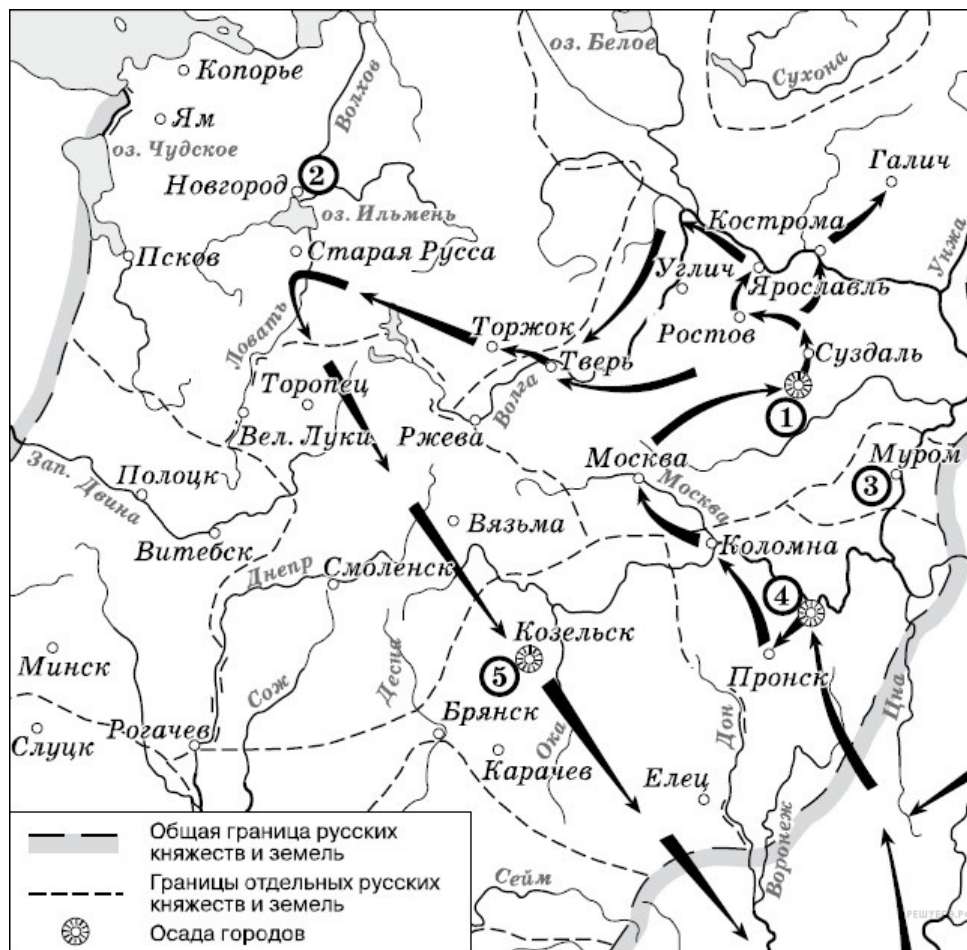
Напишите имя полководца, осуществившего поход, обозначенный на схеме стрелками.

Пояснение.

На карте Руси XIII века показан стрелками поход хана Батгя по завоеванию Северо-Восточной Руси 1237—1238 гг.

Ответ: Батый|ханБатый

158. Задание 30 № 1797. Рассмотрите схему и выполните задание



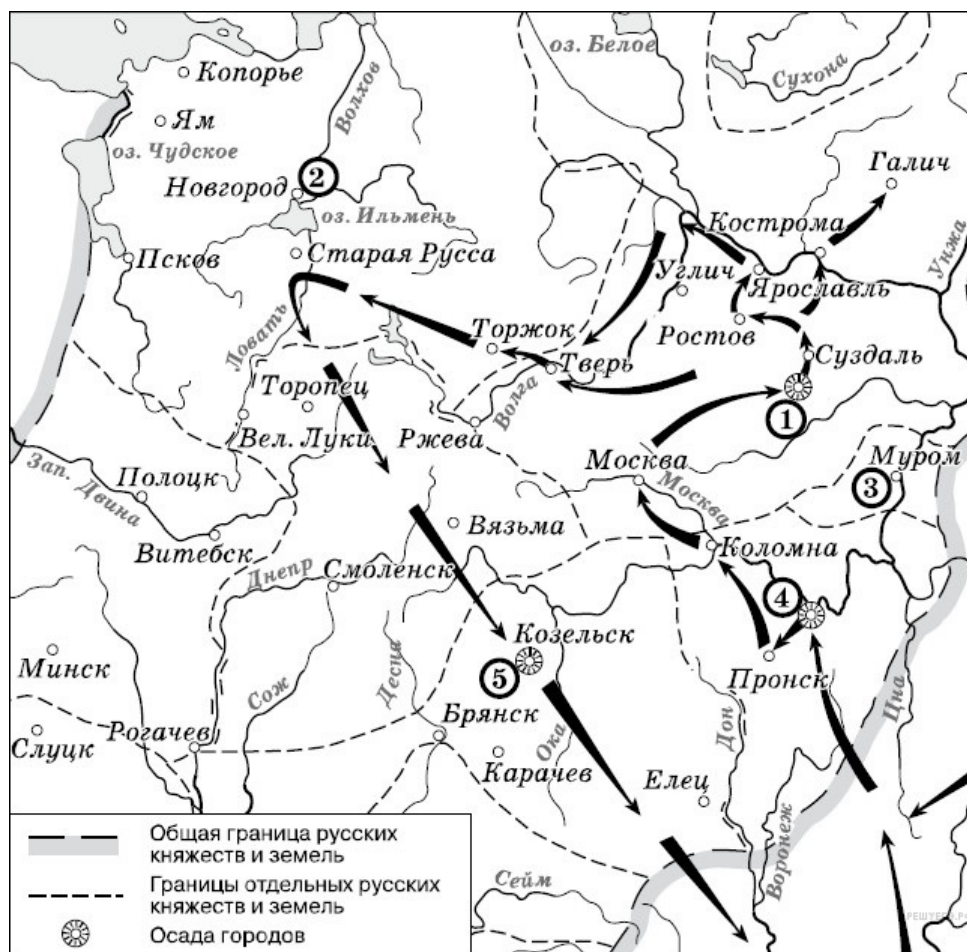
Напишите название города, обозначенного на схеме цифрой «1».

Пояснение.

Цифрой «1» на карте обозначена столица Владимиро-Суздальского княжества г. Владимир.

Ответ: Владимир

159. Задание 31 № 1798. Рассмотрите схему и выполните задание



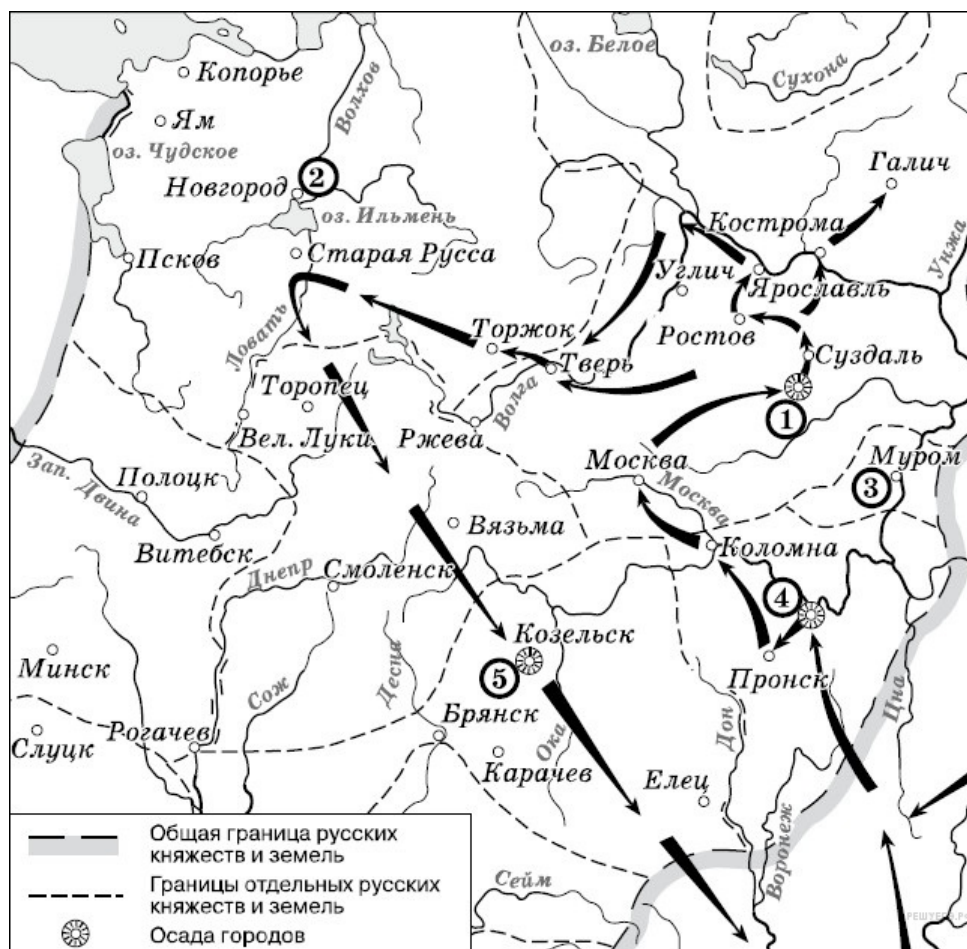
Напишите цифру, которой обозначена столица земли, где в период данного похода существовала республиканская форма правления.

Пояснение.

Под цифрой 2 обозначен город Новгород — столица Новгородской боярской республики. Республиканский строй в Новгороде был установлен в 1136 году и существовал до 1478 года.

Ответ: 2

160. Задание 32 № 1799. Рассмотрите схему и выполните задание



Какие суждения, относящиеся к событиям, обозначенным на схеме, являются верными? Выберите три суждения из шести предложенных.

- 1) завоеватели вторглись в пределы Руси в зимний период
- 2) ни один из городов, захваченных завоевателями, не выдержал осады более одной недели
- 3) поход, обозначенный на схеме стрелками, длился около трёх лет
- 4) одним из последствий событий, обозначенных на схеме, было начало раздробленности Древнерусского государства
- 5) в результате событий, обозначенных на схеме, русские земли попали в зависимость
- 6) полководец, поход которого обозначен на схеме, является основателем государства

Пояснение.

Поход Батые на Русь начался в декабре 1237 г. вторжением в Рязанскую землю. В результате похода Батые Русь попала в зависимость от Золотой Орды: вынуждена была платить дань, а князья править по ярлыку. На завоеванных территориях — в степях и низовьях Волги — в 40-е гг. XIII в. было создано государство Золотая Орда.

Ответ: 156

161. Задание 29 № 3322. Рассмотрите схему и выполните задания



Напишите термин, обозначающий название периода отечественной истории, события которого изображены на карте.

Пояснение.

Дробление русского государства на отдельные княжества, произошедшее в XII в. называется периодом феодальной раздробленности на Руси.

Ответ: раздробленность|феодальная раздробленность

162. Задание 30 № 3323. Рассмотрите схему и выполните задания



Напишите название племён, совершивших походы, обозначенные на карте.

Пояснение.

На карте показано завершение похода монголо-татар в 1223 г.

Ответ: монголо-татары

163. Задание 31 № 3324. Рассмотрите схему и выполните задания



Напишите цифру, обозначающую княжество, в котором была сильная княжеская власть.

Пояснение.

Наиболее сильной княжеская власть была во Владимир-суздальском княжестве.

Ответ: 2

164. Задание 32 № 3325. Рассмотрите схему и выполните задания



Какие суждения, относящиеся к событиям, обозначенным на схеме, являются верными? Выберите три суждения из шести предложенных. Запишите в таблицу цифры, под которыми они указаны.

- 1) Изображённые события относятся к XIII в.
- 2) Сражение с участием отрядов русских князей произошло на реке Калка.
- 3) Русскими войсками командовал князь Александр Невский.
- 4) Угроза нападения с юго-востока явилась предпосылкой объединения русских княжеств.
- 5) Для отражения нападения русские земли заключили союз с Литвой.
- 6) Сражение было проиграно русскими войсками, потому что русские князья действовали разрозненно.

Пояснение.

Битва на реке Калке — сражение между объединённым русско-половецким войском и монгольским корпусом, действовавшим в рамках похода Джэбэ и Субэдэя 1221—1224 годов. Половцы и основные русские силы были разбиты 31 мая 1223 года.

Ответ: 126

165. Задание 29 № 2156. Рассмотрите схему и выполните задание



Напишите название битвы, представленной на схеме.

Пояснение.

Битва происходила на Куликовом поле, впоследствии получившая название — Куликовская.

Ответ: Куликовская|Куликовская битва

166. Задание 30 № 2157. Рассмотрите схему и выполните задание



Напишите название реки, обозначенной на схеме цифрой «1»?

Пояснение.

Река Дон.

Ответ: Дон

167. Задание 31 № 2158. Рассмотрите схему и выполните задание



Назовите имя князя командовавшего действиями Засадного полка во время битвы. В ответе укажите только имя.

Пояснение.

Засадным полком командовали Владимир Андреевич Серпуховской (Храбрый) и воевода Дмитрий Боброк-Волынский.

Ответ: Владимир

168. Задание 32 № 2159. Рассмотрите схему и выполните задание



Какие суждения, относящиеся к событию, обозначенному на схеме, являются верными. Выберите три суждения из шести предложенных. Запишите в таблицу цифры, под которыми они указаны.

- 1) в составе русских войск, участвовавших в битве, не было дружин из Рязанского княжества
- 2) на стороне ордынцев в битве участвовали литовские полки под командованием князя Ягайло
- 3) битва была крупнейшим сражением русских и ордынских сил начала XV в.
- 4) вскоре после победы в битве русские земли освободились от ордынской зависимости
- 5) результаты битвы имели большое значение для укрепления авторитета Москвы как политического центра объединения русских земель
- 6) Московский князь Дмитрий Иванович сражался в пешем строю в доспехах простого воина

Пояснение.

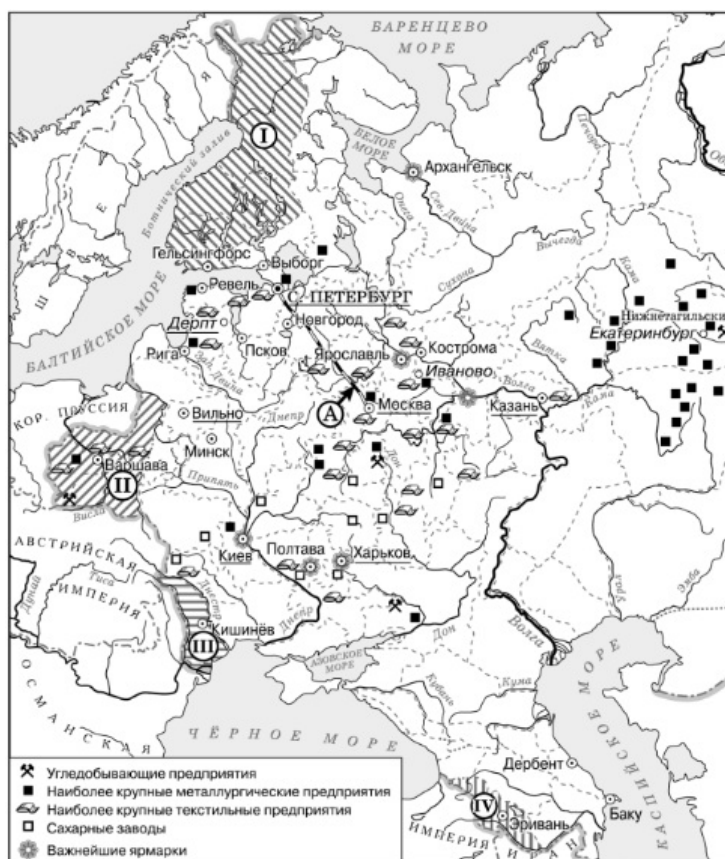
1) в составе русских войск, участвовавших в битве, не было дружин из Рязанского княжества

5) результаты битвы имели большое значение для укрепления авторитета Москвы как политического центра объединения русских земель

6) Московский князь Дмитрий Иванович сражался в пешем строю в доспехах простого воина

Ответ: 156

169. Задание 29 № 3493. Рассмотрите схему и выполните задания



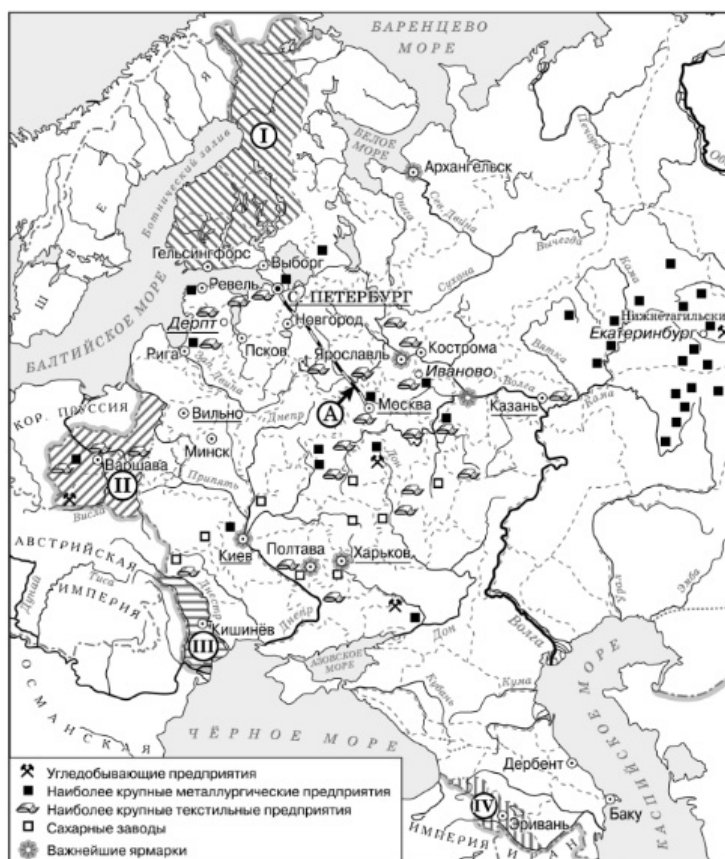
Напишите название географического района, в котором согласно карте отмечается наибольшая концентрация металлургических предприятий.

Пояснение.

Наибольшая концентрация металлургических предприятий отмечается на Урале.

Ответ: Урал

170. Задание 30 № 3494. Рассмотрите схему и выполните задания



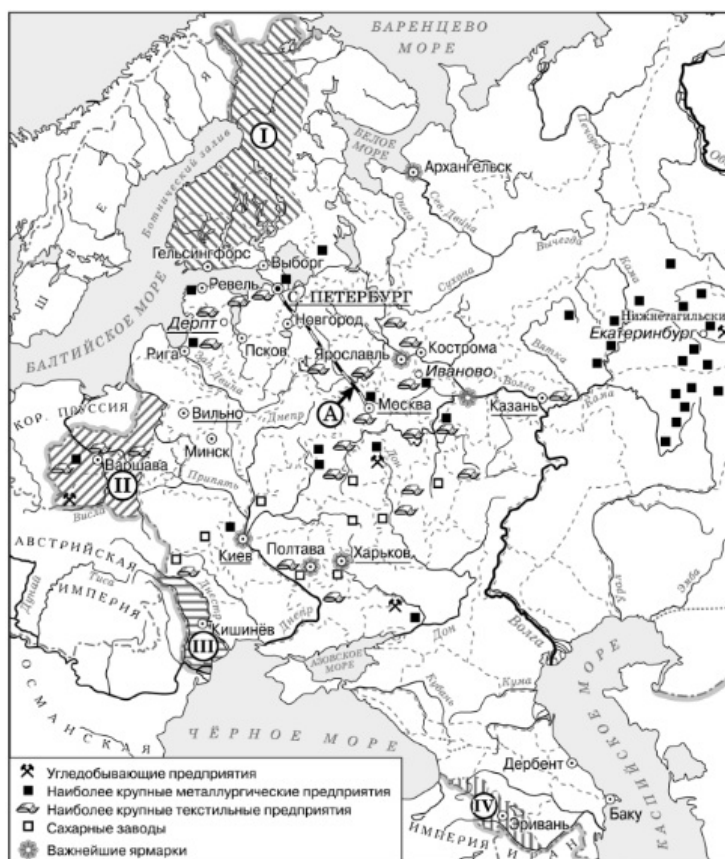
Назовите императора, в годы правления которого в состав Российской империи вошли территории, обозначенные цифрами «I», «II» и «III».

Пояснение.

Территории Финляндии. Польши и Бессарабии, обозначенный на карте данными цифрами вошли в состав России в царствование Александра I.

Ответ: Александр I|АлександрПервый

171. Задание 31 № 3495. Рассмотрите схему и выполните задания



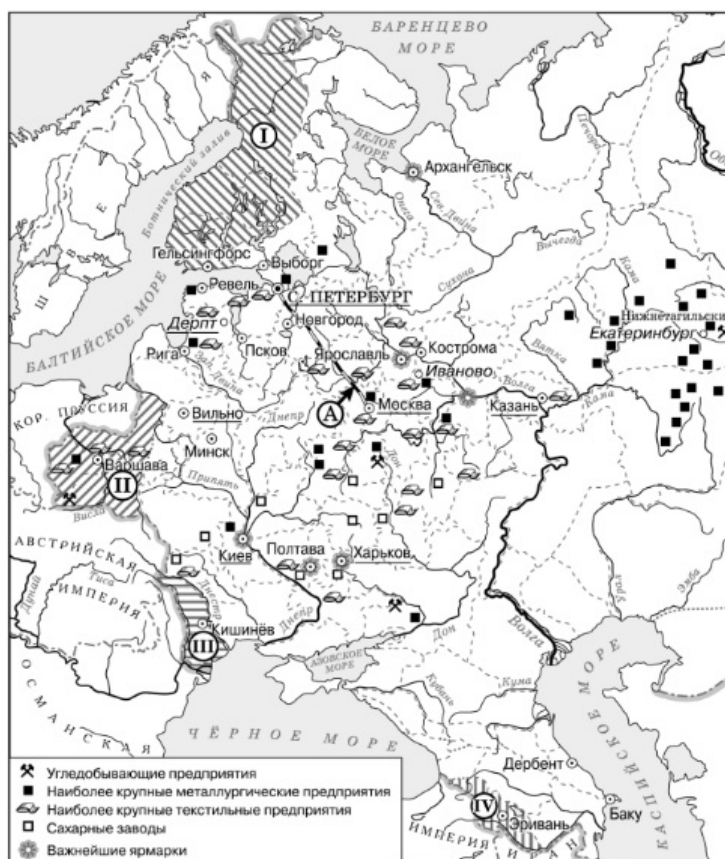
Напишите название европейского конгресса, по итогам которого в состав Российского государства вошла территория, обозначенная цифрой «II».

Пояснение.

Территория Польши вошла в состав России по решению Венского мирного конгресса.

Ответ: Венский

172. Задание 32 № 3496. Рассмотрите схему и выполните задания



Какие суждения, относящиеся к данной схеме, являются верными? Выберите три суждения из шести предложенных. Запишите в таблицу цифры, под которыми они указаны.

- 1) Большинство текстильных предприятий в изображаемый на схеме период находились на юге страны.
- 2) Территория, обозначенная на карте цифрой «I», вошла в состав Российской империи при сохранении ею автономии.
- 3) Объект, обозначенный буквой «А», был построен в годы правления Николая I.
- 4) На схеме подчёркнуты названия городов, в которых в изображаемый на схеме период действовали университеты.
- 5) Промышленное освоение района, где согласно схеме находится большинство металлургических предприятий, началось только во второй половине XVIII в.
- 6) Территория, обозначенная на схеме цифрой «I», была присоединена к России мирным путём.

Пояснение.

Это карта первой половины XIX в.

Большинство текстильных предприятий в изображаемый на схеме период находились не на юге страны, а в центре.

Территория Финляндии, обозначенная на карте цифрой «I», вошла в состав Российской империи при сохранении ею автономии.

Объект, железная дорога Москва — Санкт-Петербург, обозначенный буквой «А», был построен в годы правления Николая I.

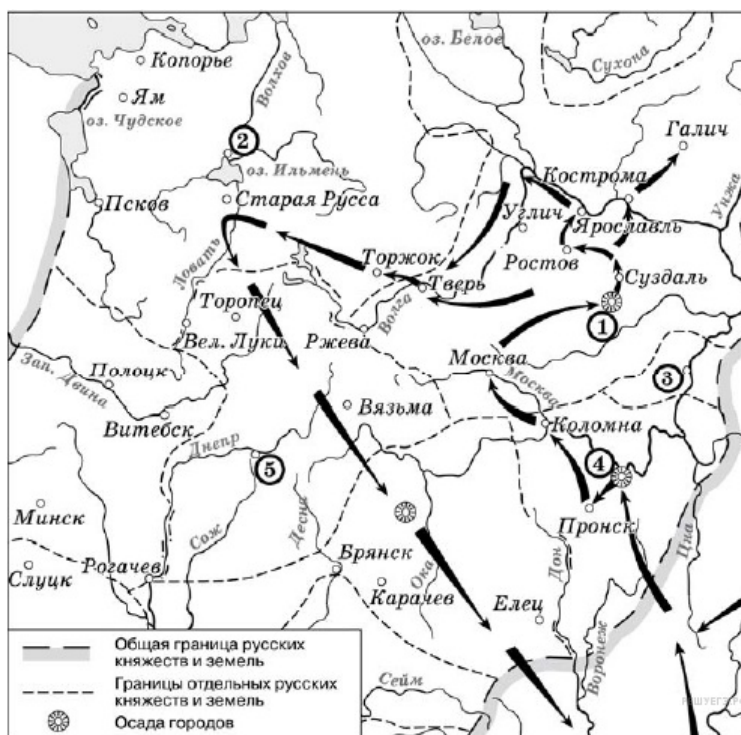
На схеме подчёркнуты названия городов, в которых в изображаемый на схеме период действовали университеты.

Промышленное освоение района, Урала, где согласно схеме находится большинство металлургических предприятий, началось только не во второй половине XVIII в., а в первой половине XIX в.

Территория Финляндии, обозначенная на схеме цифрой «I», была присоединена к России мирным путём, а в результате победы России в русско-шведской войне.

Ответ: 234

173. Задание 29 № 4373. Рассмотрите схему и выполните задание



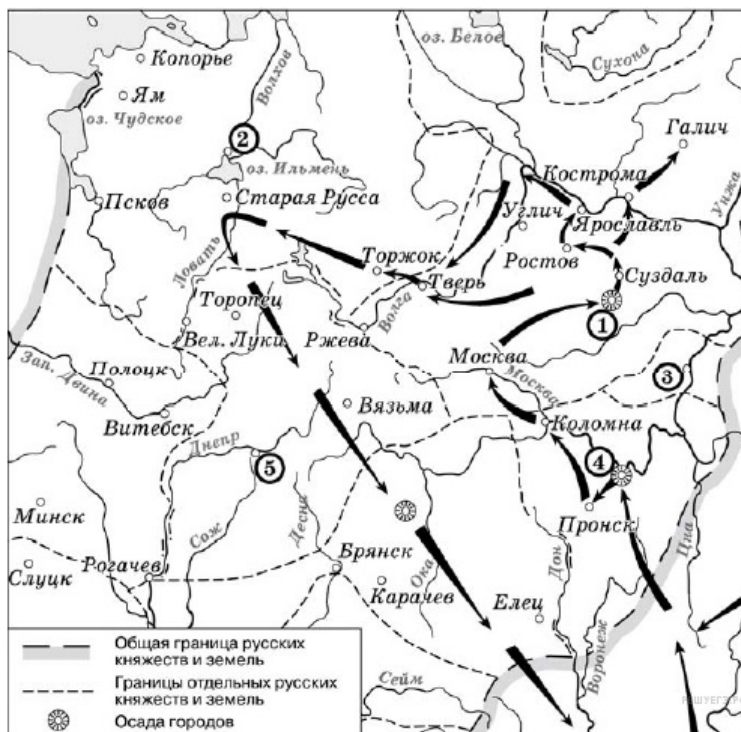
Напишите имя полководца, осуществившего поход, обозначенный на схеме стрелками.

Пояснение.

Это поход Батые в русские земли в 1237–1238 гг. Взял Рязань, Владимир, Торжок, Москву и не дойдя до Новгорода менее 100 верст развернулся на юг и ушел в степи.

Ответ: Батый

174. Задание 30 № 4374. Рассмотрите схему и выполните задание



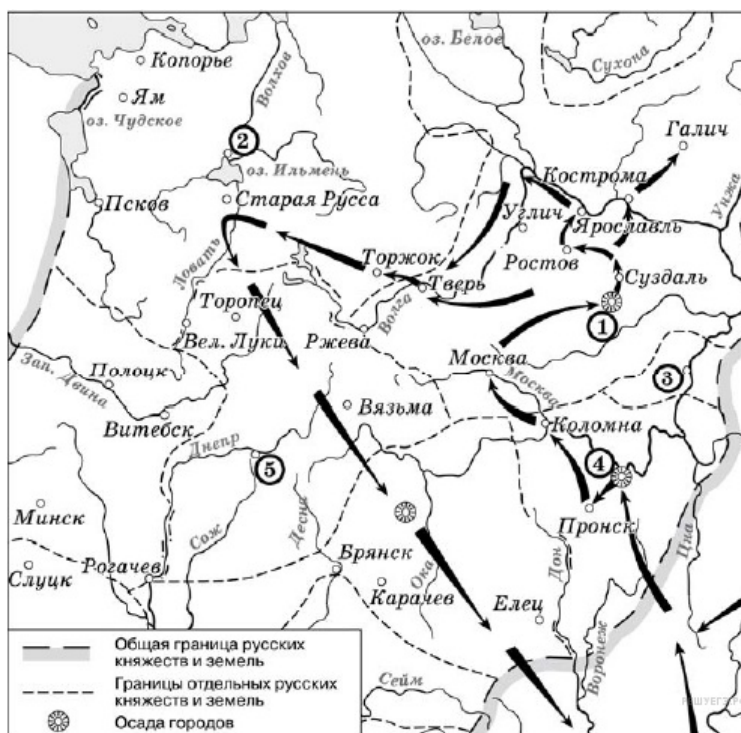
Напишите название города, обозначенного на схеме цифрой «1».

Пояснение.

Это Владимир, расположен рядом с Суздалю.

Ответ: Владимир

175. Задание 31 № 4375. Рассмотрите схему и выполните задание



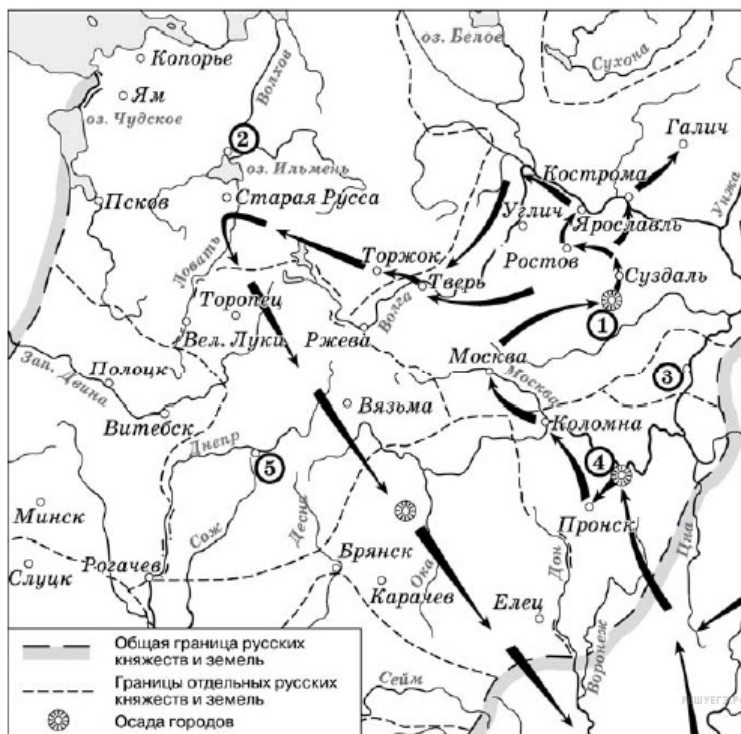
Укажите название города, обозначенного на карте цифрой, где в период данного похода существовала республиканская форма правления.

Пояснение.

Республиканская форма правления существовала в Новгороде и Пскове. Цифрой «2» обозначен Новгород (озеро Ильмень, река Волхов).

Ответ: Новгород

176. Задание 32 № 4376. Рассмотрите схему и выполните задание



Какие суждения, относящиеся к событиям, обозначенным на схеме, являются верными? Выберите три суждения из шести предложенных. Запишите в ответ цифры, под которыми они указаны.

- 1) Завоеватели вторглись в пределы Руси в зимний период.
- 2) Ни один из городов, захваченных завоевателями, не выдержал осады более одной недели.

- 3) Поход, обозначенный на схеме стрелками, длился около трёх лет.
- 4) Одним из последствий событий, обозначенных на схеме, было начало раздробленности Древнерусского государства.
- 5) В результате событий, обозначенных на схеме, русские земли попали в зависимость.
- 6) Полководец, поход которого обозначен на схеме, является основателем государства.

Пояснение.

Вторжение войск Батыя было зимой 1237 г.

Козельск выдержал 7 недель осады.

Поход Батыя в Северо-Восточную Русь длился менее года.

Раздробленность наступила раньше в XII в.

Русь попала в зависимость от Орды, государства татар основанное Батыем на захваченных землях в низовье Волги.

Ответ: 156

177. Задание 29 № 2331. Рассмотрите схему и выполните задание



Напишите название войны, события которой отражены на карте.

Пояснение.

На карте изображены события Ливонской войны 1558–1583 гг. На это указывают даты на карте. Военные действия шли в Прибалтике, где был разгромлен Ливонский орден в 1560 г. Показана оборона Пскова, захват Полоцка русскими войсками.

Ответ: Ливонская война|Ливонская

178. Задание 30 № 2332. Напишите название города, в который был совершён карательный поход правительственных войск, сопровождавшийся массовыми убийствами.



Пояснение.

В период опричнины карательный поход правительственных войск, сопровождавшийся массовыми убийствами был совершён на Новгород.

Ответ: Новгород

179. Задание 31 № 2333. Напишите цифру, которая обозначает «неофициальную столицу» государства после отъезда царя из Москвы.



Пояснение.

«Неофициальная столица» государства в период опричнины была Александрова слобода.

Ответ: 1

180. Задание 32 № 2334. Рассмотрите схему и выполните задание



Какие суждения, относящиеся к событиям, обозначенным на схеме, являются верными? Выберите три суждения из шести предложенных. Запишите в таблицу цифры, под которыми они указаны.

- 1) Россия победила в этой войне.
- 2) Во время войны правительство сняло ограничения на право перехода крестьян к другому хозяину.
- 3) Противником России в войне была Швеция.
- 4) Во время войны образовалось новое государство Речь Посполитая.
- 5) В ходе войны произошло ужесточение внутренней политики.
- 6) Война проходила в завершающий период образования единого Русского государства.

Пояснение.

На схеме изображена Ливонская война 1558–1583 гг., в которой противниками России были Швеция, Польша. В 1569 г. образовалось новое государство Речь Посполитая. В ходе войны была введена опричнина (1565–1572 гг.) — политика насилия и репрессий.

Ответ: 345

181. Задание 29 № 3853. Рассмотрите схему и выполните задание



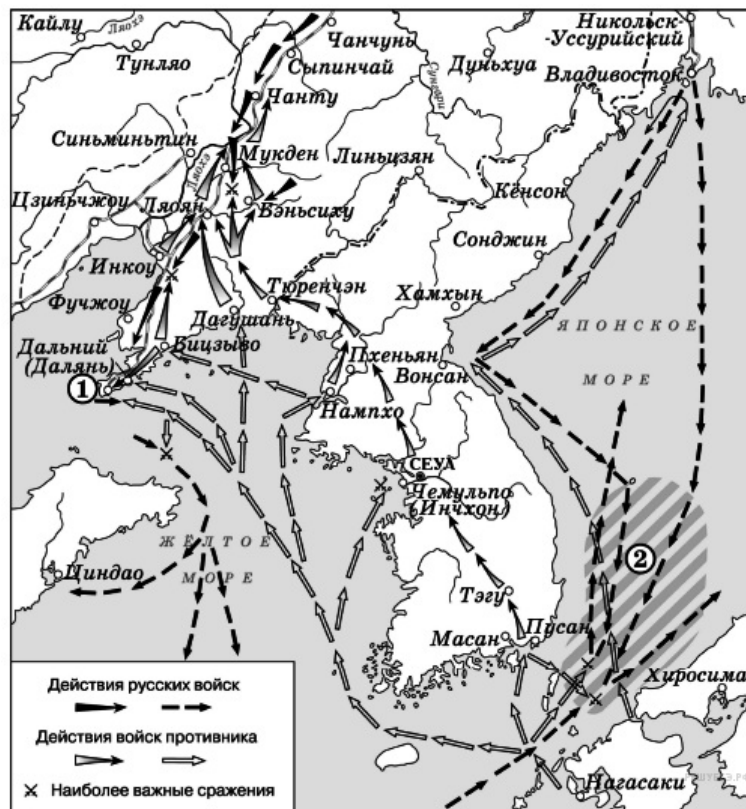
Назовите имя российского императора, в годы правления которого произошли события, обозначенные на схеме.

Пояснение.

На схеме обозначены события русско-японской войны 1904–1905 гг. Правильный ответ: Николай II

Ответ: Николай|НиколайII|НиколайВторой|Николай2

182. Задание 30 № 3854. Рассмотрите схему и выполните задание



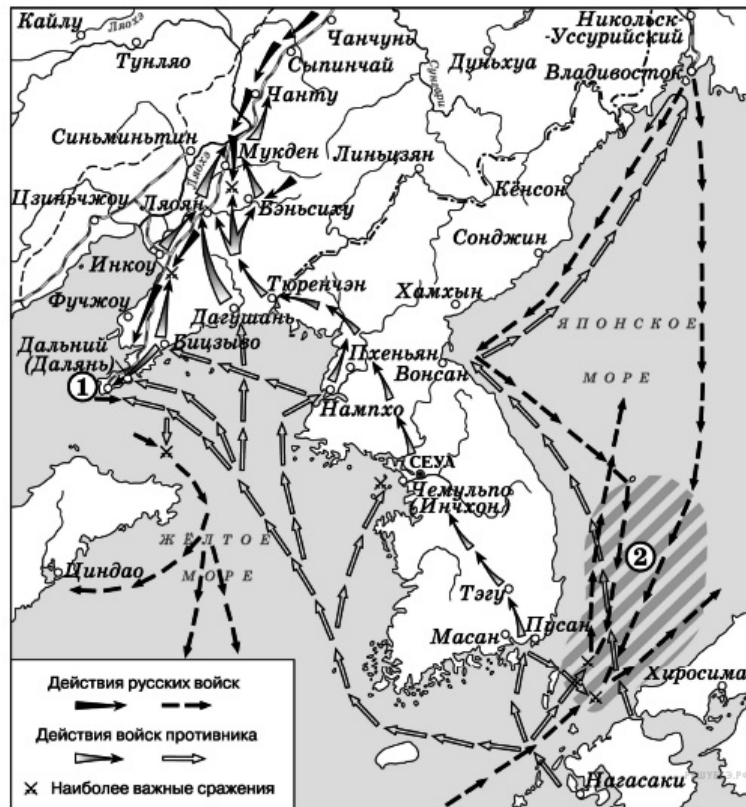
Укажите название города, обозначенного на схеме цифрой «1».

Пояснение.

Цифрой 1 обозначен Порт-Артур.

Ответ: Порт-Артур

183. Задание 31 № 3855. Рассмотрите схему и выполните задание



Укажите название сражения, район которого заштрихован и обозначен на схеме цифрой «2».

Пояснение.

Это морское сражение у Цусимы. Правильный ответ: Цусимское.

Ответ: Цусимское

184. Задание 32 № 3856. Рассмотрите схему и выполните задание



Какие суждения, относящиеся к событиям, обозначенным на схеме, являются верными? Выберите три суждения из шести предложенных. Запишите в таблицу цифры, под которыми они указаны.

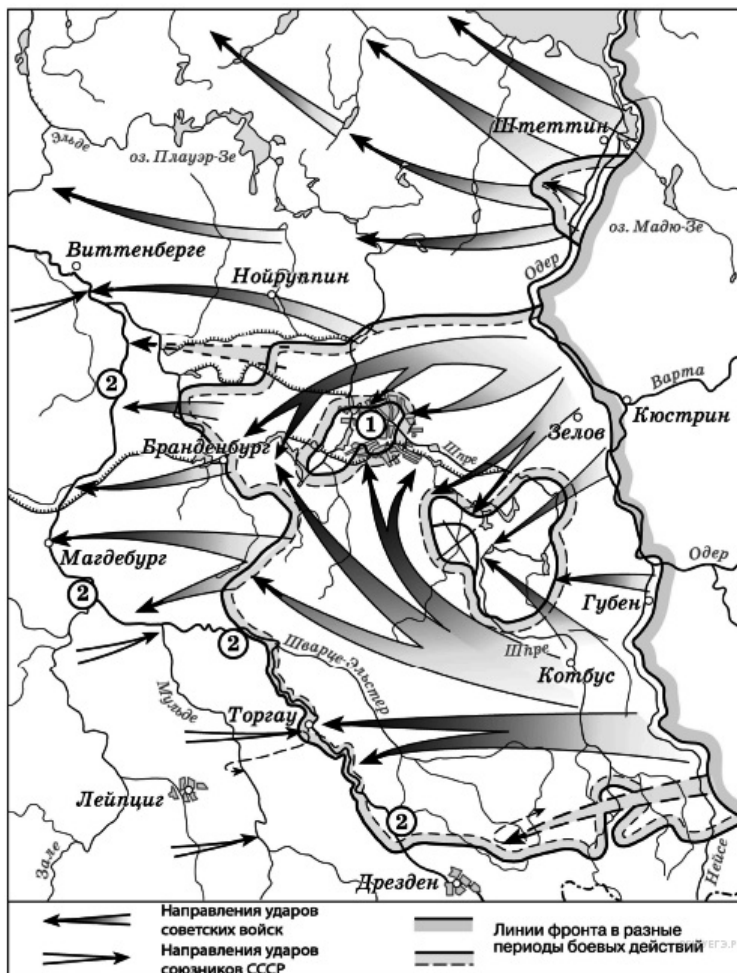
- 1) Одним из участников событий, изображённых на схеме, был адмирал С. О. Макаров.
- 2) В событиях, обозначенных на схеме, участвовали корабли Балтийского флота России.
- 3) Мирный договор по итогам войны, события которой обозначены на схеме, был подписан в Ништадте.
- 4) Боеприпасы и пополнение для русской армии в ходе войны, события которой обозначены на схеме, поставлялись по железной дороге.
- 5) В результате войны, события которой обозначены на схеме, Россия получила новые территории.
- 6) В ходе войны, события которой обозначены на схеме, союзницей России была Англия.

Пояснение.

- 1) Одним из участников событий, изображённых на схеме, был адмирал С. О. Макаров. (ДА, верно. Он командовал I Тихоокеанской эскадрой)
- 2) В событиях, обозначенных на схеме, участвовали корабли Балтийского флота России. (ДА, верно. Корабли Балтийского флота были отправлены царем на Дальний Восток)
- 3) Мирный договор по итогам войны, события которой обозначены на схеме, был подписан в Ништадте. (НЕТ, мирный договор подписали в Портсмуте)
- 4) Боеприпасы и пополнение для русской армии в ходе войны, события которой обозначены на схеме, поставлялись по железной дороге. (ДА, частично, но часть ее еще не достроили)
- 5) В результате войны, события которой обозначены на схеме, Россия получила новые территории. (НЕТ, Россия наоборот потеряла территории, так как войну проиграла)
- 6) В ходе войны, события которой обозначены на схеме, союзницей России была Англия. (НЕТ, у России не было союзников в этой войне)

Ответ: 124

185. Задание 29 № 4213. Рассмотрите схему событий одного из периодов Великой Отечественной войны и выполните задание.



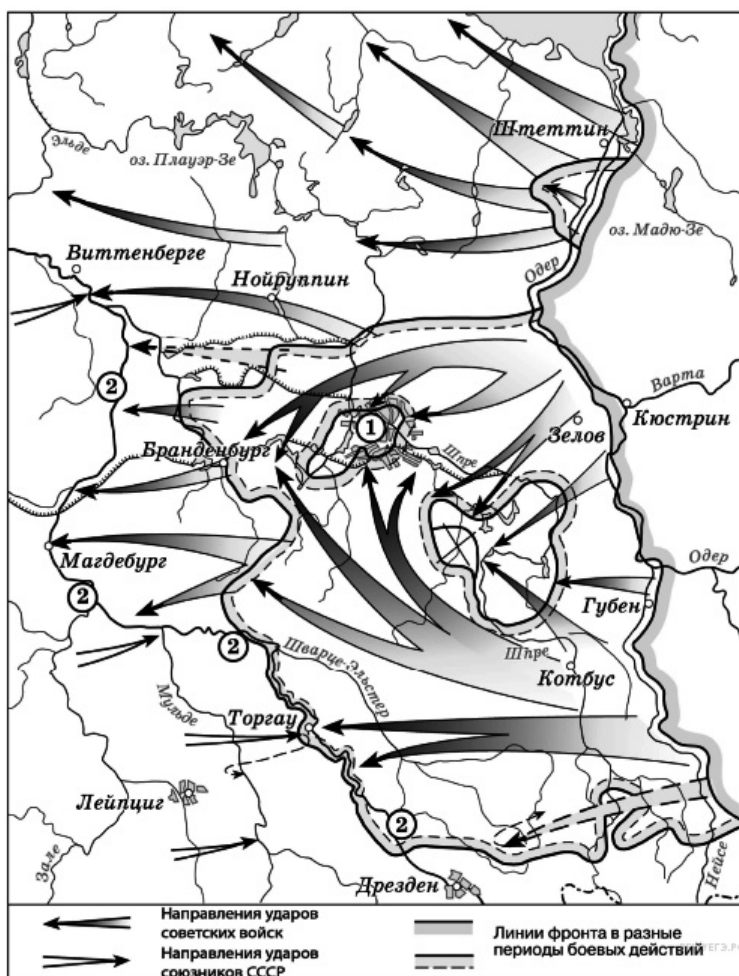
Назовите месяц 1945 г., когда начались боевые действия, обозначенные на карте стрелками.

Пояснение.

На карте показана завершающая операция Великой Отечественной — Берлинская. 15 апреля - 2 мая 1945г

Ответ: апрель

186. Задание 30 № 4214. Рассмотрите схему событий одного из периодов Великой Отечественной войны и выполните задание.



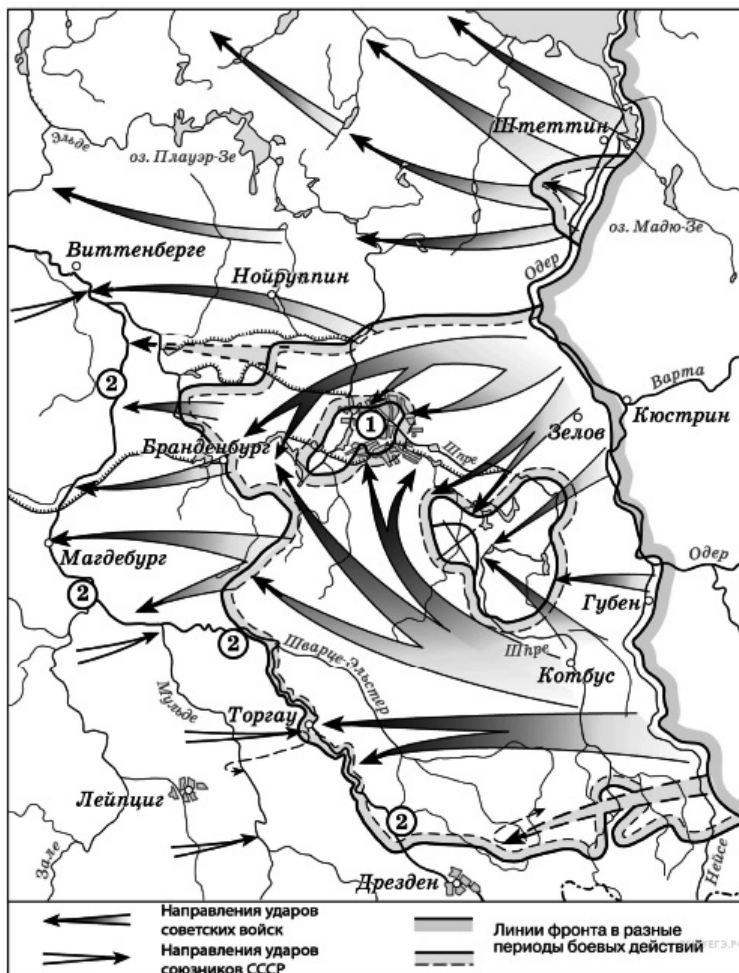
Укажите название города, обозначенного на схеме цифрой «1».

Пояснение.

На карте показана завершающая операция Великой Отечественной — Берлинская.

Ответ: Берлин

187. Задание 31 № 4215. Рассмотрите схему событий одного из периодов Великой Отечественной войны и выполните задание.



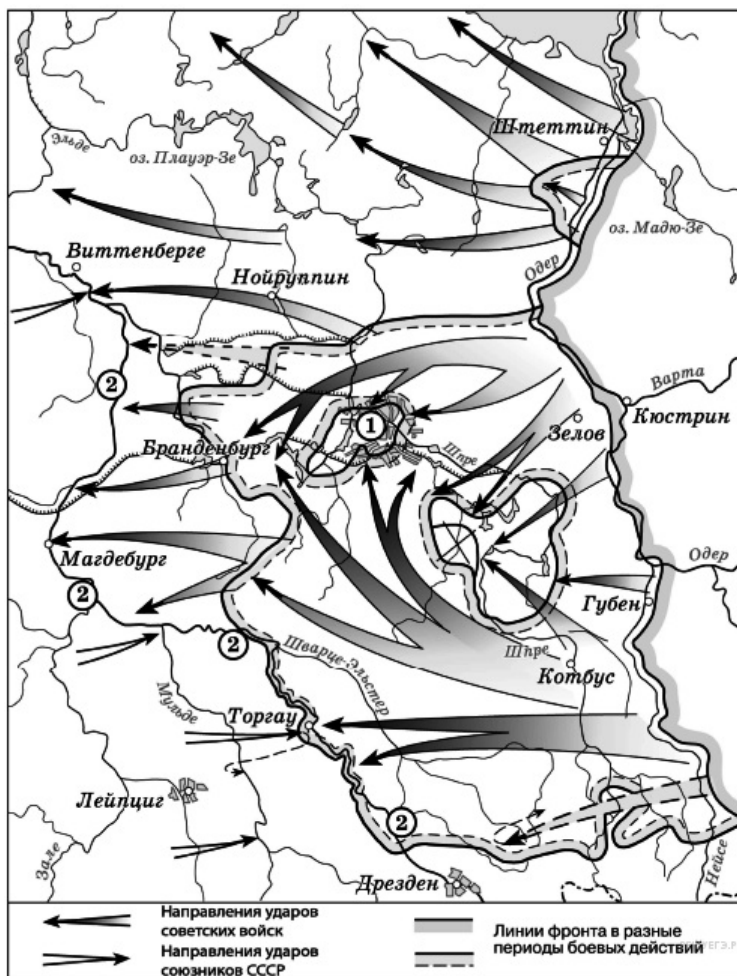
Укажите название реки, обозначенной на схеме цифрами «2».

Пояснение.

На карте показана завершающая операция Великой Отечественной — Берлинская. Река Эльба

Ответ: Эльба

188. Задание 32 № 4216. Рассмотрите схему событий одного из периодов Великой Отечественной войны и выполните задание.



Какие суждения, относящиеся к событиям, обозначенным на схеме, являются верными? Выберите три суждения из шести предложенных. Запишите в таблицу цифры, под которыми они указаны.

- 1) На схеме обозначены действия Красной армии в ходе проведения операции «Багратион».
- 2) События, обозначенные на схеме, происходили позже встречи руководителей держав «Большой тройки» в Крыму.
- 3) События, обозначенные на схеме, являются частью коренного перелома в ходе Великой Отечественной войны.
- 4) События, обозначенные на данной схеме стрелками, длились около полугода.
- 5) С окончанием военных действий, обозначенных на схеме, Вторая мировая война ещё не была закончена.
- 6) Одним из фронтов Красной армии, участвовавших в событиях, обозначенных на схеме, командовал Г. К. Жуков.

Пояснение.

1) На схеме обозначены действия Красной армии в ходе проведения операции «Багратион». (НЕТ, неверно, операция Багратион была в 1944 г).

2) События, обозначенные на схеме, происходили позже встречи руководителей держав «Большой тройки» в Крыму. (ДА, верно)

3) События, обозначенные на схеме, являются частью коренного перелома в ходе Великой Отечественной войны. (НЕТ, неверно. Это завершение войны, коренной перелом завершился в 1943 г.)

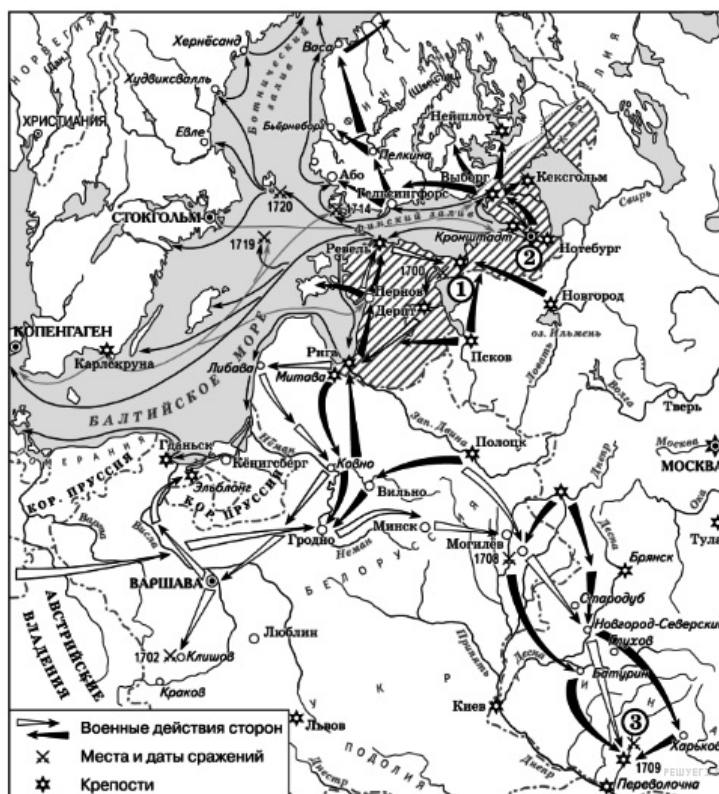
4) События, обозначенные на данной схеме стрелками, длились около полугода. (НЕТ, неверно Берлинская операция длилась менее месяца)

5) С окончанием военных действий, обозначенных на схеме, Вторая мировая война ещё не была закончена. (ДА, верно, надо было еще разгромить Японию.)

6) Одним из фронтов Красной армии, участвовавших в событиях, обозначенных на схеме, командовал Г. К. Жуков. (Да, верно Жуков командовал 1-м Белорусским фронтом).

Ответ: 256

189. Задание 29 № 3613. Рассмотрите схему и выполните задания



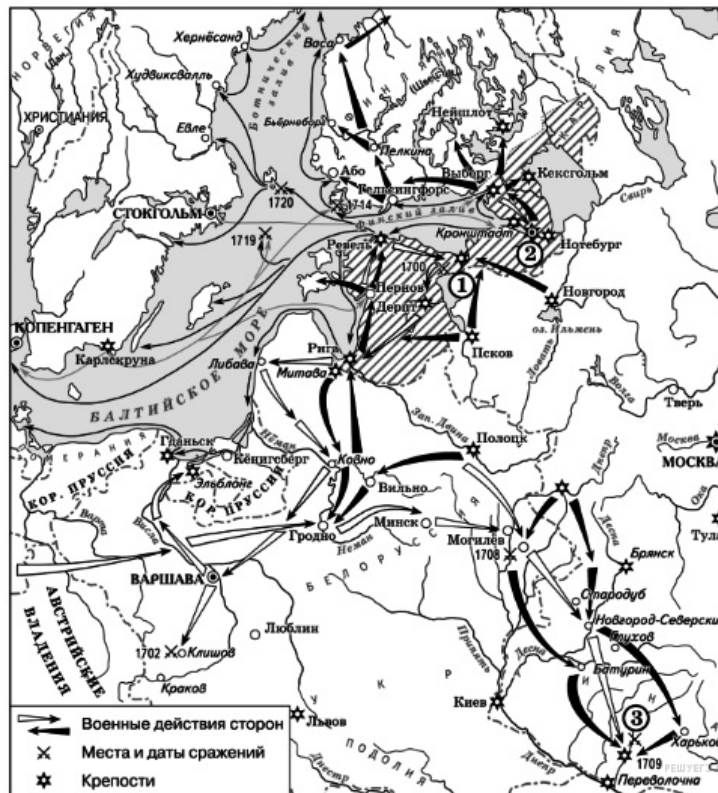
Напишите название войны, события которой обозначены на данной схеме.

Пояснение.

Это Северная война 1700–1721 гг.

Ответ: северная война|северная

190. Задание 30 № 3614. Рассмотрите схему и выполните задания



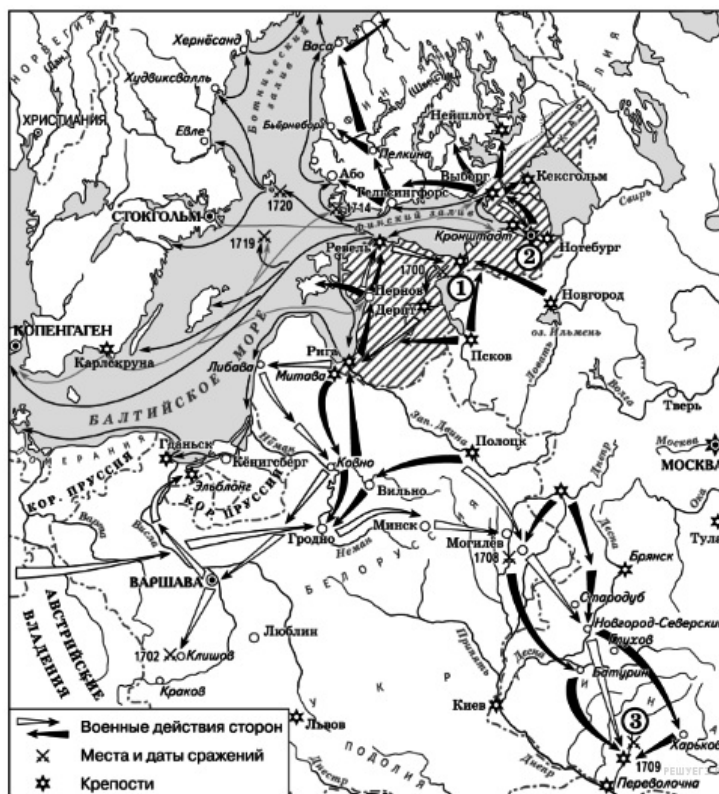
Напишите имя российского монарха, в годы правления которого шла война, события которой обозначены на данной схеме.

Пояснение.

Северная война (1700–1721 гг.) была при Петре I.

Ответ: петр|петрпервый

191. Задание 31 № 3615. Рассмотрите схему и выполните задания



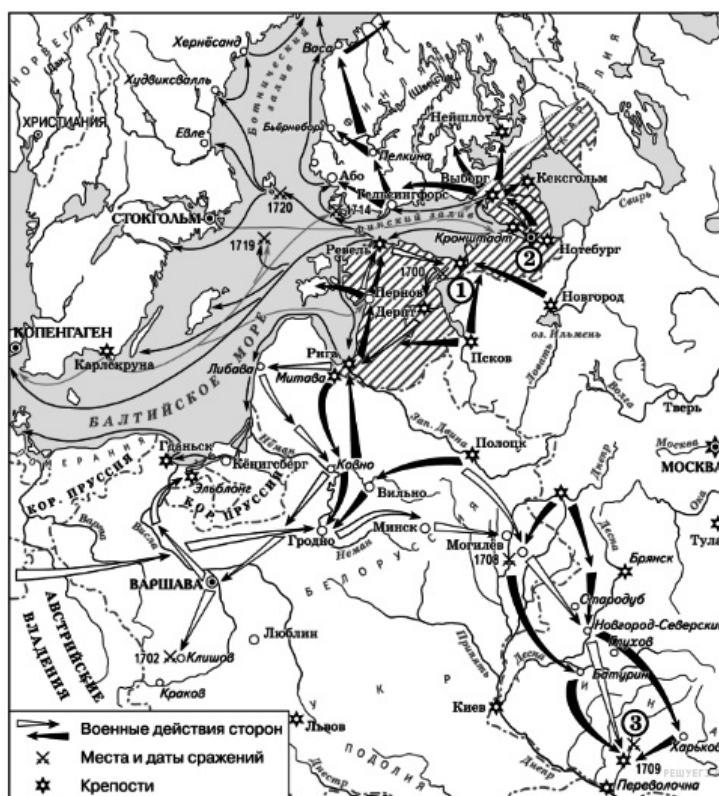
Напишите название города, у стен которого произошло сражение, обозначенное на схеме цифрой «1».

Пояснение.

Цифрой «1» обозначена Нарва.

Ответ: Нарва

192. Задание 32 № 3616. Рассмотрите схему и выполните задания



Какие суждения, относящиеся к событиям, обозначенным на схеме, являются верными? Выберите три суждения из шести предложенных. Запишите в таблицу цифры, под которыми они указаны.

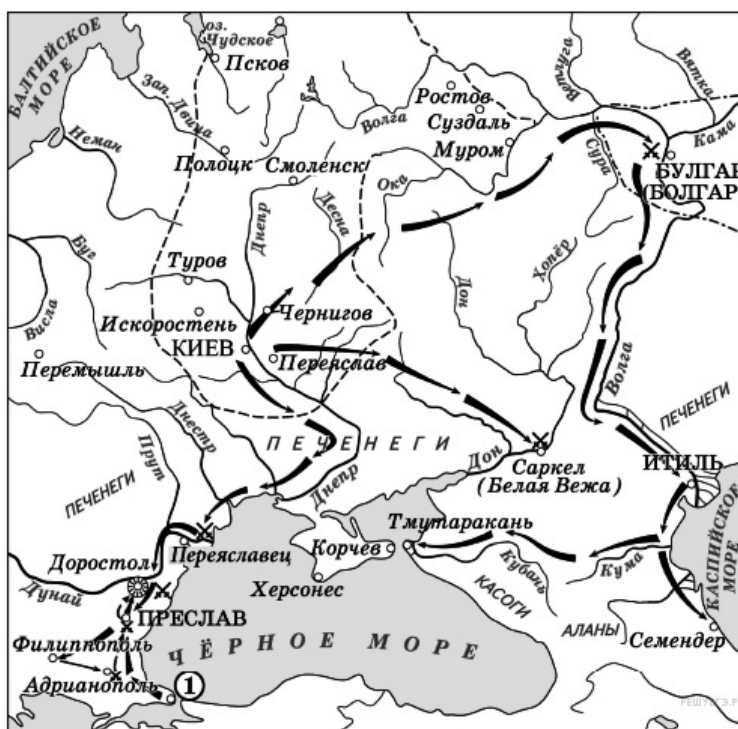
- 1) В ходе войны, события которой обозначены на данной схеме, проводились рекрутские наборы.
- 2) Мирный договор, завершивший войну, события которой изображены на данной схеме, был подписан в городе, обозначенном цифрой «2».
- 3) Одну из решающих побед в данной войне русская армия одержала в сражении, обозначенном цифрой «3».
- 4) Следствием войны, события которой изображены на данной схеме, стала утрата Россией статуса морской державы.
- 5) После завершения войны, события которой обозначены на данной схеме, Россия стала империей.
- 6) В результате этой войны Россия утратила заштрихованные на схеме территории.

Пояснение.

В ходе Северной войны Россия начала формировать армию при помощи рекрутских наборов. Одно из решающих сражений этой войны состоялось в 1709 г. под Полтавой. По окончании войны Россия была провозглашена империей.

Ответ: 135

193. Задание 29 № 4173. Рассмотрите схему и выполните задание.



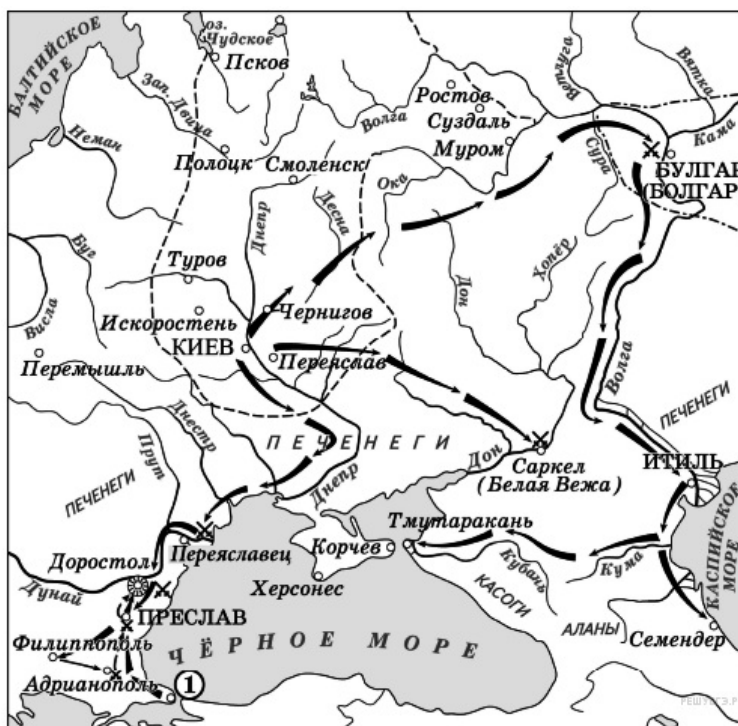
В каком веке происходили события, обозначенные на схеме? Ответ запишите словом.

Пояснение.

Показаны походы князя Святослава против Волжской Булгарии и Хазарского каганата.

Ответ: десятом|10|X

194. Задание 30 № 4174. Рассмотрите схему и выполните задание.



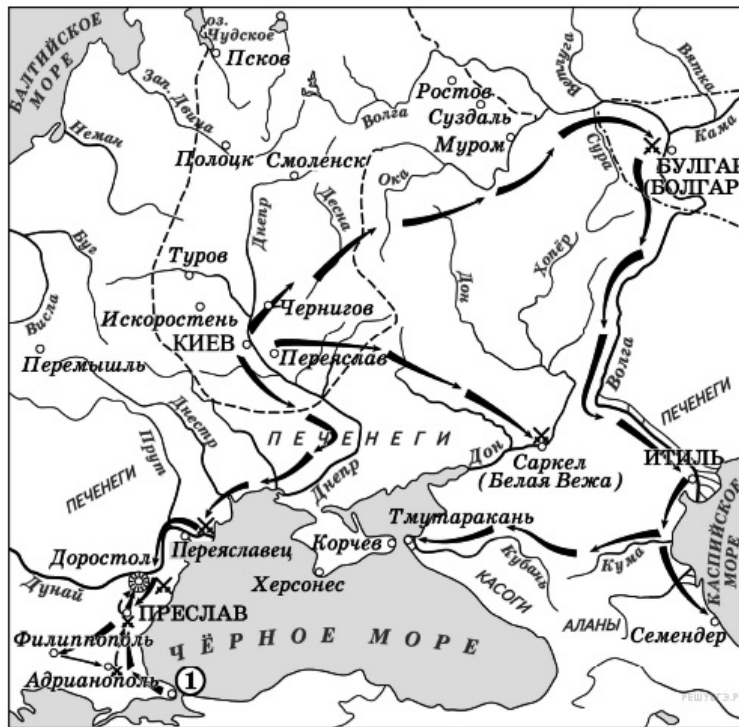
Назовите князя, совершившего походы, обозначенные на схеме стрелками.

Пояснение.

Показаны походы князя Святослава против Волжской Булгарии, Хазарского каганата, Византийской империи и Болгарии.

Ответ: Святослав|Святослав Игоревич

195. Задание 31 № 4175. Рассмотрите схему и выполните задание.



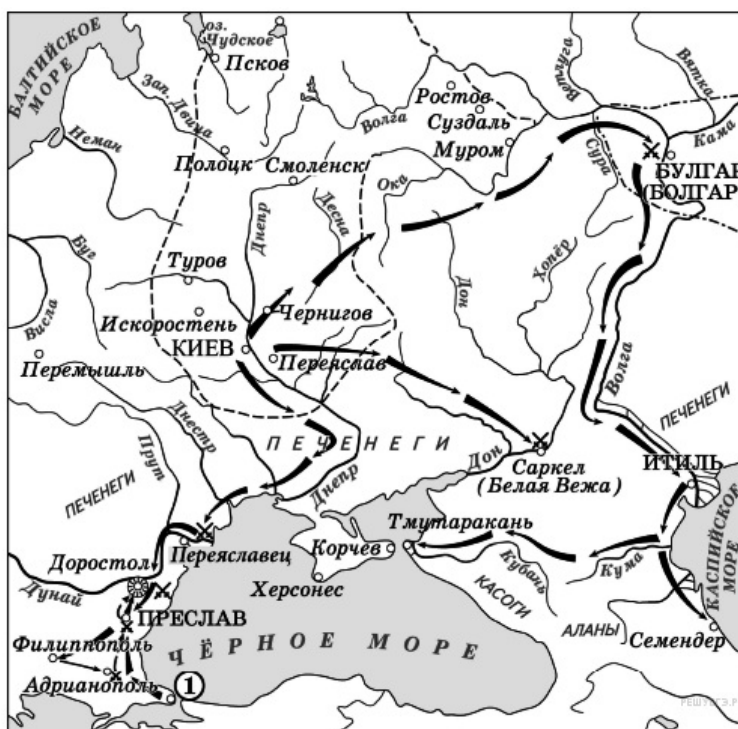
Укажите название столицы государства, обозначенной на схеме цифрой «1».

Пояснение.

Цифрой «1» обозначен Константинополь или Царьград, столица Византийской империи.

Ответ: Константинополь|Царьград

196. Задание 32 № 4176. Рассмотрите схему и выполните задание.



Какие суждения, относящиеся к исторической ситуации, обозначенной на схеме, являются верными? Выберите три суждения из шести предложенных.

Запишите в таблицу цифры, под которыми они указаны.

- 1) Все походы военачальника, обозначенные на схеме, были удачными для него.
- 2) Военачальник, походы которого обозначены на схеме, вёл первую в истории Древнерусского государства войну с Византией.
- 3) Военачальник, походы которого обозначены на схеме, погиб во время возвращения с очередной войны.
- 4) В ходе походов, обозначенных на схеме, был разгромлен Хазарский каганат.
- 5) На схеме указано название народа, в бою с представителями которого погиб военачальник, чьи походы обозначены на схеме.
- 6) Согласно летописи военачальник, руководивший походами, обозначенными на схеме, принял христианство.

Пояснение.

1) Все походы военачальника, обозначенные на схеме, были удачными для него. (НЕТ, неверно последний поход против Византии закончился для Святослава неудачно)

2) Военачальник, походы которого обозначены на схеме, вёл первую в истории Древнерусского государства войну с Византией. (НЕТ, неверно в походы против Византии ходили и до Святослава: князья Олег и Игорь)

3) Военачальник, походы которого обозначены на схеме, погиб во время возвращения с очередной войны. (ДА, верно)

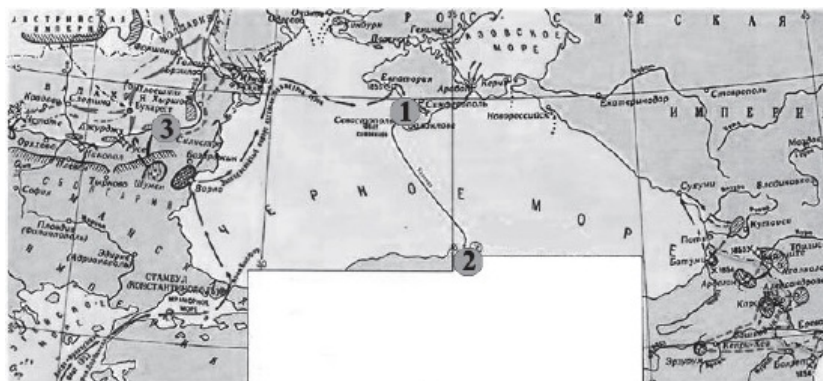
4) В ходе походов, обозначенных на схеме, был разгромлен Хазарский каганат. (ДА, верно)

5) На схеме указано название народа, в бою с представителями которого погиб военачальник, чьи походы обозначены на схеме. (ДА, верно. Святослава убили печенеги)

6) Согласно летописи военачальник, руководивший походами, обозначенными на схеме, принял христианство. (НЕТ, неверно Святослав никогда не был христианином, он оставался язычником).

Ответ: 345

197. Задание 29 № 2408. Рассмотрите схему и выполните задание



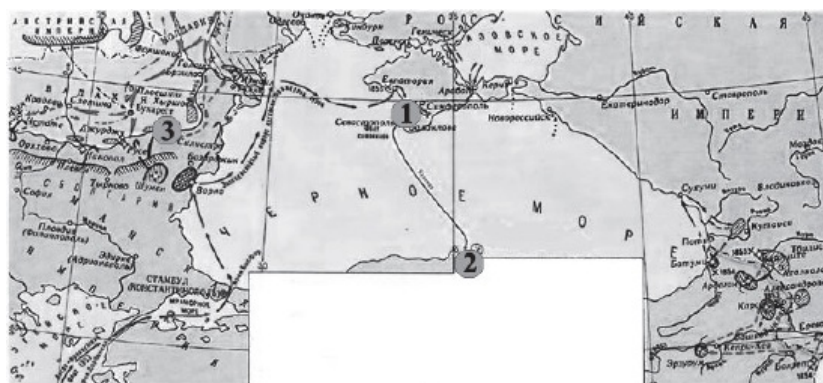
Напишите название события, изображённого на карте.

Пояснение.

В период Крымской войны 1853—1856 гг. военные действия шли на Балканах, в Закавказье и в Крыму. На карте изображены эти театры военных действий. Правильный ответ: Крымская война

Ответ: Крымская|Крымская война

198. Задание 30 № 2409. Рассмотрите схему и выполните задание



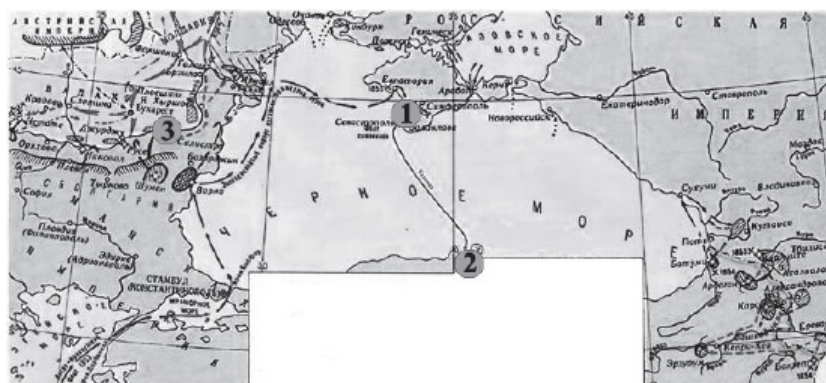
Напишите название города, защищая который погиб адмирал Нахимов.

Пояснение.

Нахимов, Корнилов, Истомин погибли при обороне Севастополя в период Крымской войны 1853—1856 гг.

Ответ: Севастополь

199. Задание 31 № 2410. Рассмотрите схему и выполните задание



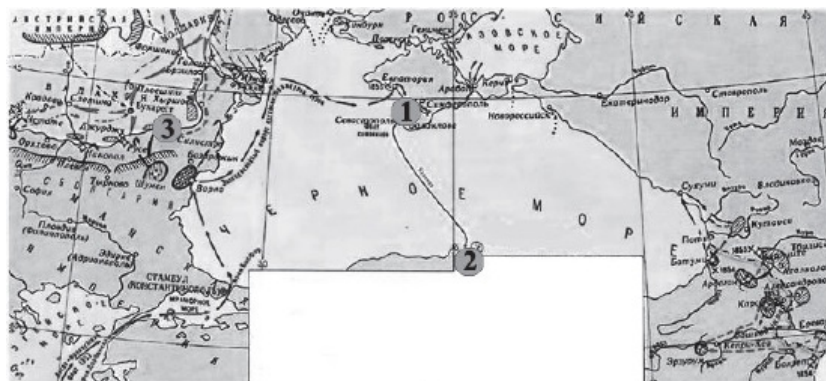
Напишите цифру, которой обозначено место последнего сражения парусных флотов.

Пояснение.

На карте обозначена под цифрой 2 Синопская бухта, где адмирал Нахимов разбил турецкий флот. Это было последнее крупное сражение парусного флота.

Ответ: 2

200. Задание 32 № 2411. Рассмотрите схему и выполните задание



Какие суждения, относящиеся к событиям, обозначенным на схеме, являются верными? Выберите три суждения из шести предложенных. Запишите в таблицу цифры, под которыми они указаны.

- 1) Участником войны был адмирал Ф. Ф. Ушаков.
- 2) Война завершилась подписанием Парижского мирного договора.
- 3) Соперниками России в войне были Франция и Австрия.
- 4) После войны в России наступила эпоха реформ.
- 5) Россия получила право контроля над проливом Босфор.
- 6) Во время войны в России произошла смена императоров

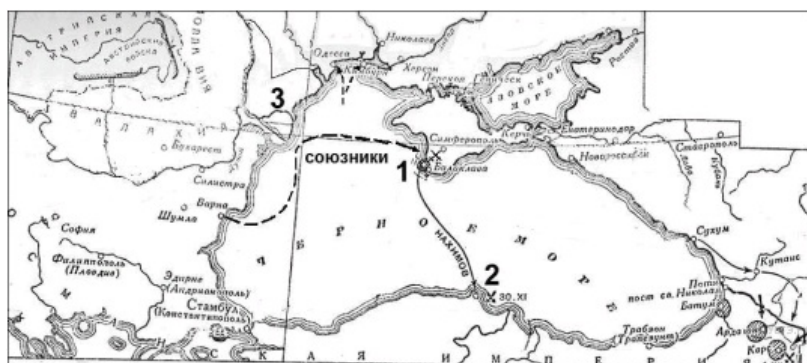
Пояснение.

На карте изображена Крымская война 1853–1856 гг. Война завершилась подписанием Парижского мира.

После войны в России наступила эпоха либеральных реформ, проводимых императором Александром II. Во время войны в 1855 г. умер император Николай I и на престол вступил император Александр II.

Ответ: 246

201. Задание 29 № 4738. Напишите название войны, события которой изображены на схеме.

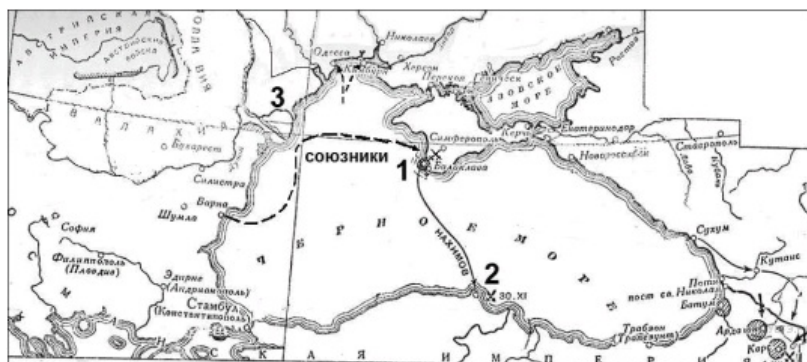


Пояснение.

На карте показана высадка союзного десанта в Крыму.

Ответ: Крымская

202. Задание 30 № 4739. Напишите название города, обозначенного на схеме цифрой «1».

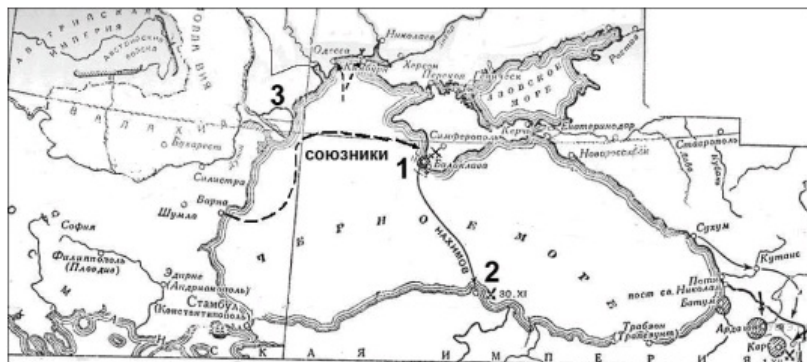


Пояснение.

Это Крымская война. Под цифрой 1 — Севастополь.

Ответ: Севастополь

203. Задание 31 № 4740. Напишите название бухты, где произошло одно из сражений данной войны, обозначенной на схеме цифрой «2».



Пояснение.

Под цифрой «2» обозначена Синопская бухта.

Ответ: Синопская

204. Задание 32 № 4741. Какие суждения, относящиеся к событиям, связанным со схемой, являются верными? Выберите три суждения из шести предложенных. Запишите в таблицу цифры, под которыми они указаны.



- 1) союзником России в этой войне была Австрийская империя
- 2) одним из соперников России в этой войне была Франция
- 3) в ходе войны сменился правитель России
- 4) обозначенная на схеме цифрой «3» территория была присоединена к России по итогам войны
- 5) сражение в бухте, обозначенной на схеме цифрой «2», стало последним крупным сражением парусного флота.
- 6) русские войска в период этой войны возглавлял А. В. Суворов

Пояснение.

1) Союзником России в этой войне была Австрийская империя Неверно, у России не было союзников в этой войне.

2) Одним из соперников России в этой войне была Франция Да, Франция высадила десант в Крыму вместе с англичанами.

3) В ходе войны сменился правитель России. Да, после смерти Николая I, на престол взошел его сын Александр II.

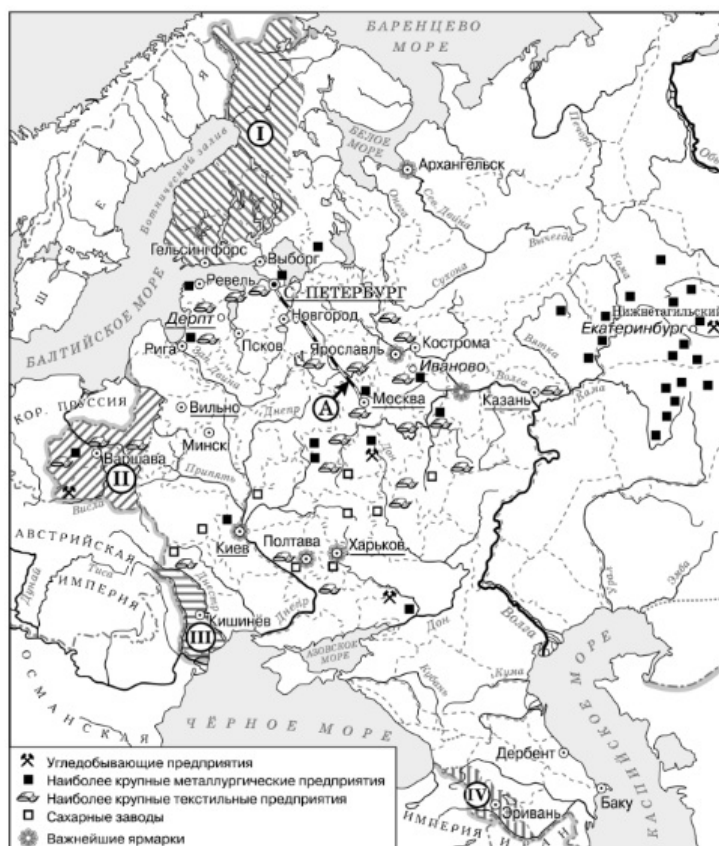
4) Обозначенная на схеме цифрой «3» территория была присоединена к России по итогам войны. Нет, мы войну проиграли и ничего не получили.

5) Сражение в бухте, обозначенной на схеме цифрой «2», стало последним крупным сражением парусного флота. Да верно.

6) Русские войска в период этой войны возглавлял А. В. Суворов. Нет, Суворов умер в 1800 г. и не видел этого позора.

Ответ: 235

205. Задание 29 № 3453. Рассмотрите схему и выполните задания



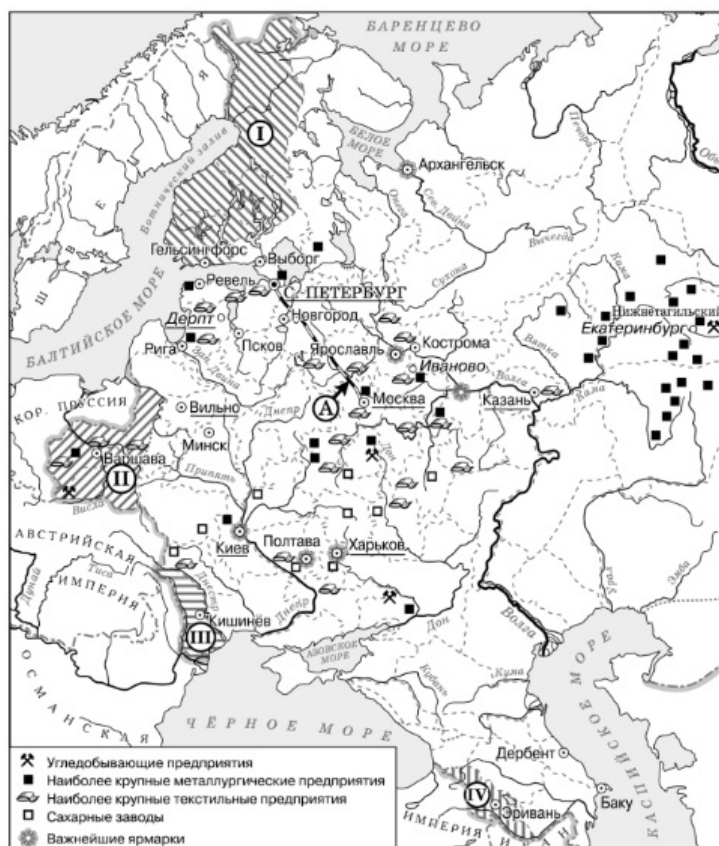
Напишите название города, где состоялся конгресс, по решению которого в состав Российской империи вошла территория, обозначенная цифрой «II»

Пояснение.

Территория Польши вошла в состав России по решению Венского мирного конгресса.

Ответ: Вена

206. Задание 30 № 3454. Рассмотрите схему и выполните задания



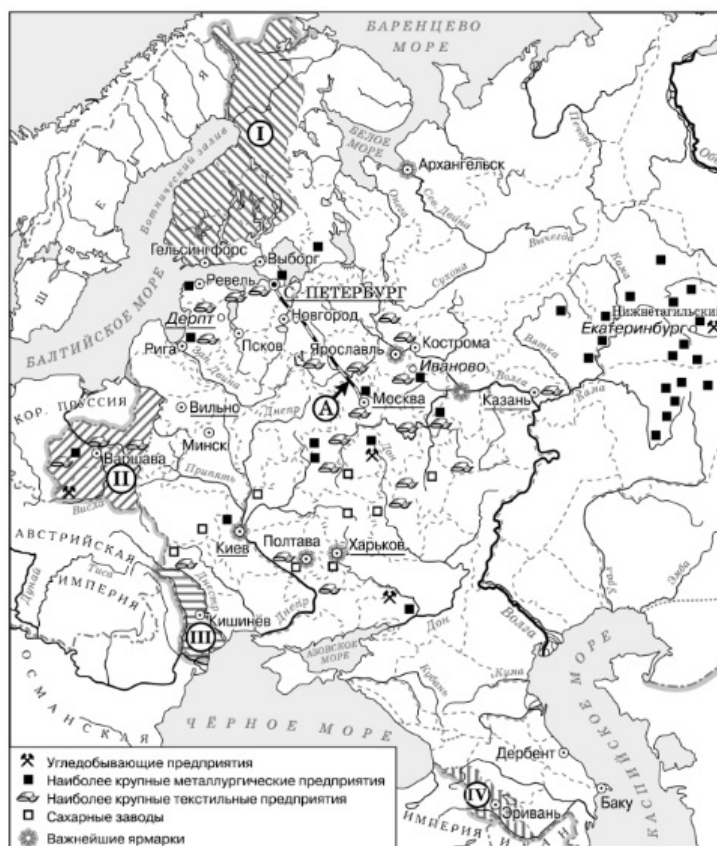
Назовите императора, в годы правления которого в состав Российской империи вошла территория, обозначенная на схеме цифрой «I».

Пояснение.

Территория Финляндии (I), вошла в состав России при императоре Александре I.

Ответ: Александр I|АлександрПервый

207. Задание 31 № 3455. Рассмотрите схему и выполните задания



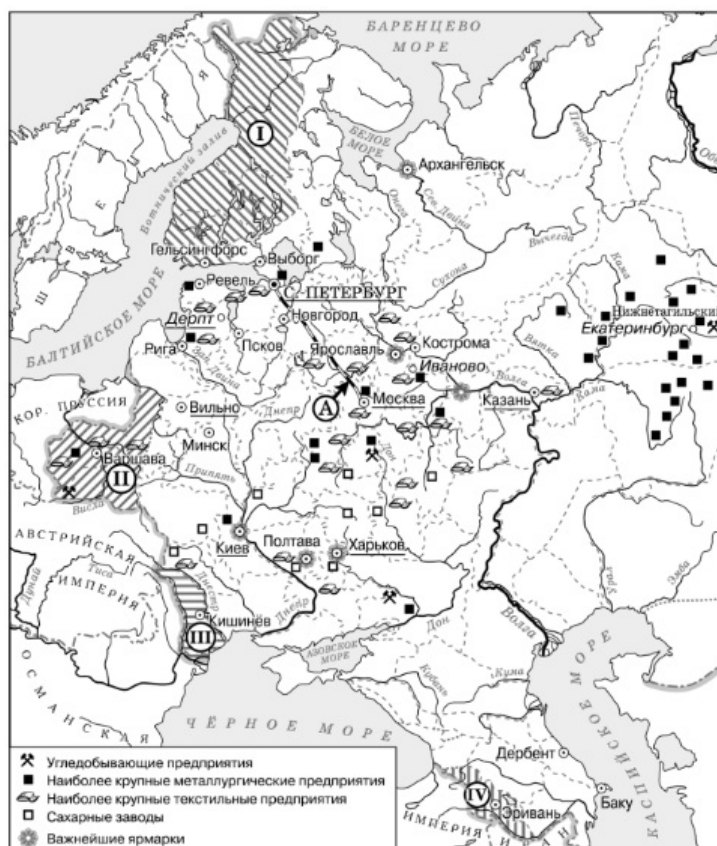
Назовите императора, в годы правления которого был построен объект, обозначенный на схеме буквой «А».

Пояснение.

На схеме буквой А обозначена железная дорога Москва- Санкт-Петербург, построенная при Николае I.

Ответ: Николай I|Николай Первый.

208. Задание 32 № 3456. Рассмотрите схему и выполните задания



Какие суждения, относящиеся к данной схеме, являются верными? Выберите три суждения из шести предложенных. Запишите в таблицу цифры, под которыми они указаны.

1) В подготовке и подписании мирного договора, по которому в состав Российской империи вошла территория, обозначенная на схеме цифрой «IV», участвовал А. С. Грибоедов.

2) Территория, обозначенная на схеме цифрой «I», была присоединена к России в результате русско-шведской войны.

3) Присоединение территории, обозначенной на схеме цифрой «III», произошло в 1829 г.

4) Большинство текстильных предприятий, согласно схеме, находилось в центральном районе страны.

5) Объект, обозначенный на схеме буквой «А», был первым подобным объектом, построенным в России.

6) Промышленное освоение района, в котором, согласно схеме, отмечается наибольшая концентрация металлургических предприятий, началось только в первой половине XIX в.

Пояснение.

В подготовке и подписании мирного договора (Туркманчайский мирный договор), по которому в состав Российской империи вошла территория, обозначенная на схеме цифрой «IV», участвовал А. С. Грибоедов.

В 1809 г. в состав России вошла Финляндия в результате победы в русско-шведской войне.

Бессарабия была присоединена к России в 1812 г;

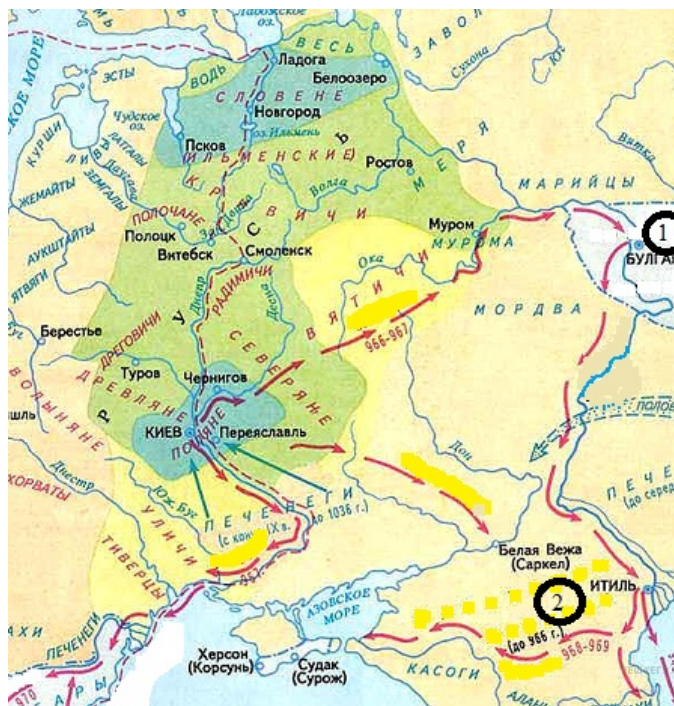
Большинство текстильных предприятий, согласно схеме, находилось в центральном районе страны.

Объект, обозначенный на схеме буквой «А», не был первым подобным объектом, построенным в России (первая железная дорога Петербург — Царское Село).

Промышленное освоение района, в котором, согласно схеме, отмечается наибольшая концентрация металлургических предприятий, началось значительно раньше чем в в первой половине XIX в. (первая половина XVIII в.).

Ответ: 124

209. Задание 29 № 2144. Рассмотрите схему и выполните задание



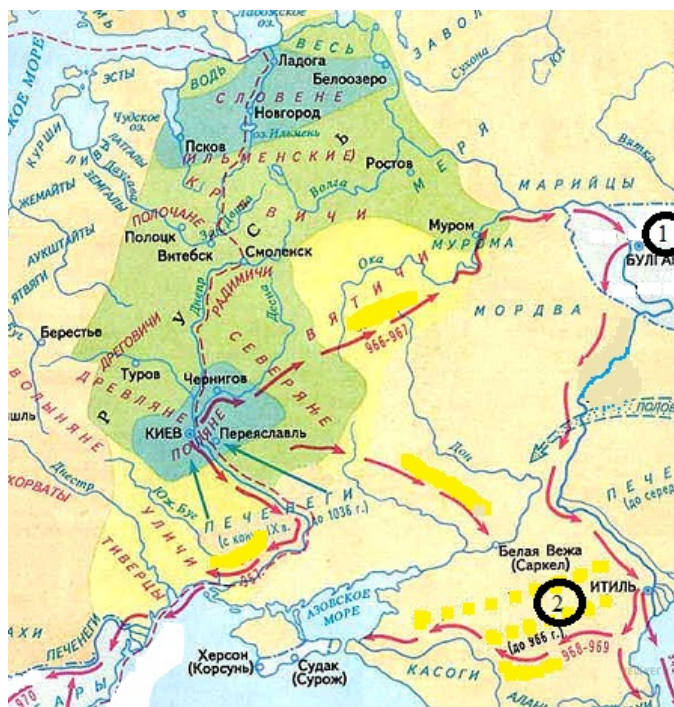
Назовите имя великого Киевского князя, чьи завоевательные походы указаны стрелками.

Пояснение.

Стрелками показаны походы Киевского князя Святослава.

Ответ: Святослав

210. Задание 30 № 2145. Рассмотрите схему и выполните задание



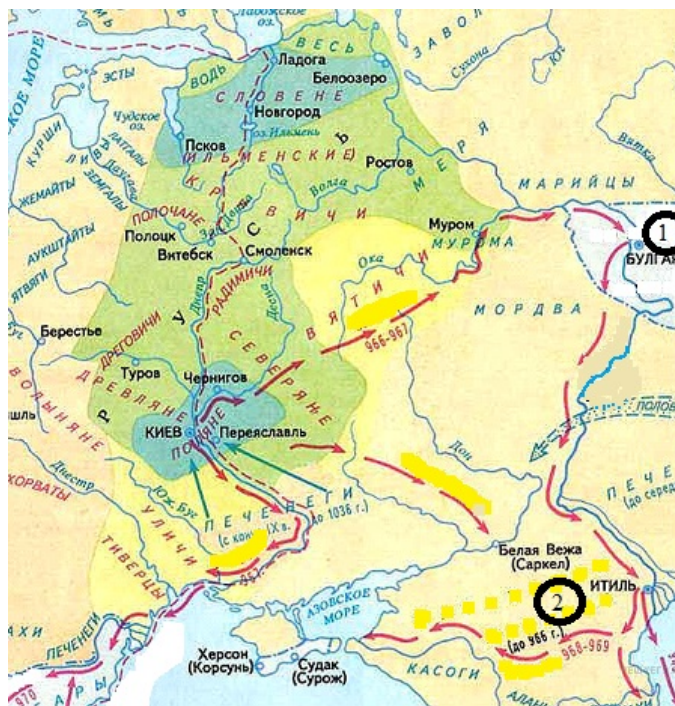
Напишите название государства, обозначенного на схеме цифрой «1».

Пояснение.

Страна — Волжская Булгария.

Ответ: Волжская Булгария

211. Задание 31 № 2146. Рассмотрите схему и выполните задание



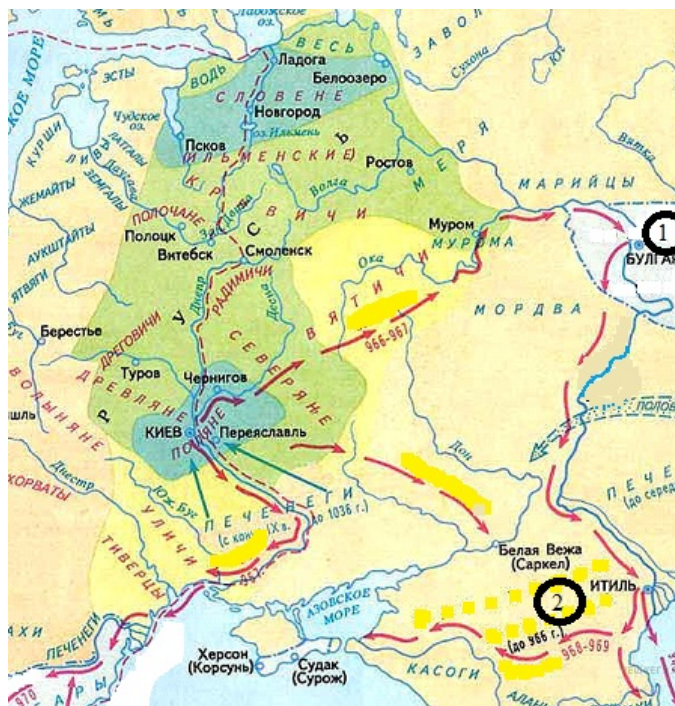
Напишите название государства, обозначенного на схеме цифрой «2».

Пояснение.

В 966 г. в результате похода Святослава был разгромлен Хазарский каганат. Здесь под цифрой «2».

Ответ: Хазарский каганат|Хазарское царство

212. Задание 32 № 2147. Рассмотрите схему и выполните задание



Какие суждения, относящиеся к походам князя, обозначенным на схеме, являются верными. Выберите три суждения из шести предложенных. Запишите в таблицу цифры, под которыми они указаны.

1) Киевский князь, чьи походы указаны на карте, разгромил и уничтожил Хазарский каганат

- 2) врагами Древнерусского государства на степных границах в первой половине X в. были половцы
- 3) во время одного из походов Киевский князь заложил город-крепость Корсунь
- 4) указанные на карте походы укрепили могущество Киевской Руси
- 5) Киевскому князю не удалось перенести столицу государства на Дунай
- 6) одновременно с завоеванием новых земель великий Киевский князь распространял христианство к востоку от Руси

Пояснение.

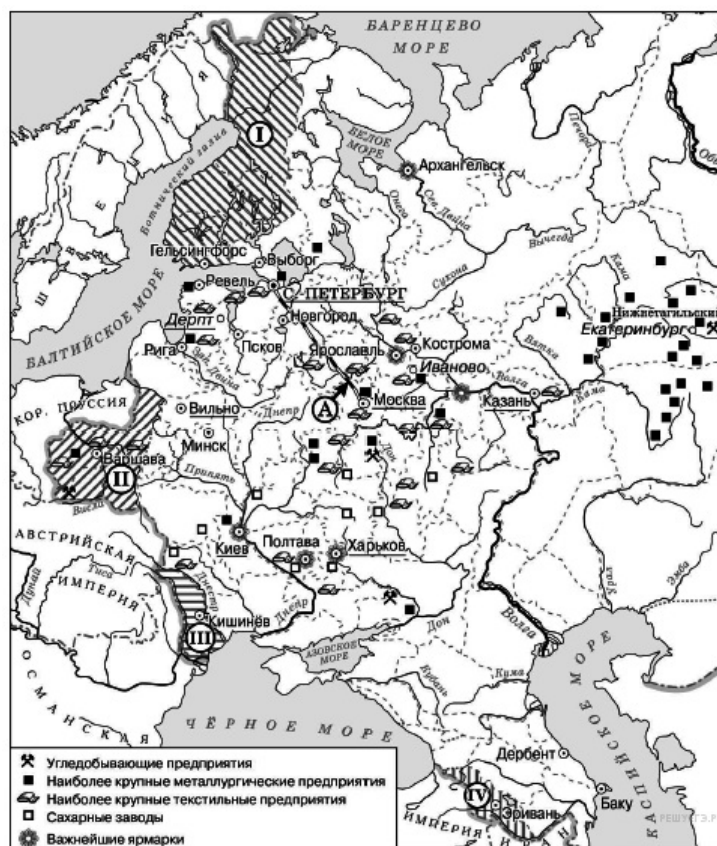
1) Киевский князь, чьи походы указаны на карте, разгромил и уничтожил Хазарский каганат;

4) указанные на карте походы укрепили могущество Киевской Руси;

5) Киевскому князю не удалось перенести столицу государства на Дунай.

Ответ: 145

213. Задание 29 № 5702. Укажите название географического региона России, где было сконцентрировано большинство крупных металлургических предприятий.

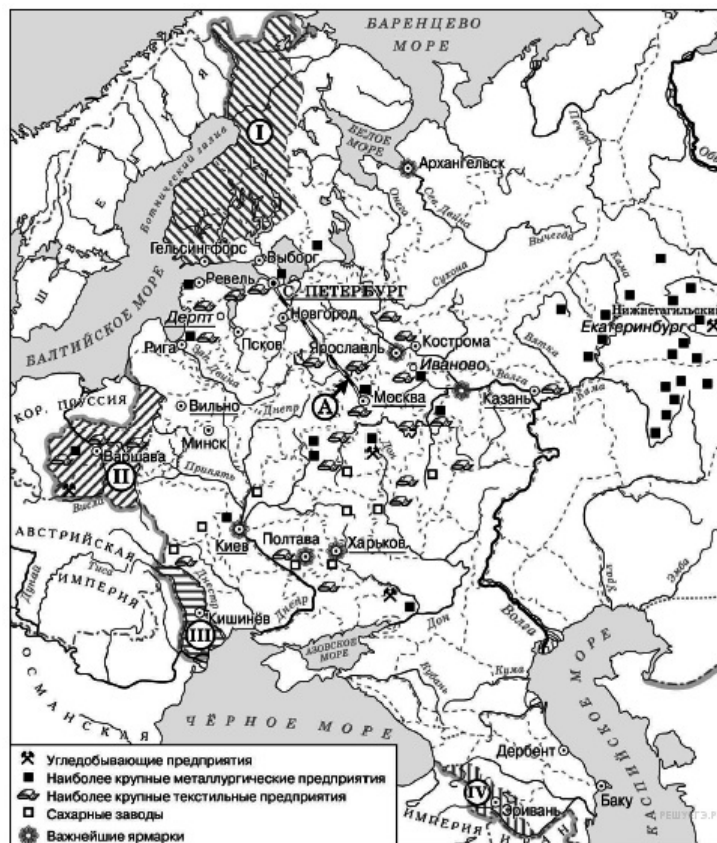


Пояснение.

Нижнетагильский, Екатеринбург относятся к Уралу.

Ответ: Урал

214. Задание 32 № 5703. Какие суждения, относящиеся к схеме, являются верными? Выберите три суждения из шести предложенных. Запишите в таблицу цифры, под которыми они указаны.



- 1) Железная дорога, обозначенная на схеме буквой «А», была построена в 1830-х гг.
- 2) Территории, обозначенные на схеме цифрами «I» и «II», были присоединены к Российской империи в период правления одного и того же императора.
- 3) Территория, обозначенная на схеме цифрой «III», была присоединена к России в результате войны с Австрийской империей.
- 4) В Полтаве находилась одна из важнейших российских ярмарок.
- 5) Все города, обозначенные на схеме, сохранили свои названия до наших дней.
- 6) На территории, обозначенной на схеме цифрой «II», в XIX в. произошли два крупных восстания.

Пояснение.

1) Железная дорога, обозначенная на схеме буквой «А», была построена в 1830-х гг. НЕТ, неверно. 13 февраля 1842 года Николай I подписал указ о строительстве железной дороги Санкт-Петербург - Москва. Уже в 1851 году из Петербурга отправился первый поезд. В 1855 году, после кончины императора, железная дорога получила название Николаевской, а в 1923 была переименована в Октябрьскую.

2) Территории, обозначенные на схеме цифрами «I» и «II», были присоединены к Российской империи в период правления одного и того же императора. ДА, верно. При Александре I

3) Территория, обозначенная на схеме цифрой «III», была присоединена к России в результате войны с Австрийской империей. НЕТ, неверно, после победы над Турцией в 1812г

4) В Полтаве находилась одна из важнейших российских ярмарок. ДА, верно.

5) Все города, обозначенные на схеме, сохранили свои названия до наших дней. НЕТ, неверно Гельсингфорс - Хельсинки. Ревель - Таллин.

6) На территории, обозначенной на схеме цифрой «II», в XIX в. произошли два крупных восстания. ДА, верно

Правильный ответ: 246

Ответ: 246

215. Задание 33 № 5704. Рассмотрите изображение и выполните задание



Какие суждения о данном почтовом блоке являются верными? Выберите два суждения из пяти предложенных. Запишите в таблицу цифры, под которыми они указаны.

- 1) Данный почтовый блок выпущен в период «перестройки» в СССР.
- 2) Одной из армий, подписанных на карте, помещённой на почтовом блоке, командовал В. И. Чуйков.
- 3) Автором монумента, изображённого на почтовом блоке, является Е. В. Вучетич.
- 4) Участником битвы, которой посвящён почтовый блок, был В. Г. Клочков.
- 5) В битве, которой посвящён почтовый блок, принимала участие З. А. Космодемьянская.

Пояснение.

1) Данный почтовый блок выпущен в период «перестройки» в СССР. НЕТ, неверно в 2002г

2) Одной из армий, подписанных на карте, помещённой на почтовом блоке, командовал В. И. Чуйков. ДА, верно.

3) Автором монумента, изображённого на почтовом блоке, является Е. В. Вучетич. ДА, верно.

4) Участником битвы, которой посвящён почтовый блок, был В. Г. Клочков. НЕТ, неверно

5) В битве, которой посвящён почтовый блок, принимала участие З. А. Космодемьянская. НЕТ, неверно

Правильный ответ: 23

Ответ: 23

216. Задание 34 № 5705. Укажите плакат, созданный в период войны, событиям которой посвящён почтовый блок. В ответе запишите цифру, которой этот плакат обозначен.



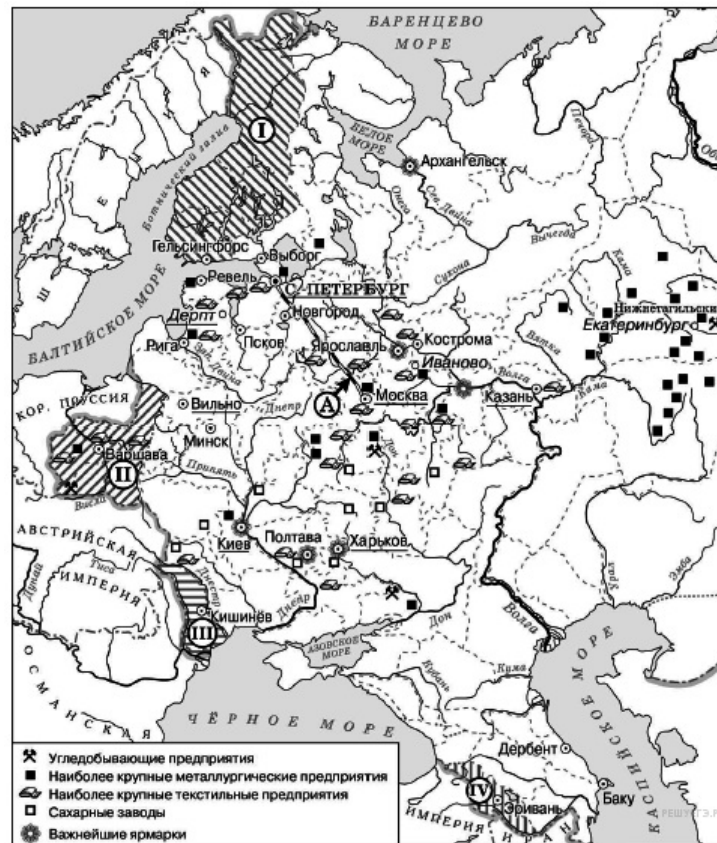
Пояснение.

Великой Отечественной посвящен плакат 4, 23 Гражданской, 1 Первой мировой.

Правильный ответ: 4

Ответ: 4

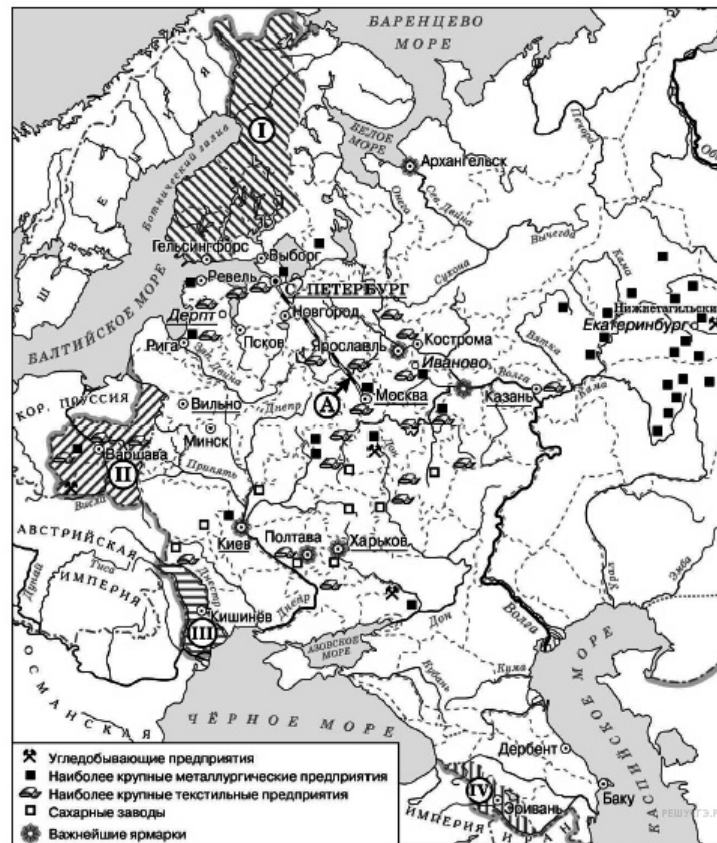
217. Задание 29 № 5701. Назовите императора, в период правления которого к Российской империи была присоединена территория, обозначенная на схеме цифрой «IV».



Пояснение.

Эриванское и Нахичеванское ханства были присоединены при Николае I
 Ответ: Николай Первый

218. Задание 29 № 5702. Укажите название географического региона России, где было сконцентрировано большинство крупных металлургических предприятий.

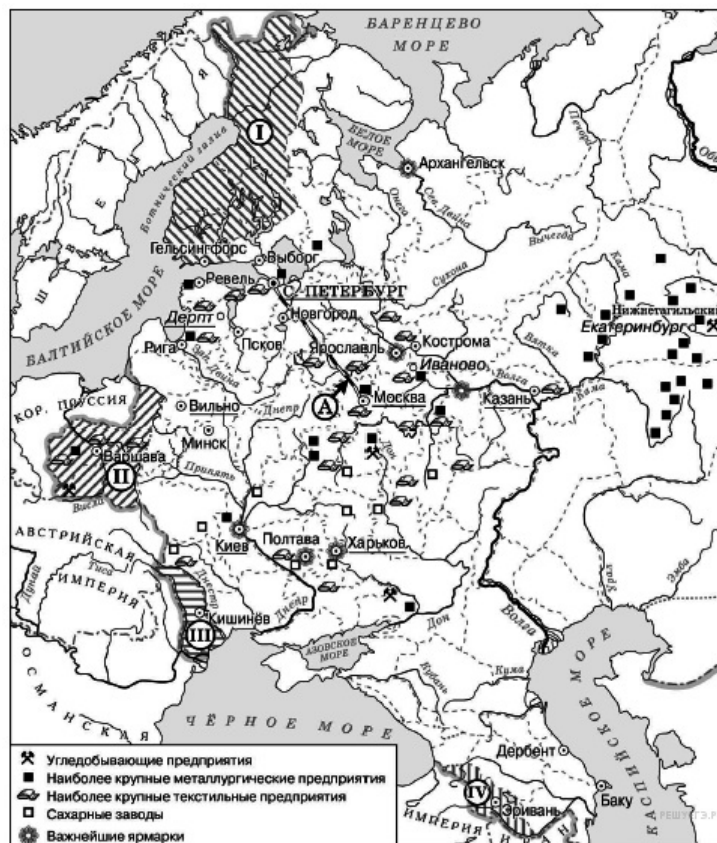


Пояснение.

Нижнетагильский, Екатеринбург относятся к Уралу.

Ответ: Урал

219. Задание 32 № 5703. Какие суждения, относящиеся к схеме, являются верными? Выберите три суждения из шести предложенных. Запишите в таблицу цифры, под которыми они указаны.



- 1) Железная дорога, обозначенная на схеме буквой «А», была построена в 1830-х гг.
- 2) Территории, обозначенные на схеме цифрами «I» и «II», были присоединены к Российской империи в период правления одного и того же императора.
- 3) Территория, обозначенная на схеме цифрой «III», была присоединена к России в результате войны с Австрийской империей.
- 4) В Полтаве находилась одна из важнейших российских ярмарок.
- 5) Все города, обозначенные на схеме, сохранили свои названия до наших дней.
- 6) На территории, обозначенной на схеме цифрой «II», в XIX в. произошли два крупных восстания.

Пояснение.

1) Железная дорога, обозначенная на схеме буквой «А», была построена в 1830-х гг. НЕТ, неверно. 13 февраля 1842 года Николай I подписал указ о строительстве железной дороги Санкт-Петербург - Москва. Уже в 1851 году из Петербурга отправился первый поезд. В 1855 году, после кончины императора, железная дорога получила название Николаевской, а в 1923 была переименована в Октябрьскую.

2) Территории, обозначенные на схеме цифрами «I» и «II», были присоединены к Российской империи в период правления одного и того же императора. ДА, верно. При Александре I

3) Территория, обозначенная на схеме цифрой «III», была присоединена к России в результате войны с Австрийской империей. НЕТ, неверно, после победы над Турцией в 1812г

4) В Полтаве находилась одна из важнейших российских ярмарок. ДА, верно.

5) Все города, обозначенные на схеме, сохранили свои названия до наших дней. НЕТ, неверно Гельсингфорс - Хельсинки. Ревель - Таллин.

6) На территории, обозначенной на схеме цифрой «II», в XIX в. произошли два крупных восстания. ДА, верно

Правильный ответ: 246

Ответ: 246

220. Задание 33 № 5704. Рассмотрите изображение и выполните задание



Какие суждения о данном почтовом блоке являются верными? Выберите два суждения из пяти предложенных. Запишите в таблицу цифры, под которыми они указаны.

- 1) Данный почтовый блок выпущен в период «перестройки» в СССР.
- 2) Одной из армий, подписанных на карте, помещённой на почтовом блоке, командовал В. И. Чуйков.
- 3) Автором монумента, изображённого на почтовом блоке, является Е. В. Вучетич.
- 4) Участником битвы, которой посвящён почтовый блок, был В. Г. Клочков.
- 5) В битве, которой посвящён почтовый блок, принимала участие З. А. Космодемьянская.

Пояснение.

1) Данный почтовый блок выпущен в период «перестройки» в СССР. НЕТ, неверно в 2002г

2) Одной из армий, подписанных на карте, помещённой на почтовом блоке, командовал В. И. Чуйков. ДА, верно.

3) Автором монумента, изображённого на почтовом блоке, является Е. В. Вучетич. ДА, верно.

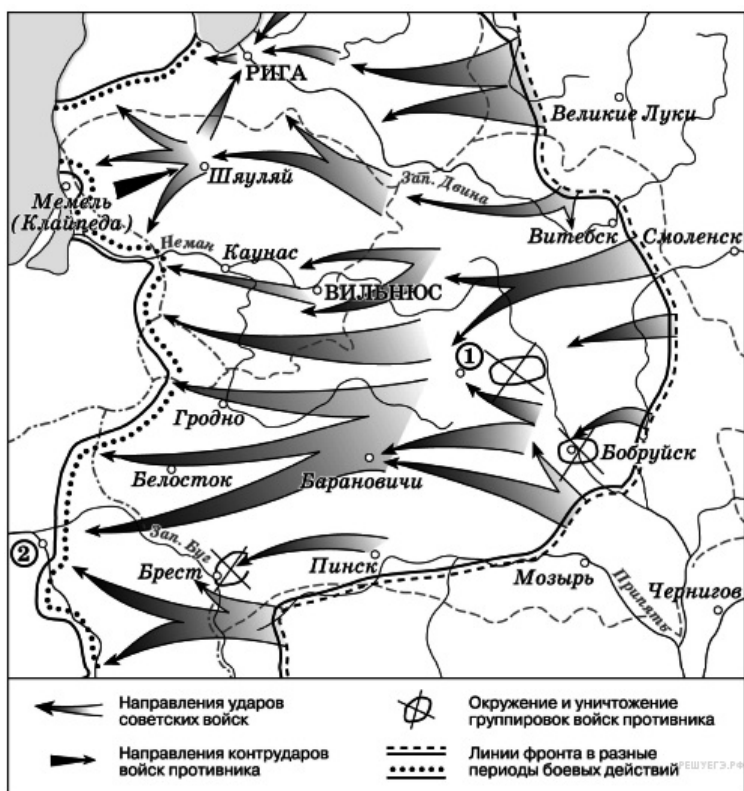
4) Участником битвы, которой посвящён почтовый блок, был В. Г. Клочков. НЕТ, неверно

5) В битве, которой посвящён почтовый блок, принимала участие З. А. Космодемьянская. НЕТ, неверно

Правильный ответ: 23

Ответ: 23

221. Задание 29 № 3973. Рассмотрите схему событий одного из периодов Великой Отечественной войны и выполните задание



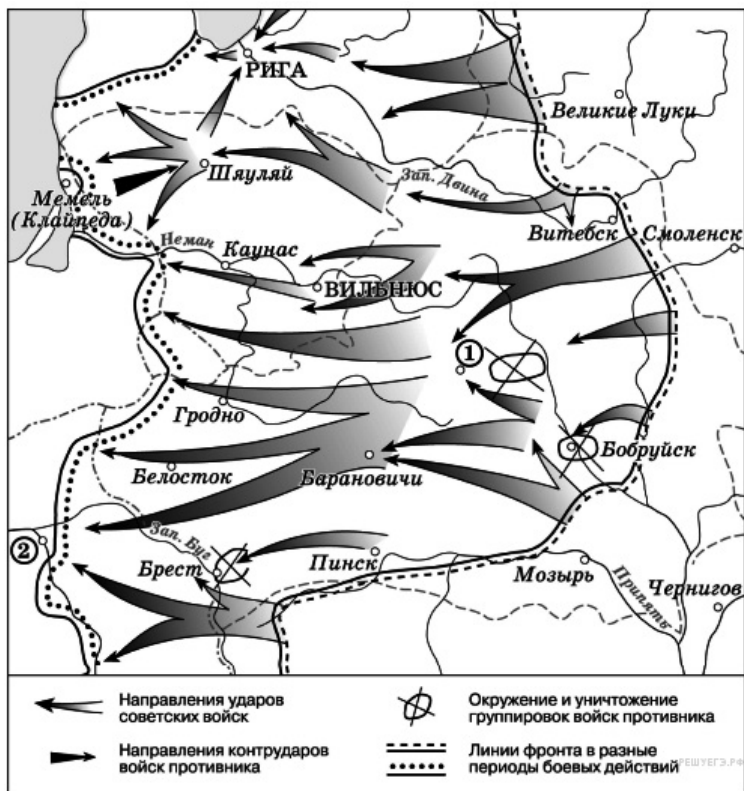
Продолжите фразу: «События, обозначенные на схеме стрелками, начались в тысяча девять-
сот _____ году».

Пояснение.

Это Белорусская операция. Проходила летом 1944 г.

Ответ: сорокчетвертом

222. Задание 30 № 3974. Рассмотрите схему событий одного из периодов Великой Отечественной войны и выполните задание



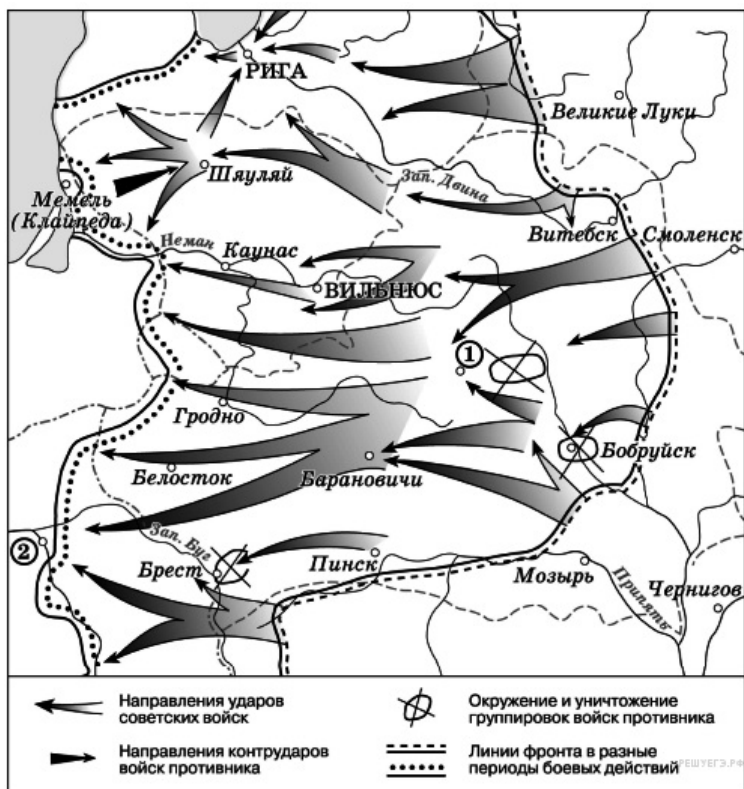
Укажите название города, обозначенного на схеме цифрой «1».

Пояснение.

Цифрой «1» обозначен город Минск.

Ответ: Минск

223. Задание 31 № 3975. Рассмотрите схему событий одного из периодов Великой Отечественной войны и выполните задание



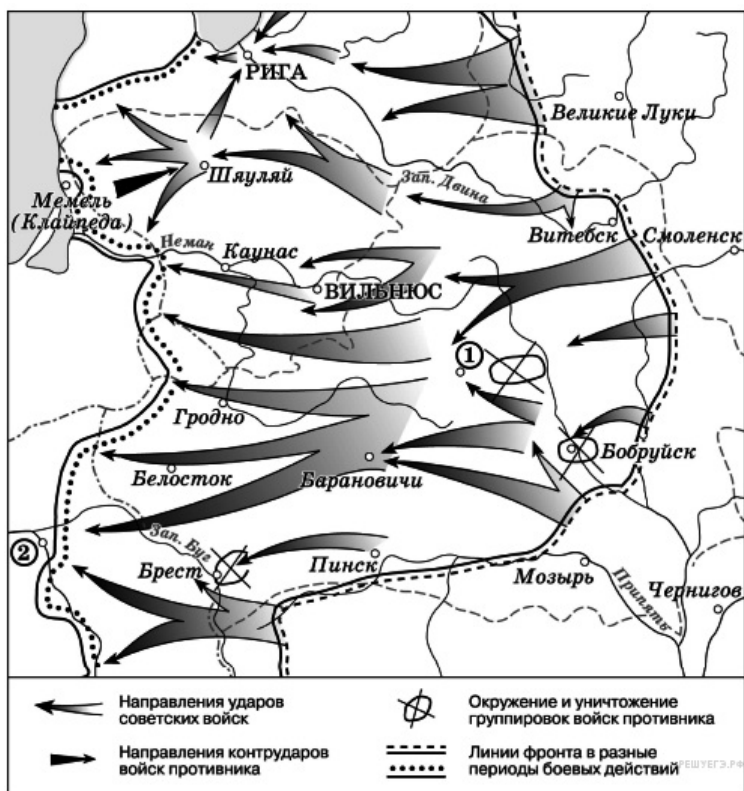
Укажите название столицы государства, обозначенной на схеме цифрой «2».

Пояснение.

Цифрой два обозначена Польша. Её столица Варшава.

Ответ: Варшава

224. Задание 32 № 3976. Рассмотрите схему событий одного из периодов Великой Отечественной войны и выполните задание



Какие суждения, относящиеся к событиям, обозначенным на схеме, являются верными? Выберите три суждения из шести предложенных. Запишите в таблицу цифры, под которыми они указаны.

- 1) События, обозначенные на схеме, являются частью коренного перелома в ходе Великой Отечественной войны.
- 2) События, обозначенные на схеме, произошли после открытия союзниками Второго фронта в Европе
- 3) На схеме обозначены действия Красной армии в ходе проведения операции «Уран».
- 4) Город Кенигсберг был взят Красной армией в ходе событий, обозначенных на данной схеме.
- 5) На схеме обозначены действия Красной армии в ходе проведения операции «Багратион».
- 6) В ходе событий, обозначенных на схеме, территория Белорусской ССР была полностью освобождена от немецко-фашистских захватчиков.

Пояснение.

1) События, обозначенные на схеме, являются частью коренного перелома в ходе Великой Отечественной войны. (НЕТ, коренной перелом завершился в ходе Курской битвы)

2) События, обозначенные на схеме, произошли после открытия союзниками Второго фронта в Европе (ДА, верно, союзники открыли второй фронт 6 июня 1944 г. Белорусская операция началась 23 июня)

3) На схеме обозначены действия Красной армии в ходе проведения операции «Уран». (НЕТ, «Уран» называлась операция в ходе Сталинградской битвы)

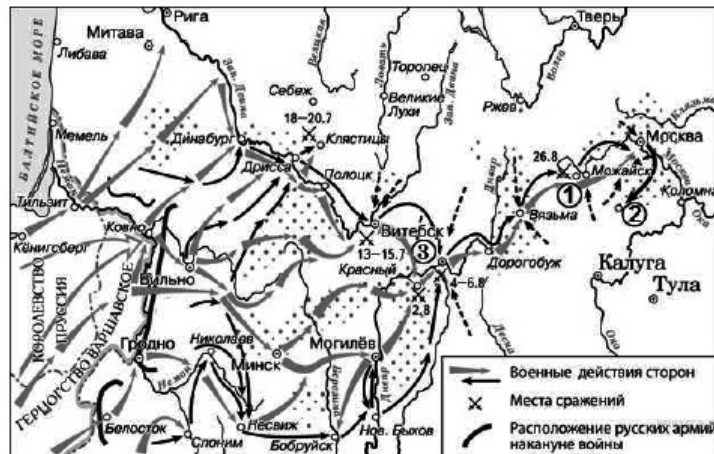
4) Город Кенигсберг был взят Красной армией в ходе событий, обозначенных на данной схеме. (НЕТ, Кенигсберг был освобожден позже)

5) На схеме обозначены действия Красной армии в ходе проведения операции «Багратион». (ДА, верно)

6) В ходе событий, обозначенных на схеме, территория Белорусской ССР была полностью освобождена от немецко-фашистских захватчиков. (ДА, верно)

Ответ: 256

225. Задание 29 № 5662. Укажите фамилию главнокомандующего русской армией, когда она находилась у населённого пункта, обозначенного на схеме цифрой «2».

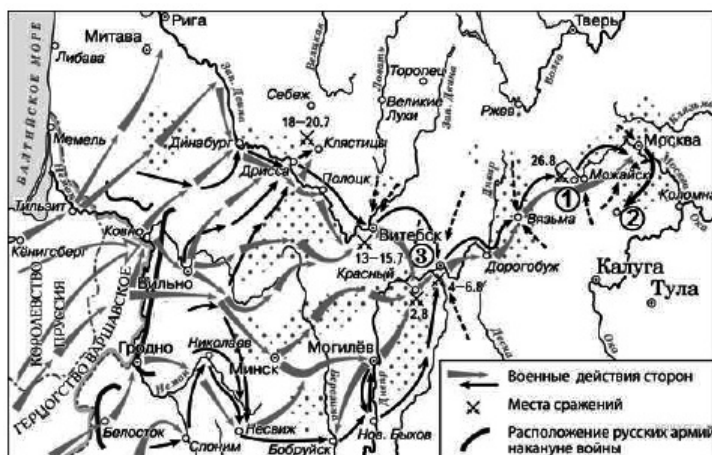


Пояснение.

Армией у Тарутино командовал Кутузов.

Ответ: Кутузов

226. Задание 32 № 5663. Какие суждения, относящиеся к схеме, являются верными? Выберите три суждения из шести предложенных. Запишите в таблицу цифры, под которыми они указаны.



- 1) Цифрой «3» на схеме обозначен Смоленск.
- 2) Русской армией, располагавшейся в начале событий, обозначенных на схеме стрелками, в районе Вильно, командовал П. И. Багратион.
- 3) Город Полоцк был захвачен армией противника в период боевых действий, обозначенных на схеме стрелками.
- 4) На схеме обозначена столица Российской империи в период, когда произошли события, которым посвящена схема.
- 5) На схеме обозначена только часть событий данной войны.
- 6) События, обозначенные на схеме стрелками, произошли весной.

Пояснение.

- 1) Цифрой «3» на схеме обозначен Смоленск. ДА, верно
- 2) Русской армией, располагавшейся в начале событий, обозначенных на схеме стрелками, в районе Вильно, командовал П. И. Багратион. НЕТ, неверно, Барклай
- 3) Город Полоцк был захвачен армией противника в период боевых действий, обозначенных на схеме стрелками. ДА, верно.
- 4) На схеме обозначена столица Российской империи в период, когда произошли события, которым посвящена схема. НЕТ, неверно, Санкт-Петербурга нет на схеме.
- 5) На схеме обозначена только часть событий данной войны. ДА, верно. Только отступление русской армии.
- 6) События, обозначенные на схеме стрелками, произошли весной. НЕТ, неверно с июня по сентябрь.

Правильный ответ: 135.

Ответ: 135

227. Задание 33 № 5664. Рассмотрите изображение и выполните задание



Какие суждения о данной карикатуре являются верными? Выберите два суждения из пяти предложенных. Запишите в таблицу цифры, под которыми они указаны.

- 1) Данная карикатура отражает взгляды большевиков на события Гражданской войны в России.
- 2) Карикатура высмеивает нейтралитет стран Запада по отношению к событиям в России.
- 3) Один из военачальников, чьи фамилии указаны на карикатуре, был провозглашён Верховным правителем России.
- 4) Россия никогда не входила в военный блок, название которого указано на карикатуре.
- 5) Все военачальники, фамилии, которых указаны погибли в годы Гражданской войны.

Пояснение.

- 1) Данная карикатура отражает взгляды большевиков на события Гражданской войны в России. ДА, верно
- 2) Карикатура высмеивает нейтралитет стран Запада по отношению к событиям в России. НЕТ, неверно, не было нейтралитета, они помогали белым.
- 3) Один из военачальников, чьи фамилии указаны на карикатуре, был провозглашён Верховным правителем России. ДА, Колчак.
- 4) Россия никогда не входила в военный блок, название которого указано на карикатуре. НЕТ, неверно, входила в Антанту
- 5) Все военачальники, фамилии, которых указаны погибли в годы Гражданской войны. НЕТ, неверно.

Правильный ответ: 13.

Ответ: 13

228. Задание 34 № 5665. Укажите памятник, посвящённый событиям той же войны, которой посвящена карикатура. В ответе запишите цифру, которой этот памятник обозначен.




1)



2)



3)



4)



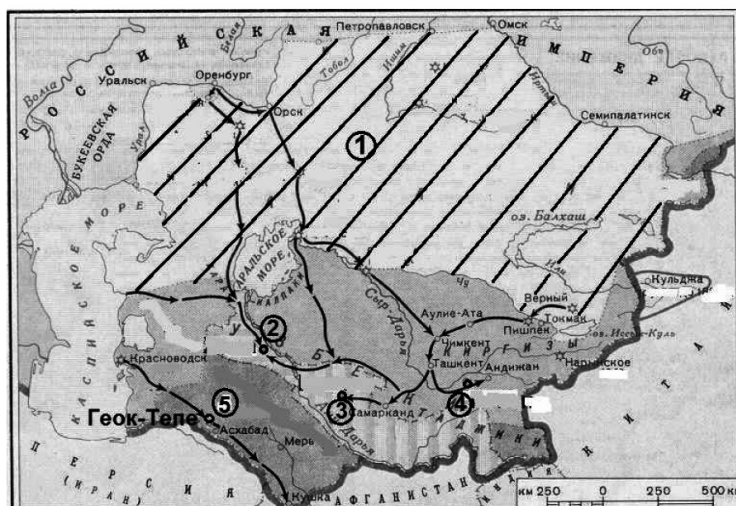
Пояснение.

134 посвящены Великой Отечественной, и только 2 Гражданской, Это памятник в Ростове на Дону.

Правильный ответ: 2.

Ответ: 2

229. Задание 29 № 5444. Рассмотрите схему и выполните задание



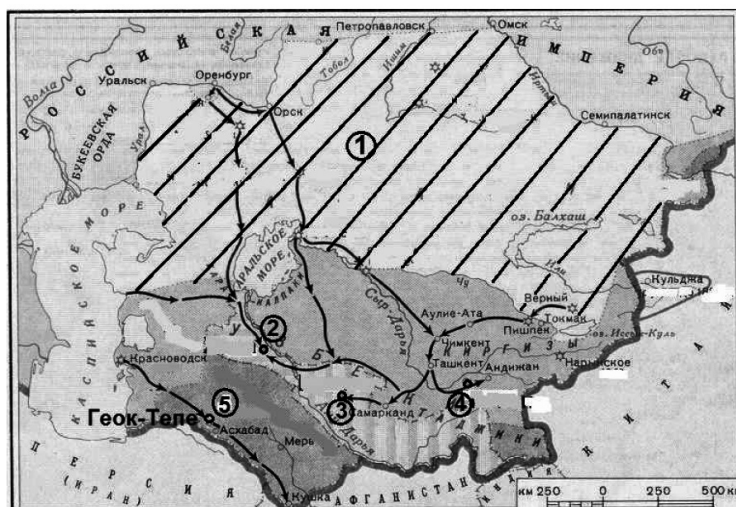
Назовите императора, при котором были подчинены России территории, обозначенные на схеме цифрами «2», «3» и «4».

Пояснение.

Это присоединение к России Средней Азии при Александре II
 правильный ответ: Александр II

Ответ: Александр Второй

230. Задание 29 № 5445. Рассмотрите схему и выполните задание



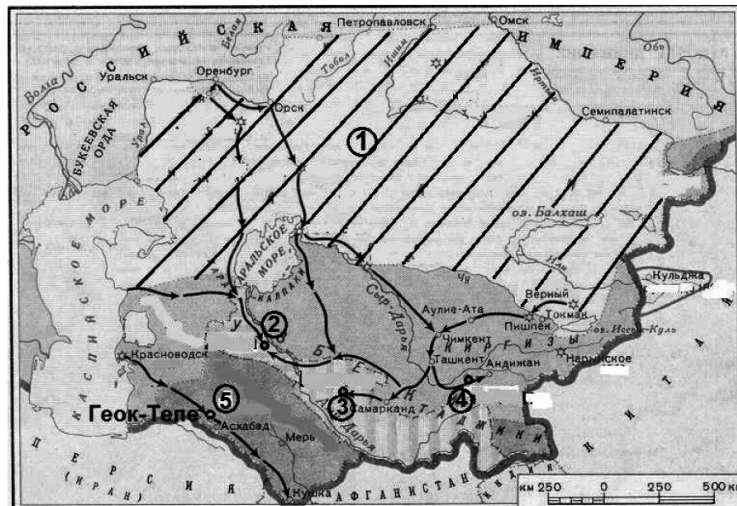
Напишите фамилию русского полководца, возглавлявшего военную операцию, в результате которой была взята крепость, обозначенная на схеме номером «5».

Пояснение.

Геок-Тепе взял генерал Скобелев

Ответ: Скобелев|Михаил Скобелев

231. Задание 29 № 5446. Рассмотрите схему и выполните задание



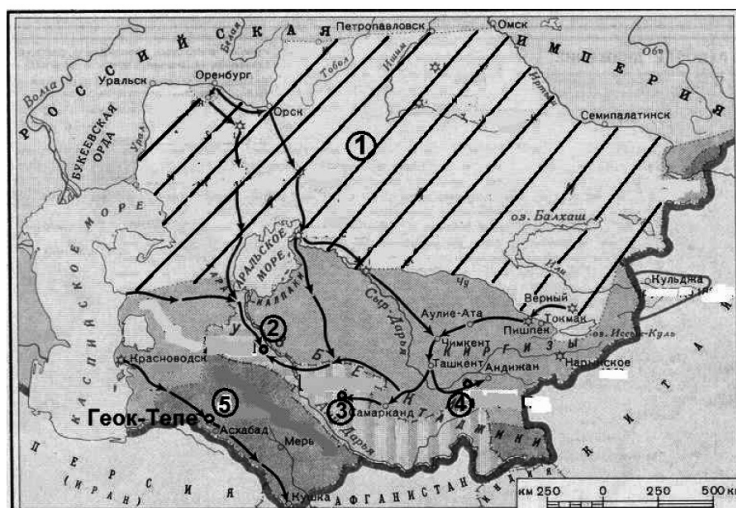
Напишите название народа, населявшего земли, одним из центров которых была крепость, обозначенная на схеме номером «5».

Пояснение.

В районе оазиса Гео́к-Тепе жили племена текинцев или туркменов.

Ответ: текинцы|туркмены

232. Задание 32 № 5447. Рассмотрите схему и выполните задание



Какие суждения, относящиеся к событиям, обозначенным на схеме, являются верными? Выберите три суждения из шести предложенных. Запишите в таблицу цифры, под которыми они указаны.

- 1) Заштрихованная территория, обозначенная цифрой «1», была в основном присоединена к России к 1850-м гг.
- 2) Одним из русских военачальников, участвовавших в завоевании территорий, центры которых обозначены на схеме цифрами «2», «3» и «4», был П.И. Багратион.
- 3) Одной из территорий, центры которых обозначены на схеме цифрами «2», «3» и «4», был Бухарский эмират.
- 4) Одной из сложностей, с которыми столкнулись русские войска при завоевании данных территорий, было хорошее техническое оснащение войск противника.
- 5) Одним из преобразований, проведённых русскими властями на территориях, центры которых обозначены на схеме цифрами «2», «3» и «4», была отмена рабства.
- 6) Главным европейским соперником России в контроле над данным регионом была Франция.

Пояснение.

1) Заштрихованная территория, обозначенная цифрой «1», была в основном присоединена к России к 1850-м гг. Да, верно

2) Одним из русских военачальников, участвовавших в завоевании территорий, центры которых обозначены на схеме цифрами «2», «3» и «4», был П.И. Багратион. НЕТ, Багратион уже не было в живых

3) Одной из территорий, центры которых обозначены на схеме цифрами «2», «3» и «4», был Бухарский эмират. Да, верно, Бухара под цифрой 4.

4) Одной из сложностей, с которыми столкнулись русские войска при завоевании данных территорий, было хорошее техническое оснащение войск противника. НЕТ, неверно

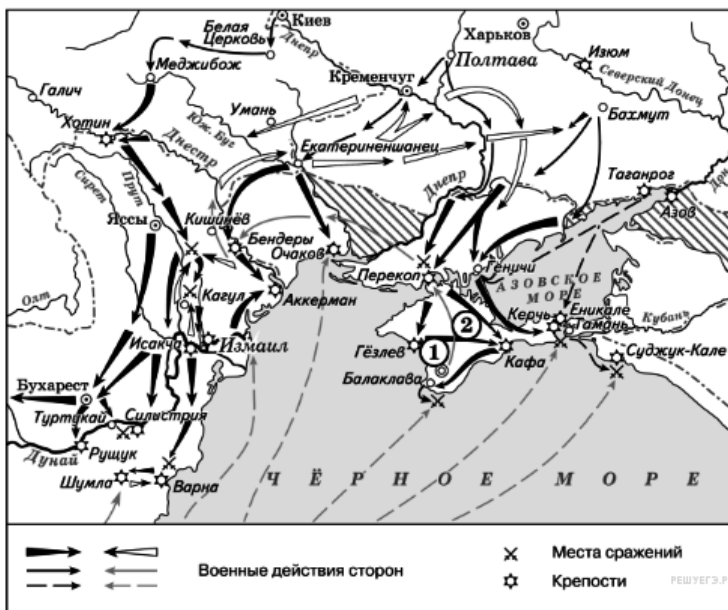
5) Одним из преобразований, проведённых русскими властями на территориях, центры которых обозначены на схеме цифрами «2», «3» и «4», была отмена рабства. ДА, верно.

6) Главным европейским соперником России в контроле над данным регионом была Франция. НЕТ, Англия претендовала на этот регион

Правильный ответ: 135

Ответ: 135

233. Задание 29 № 3653. Рассмотрите схему и выполните задания



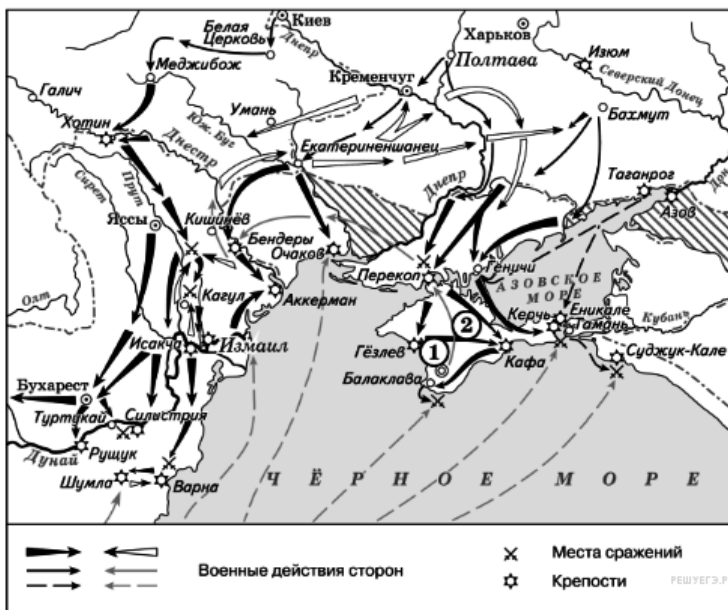
Назовите монарха, в чьё правление шла война, события которой обозначены на данной схеме.

Пояснение.

Это русско-турецкая война 1768–1774 гг. Россией управляла Екатерина II.

Ответ: Екатерина|ЕкатеринаII|ЕкатеринаВторая

234. Задание 30 № 3654. Рассмотрите схему и выполните задания



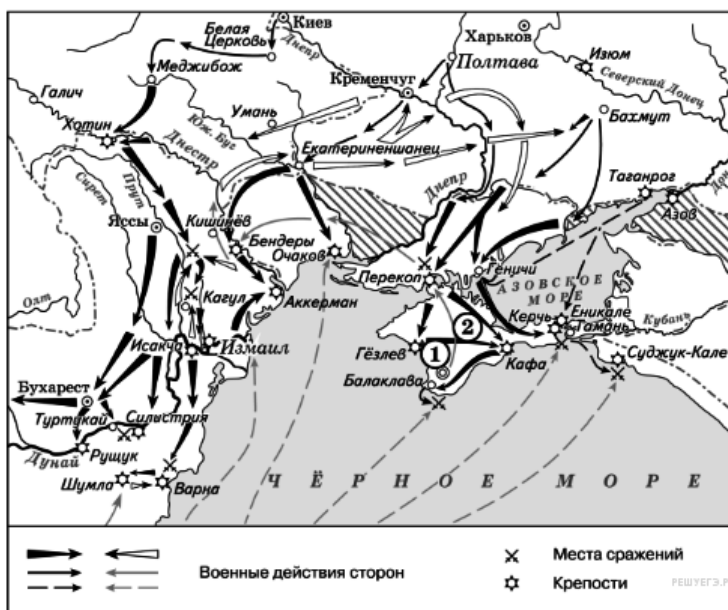
Назовите фамилию государственного деятеля, получившего почётный титул за присоединение и освоение территорий, обозначенных на схеме цифрой «2».

Пояснение.

Присоединением и освоением Крыма занимался Потемкин получивший за это титул князя Таврического.

Ответ: Потемкин|Потемкин-Таврический|Потёмкин

235. Задание 31 № 3655. Рассмотрите схему и выполните задания



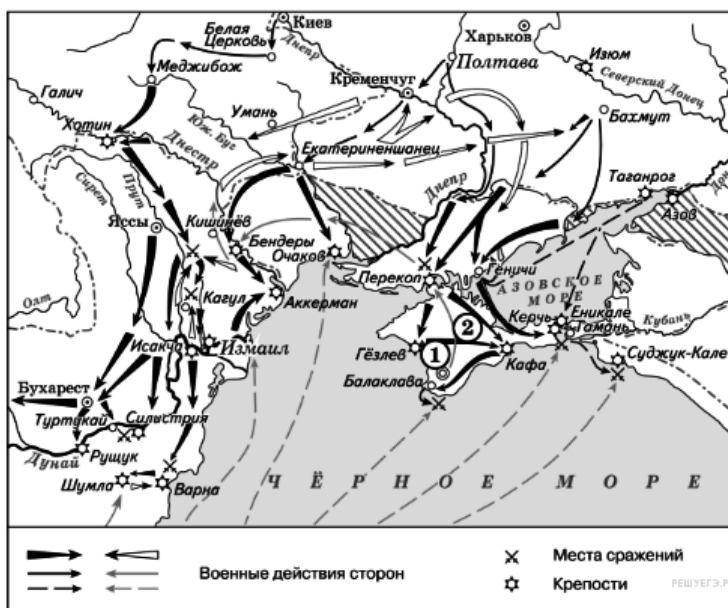
Напишите название государства, которое было основным противником России в войне, события которой изображены на данной схеме.

Пояснение.

Главным противником России была Турция или Османская империя.

Ответ: Турция|Османская империя

236. Задание 32 № 3656. Рассмотрите схему и выполните задания



Какие суждения, относящиеся к событиям, обозначенным на схеме, являются верными? Выберите три суждения из шести предложенных. Запишите в таблицу цифры, под которыми они указаны.

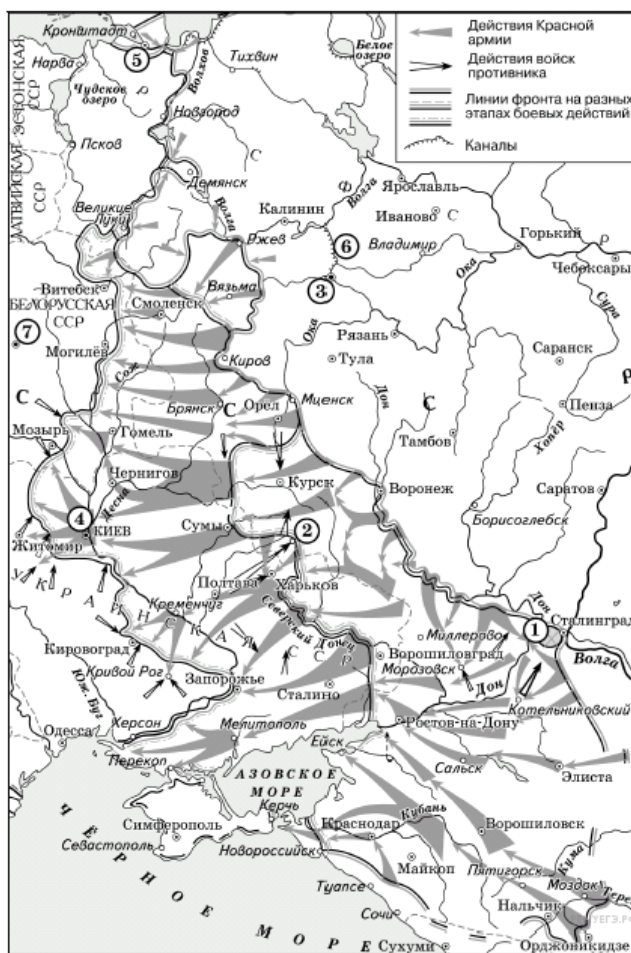
- 1) В результате этой войны Россия утратила заштрихованные на схеме территории.
- 2) Начало войны, события которой изображены на данной схеме, стало предлогом для прекращения деятельности Уложенной комиссии.
- 3) После завершения войны, события которой обозначены на данной схеме, Россия стала империей.
- 4) Мирный договор, завершивший войну, события которой обозначены на данной схеме, был подписан в городе, отмеченном цифрой «1».
- 5) Следствием войны, события которой изображены на данной схеме, стало получение Россией выхода к Чёрному морю.
- 6) Участниками событий данной войны были А. Орлов и П. Румянцев.

Пояснение.

Русско-турецкая война 1768-1774 гг. положила конец работе Уложенной комиссии. В результате победы в этой войне Россия не теряла территорий а получила выход к Черному морю. Героями этой войны стали Румянцев (Рымник, Кагул) граф Орлов (Чесма).

Ответ: 256

237. Задание 29 № 4898. Заполните пропуск в предложении: «Город, обозначенный на схеме цифрой "7", был освобождён от фашистов в тысяча девятьсот _____ г.». Ответ запишите словом (словосочетанием).

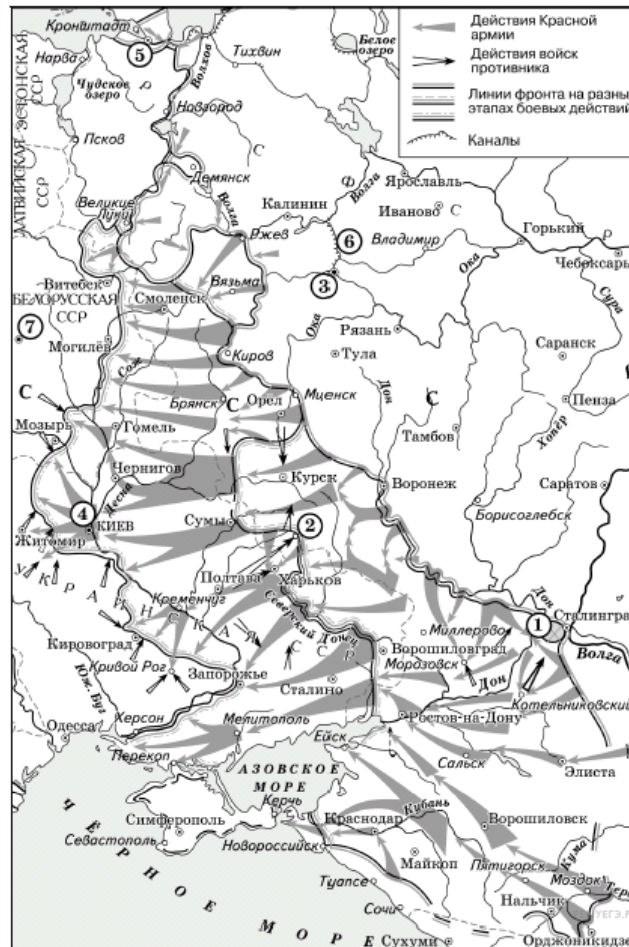


Пояснение.

Под цифрой 7 обозначен Минск. Он был освобожден в 1944 г.

Ответ: 44|сорокчетвертом

238. Задание 30 № 4899. Укажите месяц, когда от фашистов был освобождён город, обозначенный на схеме цифрой «2».

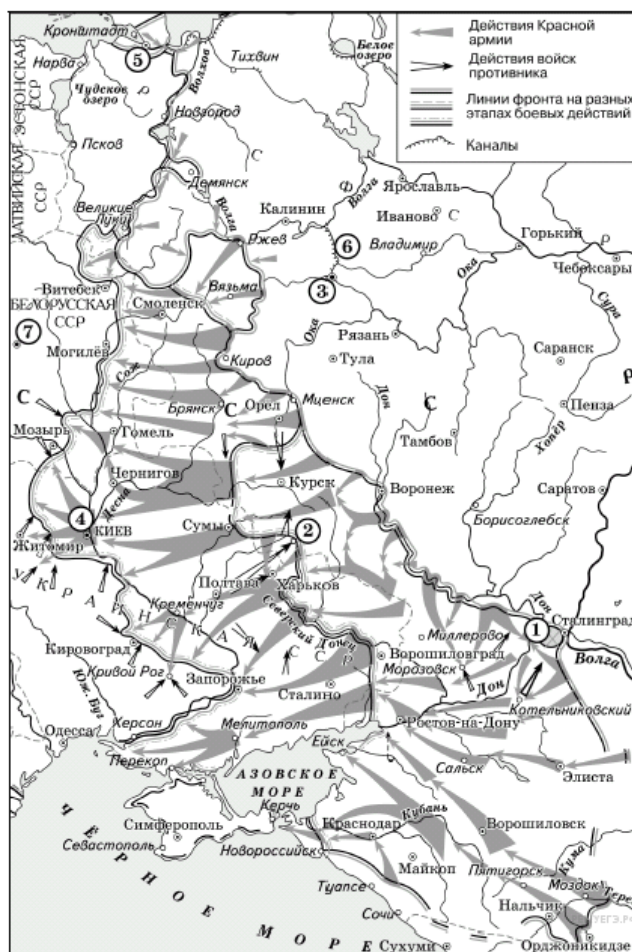


Пояснение.

Под цифрой 2 обозначен Белгород, он освобожден в августе 1943 г.

Ответ: август

239. Задание 31 № 4900. Укажите название операции по уничтожению окружённой немецкой группировки, обозначенной на схеме цифрой «1».

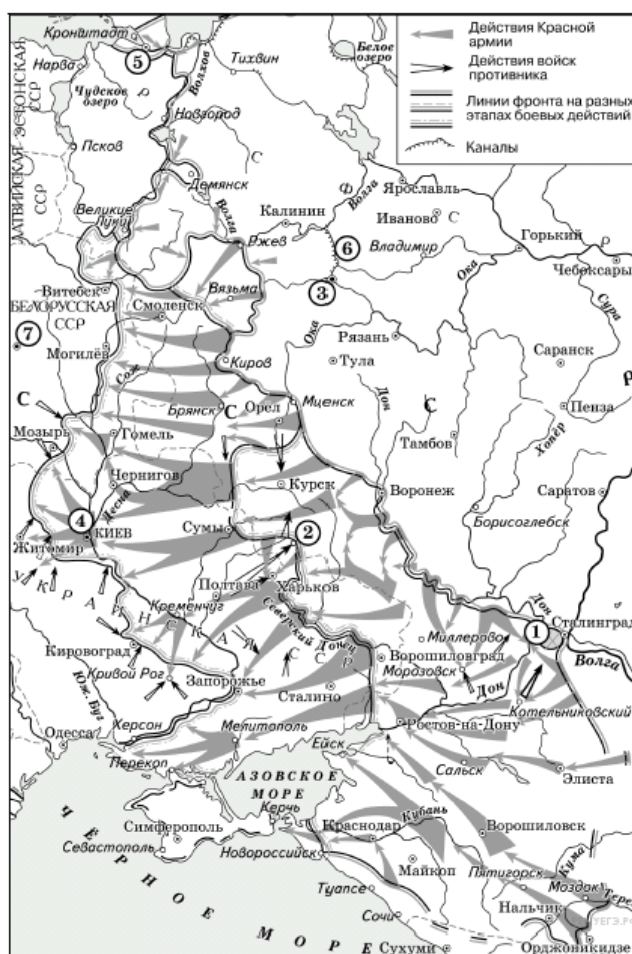


Пояснение.

Группировка немцев, окруженная в Сталинграде, была уничтожена в ходе операции Кольцо.

Ответ: Кольцо

240. Задание 32 № 4901. Какие суждения, относящиеся к данной схеме, являются верными? Выберите три суждения из шести предложенных. Запишите в таблицу цифры, под которыми они указаны.



- 1) Операция советских войск в районе, обозначенном на схеме цифрой «4», началась в осенний период.
- 2) В период событий, обозначенных на схеме стрелками, полностью была снята блокада с города, обозначенного на схеме цифрой «5».
- 3) Город, обозначенный на схеме цифрой «3», в ходе событий, предшествующих обозначенным на схеме стрелками, был захвачен фашистами.
- 4) Строительство канала, обозначенного на схеме цифрой «6», началось в 1930-е гг.
- 5) Более двух городов, обозначенных на схеме, в настоящее время имеют другие названия.
- 6) На данной схеме обозначена территория Польши.

Пояснение.

1) Операция советских войск в районе, обозначенном на схеме цифрой «4», началась в осенний период. Да, верно, Киев освободили в ноябре 1943 г.

2) В период событий, обозначенных на схеме стрелками, полностью была снята блокада с города, обозначенного на схеме цифрой «5». НЕТ, неверно. Блокада Ленинграда была снята в январе 1944 г, а на карте обозначены военные операции до 1944 г.

3) Город, обозначенный на схеме цифрой «3», в ходе событий, предшествующих обозначенным на схеме стрелками, был захвачен фашистами. НЕТ, неверно. Под цифрой 3 — Москва.

4) Строительство канала, обозначенного на схеме цифрой «6», началось в 1930-е гг. ДА, верно.

5) Более двух городов, обозначенных на схеме, в настоящее время имеют другие названия. ДА, верно. Сталинград, Ворошиловград, Сталино — сейчас имеют другие названия.

6) На данной схеме обозначена территория Польши. Нет, неверно.

Ответ: 145